



Sınıfımın
basketbolcusu

3. SINIF 1. DÖNEM 1. HAFTA

Adı:
Soyadı:

1.



Apartmanımız üç katlıdır. Her katında iki daire bulunmaktadır. Birinci kattaki dairelerde amcamlar ve biz oturuyoruz. Üçüncü katta doktorlar, diğer kat- ta ise öğretmenler otur- maktadır.

Yukarıdaki metne göre aşağıdakilerden hangisi söylenemez?

- A. Apartmanda 3 kat vardır.
- B. Üçüncü katta doktorlar vardır.
- C. İkinci katta amcamlar oturmaktadır.

2.

bardak

.....

elma

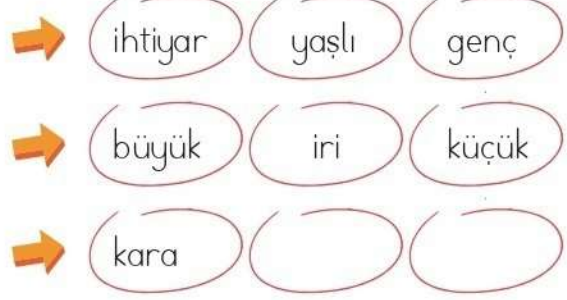
Yukarıdaki sözcükler alfabetik sıraya göre dizilmiştir. Buna göre boş alana hangi sözcük gelemez?

- A. biber
- B. dolma
- C. fare

3. Aşağıdaki sözcüklerden hangisinde "-ye" hecesi yoktur?

- A. yelek
- B. yelken
- C. bilye

4.



Yukarıdaki sözcükler belli bir kurala göre dizilmiştir. Bu kurala göre boşluk- lara sırasıyla hangi sözcükler gelme- lidir?

- A. beyaz - ak
- B. siyah - beyaz
- C. karanlık - ışık

e
n
e
s
s
e
r
t

5.



Yaman, okuyla seseş sözcüklerin bulun- duğu balonları patlatmıştır. Buna göre Yaman kaç balon patlatmıştır?

- A. 5
- B. 4
- C. 6



3. SINIF 1. DÖNEM 1. HAFTA

6. Pazardan muz aldım.
 Öğretmenimi iyi dinledim.
 Her gün kitap okurum.

Yukarıda verilen kutularda cümlelerin harf sayıları yazılacaktır. Buna göre hangi seçenek doğrudur?

- A. 15 B. 16 C. 16
 20 22 21
 16 17 18

7. üç yüz elli dört 910
 iki yüz on sekiz 627
 dokuz yüz on 218
 354

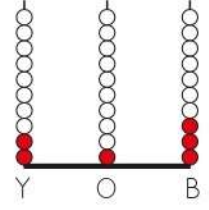
Yukarıda verilen sayılarla okunuşları eşleştirildiğinde hangi sayı dışarıda kalır?

- A. 627 B. 910 C. 354

8. Üç basamaklı 7★★ sayısının basamaklarındaki rakamların sayı değerleri toplamı 19'dur. Buna göre ★ yerine yazılacak rakam kaçtır?

- A. 5 B. 7 C. 6

9. Yandaki abaküste verilen sayının okunuşu aşağıdakilerden hangisidir?



- A. iki bir üç
B. iki yüz üç
C. iki yüz on üç

10. Aşağıdakilerden hangisinin onlar basamağı farklı bir rakamdan oluşmaktadır?

- A. Altı yüz altmış sekiz
B. Beş yüz seksen iki
C. Altı yüz seksen yedi

11.

650

370

220

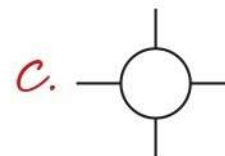
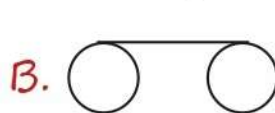

410

100

464

Bahar, kardeşi Emir ile bir oyun oynamak istemektedir. Oyunun kuralları şu şekildedir:

- Bahar 6 tane üç basamaklı sayı yazacaktır.
 - Emir yüzler basamağı 5'ten büyük her sayı için bir daire, onlar basamağı 3'ten küçük olan her sayı için bir çizgi kullanarak bir resim oluşturacaktır.
- Yukarıdaki bilgilere göre Emir'in çizdiği resim hangisi olabilir?





3. SINIF 1. DÖNEM 1. HAFTA

12.

	Birlik
	Onluk
	Yüzlük

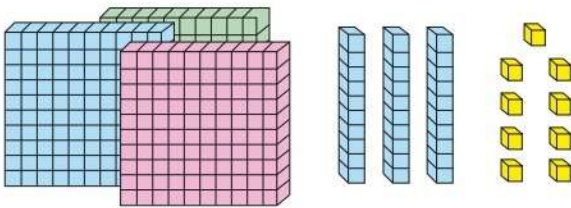
Yukarıdaki bilgilere göre aşağıdakilerden hangisi "iki yüz on üç" sayısına karşılık gelir?

- A.
- B.
- C.

13. 646 sayısındaki tekrar eden rakamların basamak değerleri toplamı kaçtır?

- A. 66 B. 606 C. 660

14.



Yukarıda modellenen sayı kaçtır?

- A. 933 B. 396 C. 339

15.



Yukarıda verilen cisimlerden kaç tanesi Dünya'nın şekline örnek olarak verilebilir?

- A. 4 B. 3 C. 2

16.



Yukarıdaki görselleri gösteren bir öğretmen hangi olayı anlatıyor olabilir?

- A. Dünya düz olduğu için gemi bir süre sonra aşağı düşmüştür.
- B. Dünya kare şeklinde olduğu için geminin bir kısmı gözükmektedir.
- C. Dünya küreye benzediği için uzaktan gelen geminin önce yelkenleri, sonrasında da yavaş yavaş tamamı gözükmektedir.

17.

- ★ Uçağın havada uçması
- ★ Aynı yöne giden bir geminin başladığı noktaya geri gelmesi
- ★ Uzaydan çekilen fotoğraflar


Yukarıdaki bilgilerden kaç tanesi Dünya'mızın küreye benzediğini kanıtlar?

- A. 1 B. 2 C. 3



3. SINIF 1. DÖNEM 1. HAFTA

18. Yandaki görsele göre aşağıdakilerden hangisi söylenebilir?



- A. Balığın güçlü yönü yüzebilmesidir.
- B. Balığın zayıf yönü yüzememesidir.
- C. Balığın güçlü veya zayıf bir yönü yoktur.

19. Bilge, telefonunu dedesine verdi ve fotoğrafını çekmesini istedi. Fakat dedesi fotoğraf çekmeyi başaramadı. Buna göre aşağıdakilerden hangisi doğrudur?

- A. Buse, dedesi ile konuşmamalıdır.
- B. Telefonu kullanamamak dedesinin güçlendirmesi gereken bir yönüdür.
- C. Dedesi telefon konusunda yeteneklidir.

20. Ecem çok iyi şarkı söyleyebilmektedir. Aynı zamanda iyi resim yapabilmektedir. Fakat yüzemediği için yüzme kursuna yazılmak istemektedir. Bu durumda Ecem'in hangi yönünü güçlendirmeye çalışmaktadır?

- A. Şarkı söyleyebilme
- B. Yüzme
- C. Resim yapabilme

ADI:

SOYADI:

SINIFI:

PUANI:

1	A	B	C
2	A	B	C
3	A	B	C
4	A	B	C
5	A	B	C
6	A	B	C
7	A	B	C
8	A	B	C
9	A	B	C
10	A	B	C
11	A	B	C
12	A	B	C
13	A	B	C
14	A	B	C
15	A	B	C
16	A	B	C
17	A	B	C
18	A	B	C
19	A	B	C
20	A	B	C