

ADI SOYADI: .....

## TÜRKÇE



Yaşlı Ağaç, artık ömrünün son günlerine yaklaştığını bildiği için tedirginlik içinde yaşıyordu. Gölgesinde piknik yapan ailelerden, dallarında sallanan gençlerden, özellikle etrafında neşe içinde oyun oynayan, koşuşan çocuklardan ayrılmak istemiyordu.

Korktuğu başına gelmiş ve hiç görmediği insanlar, ağaç yaşlı diye kesip götürmüşler. Yaşayacağı kötü durumları görmemek için gözlerini sürekli kapalı tutmuş. Gözlerini kapalı tutmuş ama birilerinin gövdesine gürültülü makinelerle ve aletlerle bir şeyler yaptığını da hissediyormuş. Artık yolun sonuna geldiğini anlamış.

Sonra çok garip bir olay olmuş. Kulağına çok güzel müzik sesleri gelmeye başlamış. Gözlerini merakla açınca ne görsün! Meğer etrafında gezinen gençlerin ve çocukların elinde bir müzik aletine dönüşmüş. Yine sevdikleriyle beraber olmak ve onlarla beraber şarkılar söylemek Yaşlı Ağacı çok mutlu etmiş.

*micone*

(ilk üç soruyu metne göre cevaplayınız.)

1-Yaşlı Ağaç, ömrünün son günlerini nasıl geçiriyormuş?

- A)tedirginlikle B)neşeyle C)huzurla

2-Yaşlı Ağaç özellikle kimlerden ayrı yaşamak istemiyormuş?

- A) Gölgesinde piknik yapan ailelerden  
B) Etrafında neşe içinde oynayan çocuklardan  
C) Dallarında sallanan gençlerden

3- Yaşlı ağaç neden mutlu olmuş?

- A) Başka yere götürdükleri için mutlu olmuş.  
B) Yeni insanlarla tanıştığı için mutlu olmuş.  
C) Sevdiklerinin ellerinde, beraber şarkı söylediği için mutlu olmuş.

4-Aşağıdaki cümlelerin hangisinde "kim, nasıl" sorularının cevabı vardır?

- A) Taha sabırsızlıkla maçın sonucunu bekliyordu.  
B) Topumu alıp arkadaşlarımla bahçeye çıktım.  
C) Her zamanki gibi kurabiyeler enfes olmuştu.

5-Aşağıdaki cümlelerin hangisinde nokta işareti doğru kullanılmıştır?

- A) Nasıl konuşacağımı bende bilmiyorum.  
B) Canım arkadaşım Kübra.  
C) Eyvah, ormanda kaybolduk.

6-Okunuşları ve yazılışları aynı, anlamları farklı olan kelimeye sesteş denir. Buna göre aşağıdaki cümlelerde altı çizili kelimelerden hangisi farklı anlamda kullanılmamıştır?

- A) Ben, yüzümdeki bene ellemem.  
B) Annem kızlarını çağırıp bir güzel kızdı.  
C) Babam sazını, dayımda kendi sazını çaldı.



7-Yukarıdaki hayvanlar hangisi isimleriyle ilgili söylediği ifade yanlıştır?

- A) eşek B) deve C) at

1.	Ömer
2.	Elif
3.	İşıl
4.	Alper

8-Tablodaki kelimelerin alfabetik sıralamaya göre doğru olabilmesi için hangi kelimeler yer değiştirmelidir?

- A)Ömer-Elif B)İşıl-Alper C)Ömer-Alper



9-Yukarıdaki tahtada verilen kelimeler zıt anlamlılarıyla eşleştirildiğinde hangisi boşta kalır?

- A) cesur B) kötü C) çirkin

- 10-Bir cümledeki hece sayısını, ünlü harfleri sayarak bulabildiğimize göre aşağıdaki cümlelerden hangisinin hece sayısı diğerlerinden daha azdır?  
 A) Ablam çok güzel tarhana çorbası yapar.  
 B) Yusuf abim her konuda bana yardımcı olur.  
 C) Babam koca yürekli bir aslandır.

- 11-"Zehra, öğretmenine cevap verdi." cümlesinde altı çizili kelimenin eş anlamlısı hangi cümlede kullanılmıştır?  
 A) Bazı soruları anlamakta zorlanıyorum.  
 B) Seni durmadan uyarmaktan bıktım.  
 C) Nisa bütün soruları doğru yanıtladı.

.....	Köye varınca teyzem ve kuzenlerimle hasret giderdik.
.....	Daha sonra kuzenlerimle köyde gezdik, oynadık, eğlendik.
.....	Okullar kapanınca, ailece köydeki teyzemin evine doğru yola çıktık.
.....	Kuzenlerim, evinin etrafındaki at, kedi, tavuk ve koyunları gösterdi.

- 12-Metindeki olaylar karışık olarak verilmiş. Metinde anlatılanları oluş sırasına göre sırası aşağıdakilerden hangisidir?

- A) 

3.
4.
1.
2.

      B) 

2.
4.
1.
3.

      C) 

2.
3.
4.
1.

### MATEMATİK

$$8 + 1 = 9$$

- 1-Yukarıdaki toplama işlemine göre toplanan sayıların ve toplamın tek mi çift mi olduğunu belirlediğimiz seçeneklerden hangisi doğrudur?  
 A)  $T + T = T$       B)  $\text{Ç} + T = T$   
 C)  $T + T = \text{Ç}$

- 2-Rakamları farklı, üç basamaklı en büyük sayının rakamlarının toplamı kaçtır?  
 A)20      B)24      C)28

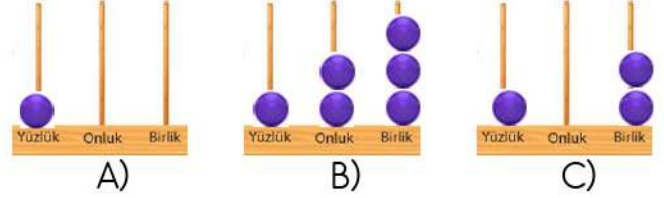
$$100+100+100+10+10+1+1+1+1+1$$



- 3-Zeynep'in çözümlenmiş halini söylediği sayı aşağıdakilerden hangisidir?

- A)326      B)362      C)226

- 4-Üç basamaklı en küçük sayının abaküste gösterilişi aşağıdakilerden hangisidir?



5 3 .....

- 5-Yukarıdaki üç basamaklı doğal sayının birler basamağına hangi rakamlar yazılırsa, sayı tek sayı olur?

- A)2-4-6-7-8      B)1-2-3-4-5  
 C)1-3-5-7-9

$$556 < \text{☾} < 806 < \text{★}$$

- 6-☾ ve ★ sembolleriyle gösterilen yerlere aşağıdaki sayılardan hangileri yazılabilir?

- A) ☾ = 489      ★ = 860  
 B) ☾ = 660      ★ = 845  
 C) ☾ = 582      ★ = 755

12-20-28-35-44-52-60

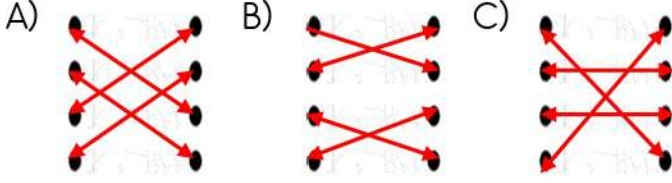


- 7-Ali ileriye doğru sekizer ritmik sayma yaparken bir sayıyı hatalı söylediğine hangi sayıyı hatalı söylemiştir?

- A)35      B)44      C)62

XV	•	•	12
IX	•	•	17
XII	•	•	15
XVII	•	•	9

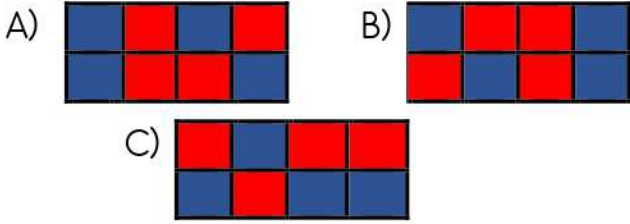
8-Tablodaki Romen sayılarını eşiti olan sayılarla doğru eşleştirilmiş görünümü aşağıdakilerden hangisidir?



871	256	456	343
100	199	874	647

9-Emine, tabloda bulunan sayılardan tek sayı olanları

maviye, çift olanları kırmızıya doğru boyadığı zaman tablonun görünümü nasıl olur?



10-Aşağıdaki sayıların hangisinde basamak değeri 600'dür?



- A) 816      B) 168      C) 618

11-Aşağıdaki tabloda bulunan sayılar en yakın onluğa ve yüzlüğe yuvarlanmıştır. Aşağıdakilerden hangisi yanlış yuvarlanmıştır?

sayı	En yakın onluk	En yakın yüzlük
A) 751	750	800
B) 157	170	100
C) 696	700	700

VIII + X

12-Yukarıda Romen rakamlarıyla yazılmış olan işlemin sonucu kaçtır ?

- A) 16      B) 18      C) 20

## HAYAT BİLGİSİ

1-Aşağıdakilerden hangisi yanlıştır?

- A) Okul sadece bilgi öğrenilen yerdir.  
B) Okul bizi gelecek yaşama hazırlar.  
C) Okul, zayıf ve güçlü yönlerimizi geliştirir.

Her insanın güçsüz bir yanı vardır.
İnsanların güçsüz yanları eleştirilmelidir.
Çalışmak, insanı mutlu ve başarılı yapar.
Sınıftaki öğrencilerin güçlü yanları aynıdır.

2-Yukarıdaki cümlelerin doğru olanlarına D, yanlış olanlarına Y yazdığımızda tablonun görünümü nasıl olur?

A) 

D
Y
D
Y

B) 

D
D
Y
Y

C) 

Y
D
Y
D

3-Aşağıdakilerden hangisi okulun bize kazandırdıklarından değildir?

- A) Okul, birlikte iş yapma becerimizi geliştirir.  
B) Grupla görev alma sorumluluğu geliştirir.  
C) Sadece kendi haklarımızı korumayı öğreniriz.



4-Görseldeki çocuk için aşağıdakilerden hangisini söyleyemeyiz?

- A) Sportif etkinliklere ilgili biri.  
B) Yetenekli olduğu için çalışmasına gerek yok.  
C) Çalışkan ve başarılı olduğu için mutlu biri.

5-Kalemimi evde unutan Tesnim arkadaşı Zeynep'ten kalem rica ediyor. Zeynep, kalemligindeki fazla kalem arkadaşına vererek hangi özelliğini gösteriyor?

- A) cimri      B) cömert      C) bencil

6-Aşağıdakilerden hangisi okulda olması gereken demokratik bir faaliyettir?

- A) Sınıfla ilgili kararlarda her öğrenci fikrini söylemelidir.  
B) Okul genelinde tüm kararları müdür almalıdır.  
C) Sınıf kurallarını öğretmen tek başına belirlemez.

7-Alper ile annesi okula yeni gelmişti. Annesi "Yeni sınıfında olumlu özelliklere sahip kişilerle arkadaşlık yapmalısın ." diyerek oğlunu uyardı.

lakap takmak	1	dürüst biri	2	öfkeli olmak	3
-----------------	---	----------------	---	-----------------	---

temiz olmak	4	kavga eden	5	kibar	6
----------------	---	---------------	---	-------	---

Buna göre Alper, arkadaşlarında kaç numaralı özellikleri aramalıdır?

- A) 2-4-6      B) 2-3-6      C) 1-3-4



8- Ayşe: "Evimiz krokiye göre doğuda yer aldığı için evimizin yakınında ..... vardır." dediğine göre noktalı yere aşağıdakilerden hangisini yazabiliriz?

- A) park      B) okul      C) market



### FEN BİLİMLERİ

1-Görseldeki çocuklar sevdi-leri programı televizyondan izlerken hangi duyu organlarını kullanıyorlar?

- A) deri-kulak      B) burun-dil      C) göz-kulak

2-Çevremizdeki canlı veya cansız varlıkların farklı özelliklerini ve durumlarını duyu organlarımızla anladığımız göre duyu kelimesine, kavram olarak aşağıdakilerden hangisini söyleyemeyiz?

- A) hissetme      B) algılama      C) anlamama

3-Esma okuldan gelince hemen lava-boya gidip elini yüzünü yıkar. Esma derisinin sağlığı için aşağıdakilerden hangisi kullanılmalıdır?

- A) Sıvı deterjan      B) Çamaşır suyu      C) Sıvı sabun

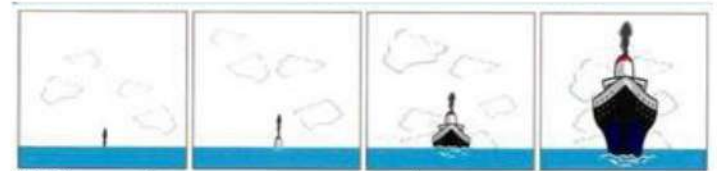
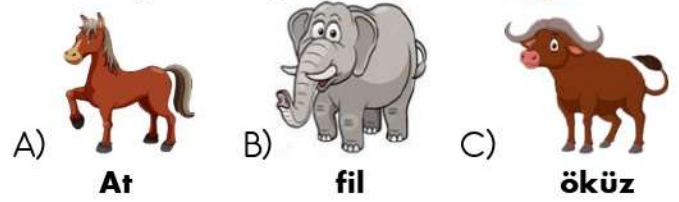


1.	burun	Çevremizdeki varlıkların çıkardığı sesleri duyar.	
2.	göz	Tat almamızı ve konuşmamızı sağlar.	
3.	deri	Hem koku hem de nefes almamızı sağlar.	
4.	dil	Şekil ve renkleri görürüz.	
5.	kulak	Varlıkların sertliğini ve sıcaklığını anlarız.	

4-Duyu organları ve onların görevlerinin doğru eşleştirilmesi aşağıdakilerden hangisidir?

- A) 5  
4  
1  
2  
3
- B) 4  
5  
3  
1  
2
- C) 3  
4  
1  
5  
2

5-Çok eski zamanlarda insanlar, Dünya'yı bazı hayvanların taşıdığına inanıyorlardı. Aşağıdakilerden hangisi bu hayvanlardan biri değildir?



Yaklaşan bir geminin önce dumanını, sonra bacasını ve en sonra da tamamını görürüz. Bu dünyanın ..... olduğunu ispatlar.

6-Yukarıdaki noktalı yere hangi kelime yazılmalıdır?

- A) Daire      B) yuvarlak      C) çember

7-Aşağıdaki ifadelerden hangisi doğrudur?

- A) Tablete yakından bakarsak daha iyi görürüz.  
B) Dersi yüksek sesle dinlersek daha iyi anlarız.  
C) Burun kıllarını koparmak, yanlış bir hareket.

8-Dünya'da karaların ve suların kapladığı alanı hangi seçenekte doğru gösterilmiştir?

