

Adı:
Soyadı:

1-) Aşağıdaki **yedişerli ritmik** saymada boş bırakılan yerleri doldurun.

7 7 7 7 7 7 7

7 14

7 7 7 7 7 7 7

98

56

2-) Aşağıda boş bırakılan yerleri ileri doğru **yedişer ritmik** sayma yaparak dolduralım.

7 7 7 7 7 7 7 7 7 7

7 14

21

28


3-) Aşağıdaki boşlukları geriye doğru **yedişer ritmik** sayma yaparak dolduralım.


70 63

49

Adı:
Soyadı:


1-) Aşağıdaki **sekizer ritmik** saymada boş bırakılan yerleri doldurun.


➔ 8 16


..... 56




2-) Aşağıda boş bırakılan yerleri ileri doğru **sekizer ritmik** sayma yaparak dolduralım.


➔ 24

➔ 16

➔ 40

3-) Aşağıda boş bırakılan yerleri geriye doğru **sekizer ritmik** sayma yaparak dolduralım.


➔ 80 72

➔ 96

Adı:
Soyadı:

Aşağıdaki sayı örüntülerinin kurallarını altlarına yazalım.

6 12 18 24 36 42 45

Kural:

90 80 85 75 80 70 75

Kural:

6 10 8 12 10 14 12

Kural:

Aşağıdaki sayı örüntülerinde boş bırakılan yerleri tamamlayınız.

9	18	27	36
2	3	5	8	12	23
9	12	10	13	11
64	56	48	40
77	70	63	56
10	20	15	25	20
8	14	20	26