

Aşağıdaki soruları metne göre cevaplayalım.

BAHAR MÜJDECİLERİ

Kırlangıçlar, kış soğğundan kaçarak sıcak yerler bulmak için uzun bir yolculuğa çıkmışlar. Nisan ayıyla beraber o uzun yolculuklarının da sonuna gelmişler. Kendilerine yuva yapmak için uygun birer yer bulup çalışmaya başlamışlar. Bir duvar ustası kabiliyetinde çamur topluyor, çamurları ağızlarında taşıırken bir yandan da ıslatıp büyük bir özenle yuvalarını örüyorlarmış. İnsanlar bile kırlangıçların bu çalışmalarını gördüklerinde baharın geldiğini kolayca anlayabilirmiş.

İşte, yine böyle bir zamanda, iki kardeş uyurken babaları heyecanla yanlarına gelmiş. "Kalkın bakalım çocuklar, bakın kimler gelmiş!" demiş. Çocuklar gözlerini açar açmaz kırlangıçların seslerini duymuşlar ve mutlulukla fırlamışlar yataklarından:

– Müjde baba, bahar geldi!

1. Kırlangıçlar niçin uzun bir yolculuğa çıkmışlar?

?

.....

.....

2. Kırlangıçlar yuvalarını nasıl örüyorlarmış?

?

.....

.....

3. Çocuklar baharın geldiğini nasıl anlamışlar?

?

.....

.....

4. Hangi ayın sonunda kırlangıçların uzun yolculuğu son bulmuş?

?

.....

A. Aşağıdaki cümleleri, verilen sözcüklerden uygun olanıyla tamamlayalım.

ama

veya

fakat

yoksa

çünkü

ancak

ve

de

rağmen

- Çok çalışmam lazım başarılı olmak istiyorum.
- Anneler hâlâ gelmedi araçları arıza mı yaptı?
- Bugün pikniğe gidecektik yağmur yağdı.
- Bisikletini kaykayını parkta güvenle kullanabilirsin.
- Otobüsün arkasından çok koştu otobüse yetişemedi.
- Şiddetli esen rüzgâra yürümeye devam etti.
- Kitap okuyacaktım elektrikler gitti.
- Kış için mağazadan eldiven, bere mont aldık.
- Yarın Ahsenlere sen bizimle gelsene.

Aşağıdaki çocukların cümlelerini uygun şekilde tamamlayalım.



Okula geç kaldım çünkü

.....

.....

.....



Yazın oraya otobüsle veya

.....

.....

.....



Kirtasiyeden kitap alacaktım fakat

.....

.....

.....



Arkasından seslenmesine rağmen

.....

.....

.....

Aşağıdaki bilgilerin doğru olanlarını "✓" sembolü ile işaretleyelim.

- Evdeki kaynakları israf ettiğimizde aile bütçemiz olumsuz etkilenir.
- Evimizde doğal gazı temizlik amacıyla kullanılırız.
- Dişlerimizi fırçalarken musluğu kapalı tutmalıyız.
- Aydınlatma araçlarını odamızın büyüklüğüne göre seçmeliyiz.
- Az elektrik enerjisi harcayan teknolojik ürünleri tercih etmemeliyiz.
- İşimiz bittiğinde elektronik araçları fişinden çekmeliyiz.
- Bulaşıkları makine yerine elde yıkayarak su tasarrufu sağlayabiliriz.

Aşağıdaki ifadeler doğru ise ifadenin başına "D", yanlış ise "Y" yazalım.

- Akrabalık kan bağı veya evlilik yoluyla oluşur.
- Sevgi ve saygı akrabalık bağlarımızı güçlendirir.
- Akrabalarımızı sadece özel günlerde arayıp sormalıyız.
- Annemin ve babamın kardeşinin çocukları benim kuzenim olur.
- Akrabalar arasında yardım ve dayanışma çok önemlidir.
- Bayramlarda akrabalarımızı ziyaret etmeliyiz.
- Annem ve dayımın eşi birbirlerinin eltisi olur.
- Babam, dayımın kayınbiraderi olur.
- Babam teyzemin eniştesi olur.

Aşağıdaki toplama işlemlerini onluk ve birliklere ayırarak örnekteki gibi yapalım.

$$\begin{array}{c} 16 + 23 \\ \begin{array}{c} \text{↙} \quad \text{↓} \quad \text{↘} \quad \text{↙} \\ \text{↘} \quad \text{↓} \quad \text{↙} \end{array} \\ \begin{array}{c} \boxed{10} + \boxed{6} \quad \boxed{20} + \boxed{3} \\ \text{↙} \quad \text{↘} \\ \text{↘} \quad \text{↙} \end{array} \\ 30 + 9 = 39 \end{array}$$

$$\begin{array}{c} ? \quad 34 + 51 \\ \begin{array}{c} \text{↙} \quad \text{↓} \quad \text{↘} \quad \text{↙} \\ \text{↘} \quad \text{↓} \quad \text{↙} \end{array} \\ \begin{array}{c} \boxed{\dots} + \boxed{\dots} \quad \boxed{\dots} + \boxed{\dots} \\ \text{↙} \quad \text{↘} \\ \text{↘} \quad \text{↙} \end{array} \\ \dots + \dots = \dots \end{array}$$

$$\begin{array}{c} ? \quad 44 + 15 \\ \begin{array}{c} \text{↙} \quad \text{↓} \quad \text{↘} \quad \text{↙} \\ \text{↘} \quad \text{↓} \quad \text{↙} \end{array} \\ \begin{array}{c} \boxed{\dots} + \boxed{\dots} \quad \boxed{\dots} + \boxed{\dots} \\ \text{↙} \quad \text{↘} \\ \text{↘} \quad \text{↙} \end{array} \\ \dots + \dots = \dots \end{array}$$

Aşağıdaki cümlelerde yazım yanlışı yapılan sözcüklerin altını çizelim.

Teyzem ve Kuzenim bugün bize gelecek.

Mimar Sinan mahallesinde oturuyoruz.

Buralarda Kasım geldi mi, kış gelmiş demektir.

Annemle, stadyumdaki cumhuriyet bayramı kutlamalarına katıldık.

25 aralık cumartesi günü kitapçıya gideceğiz.

arkadaşım sevinç bizimle aynı sokakta oturuyor.

Erenler Ramazan bayramında Antalya'ya gidecekmış.

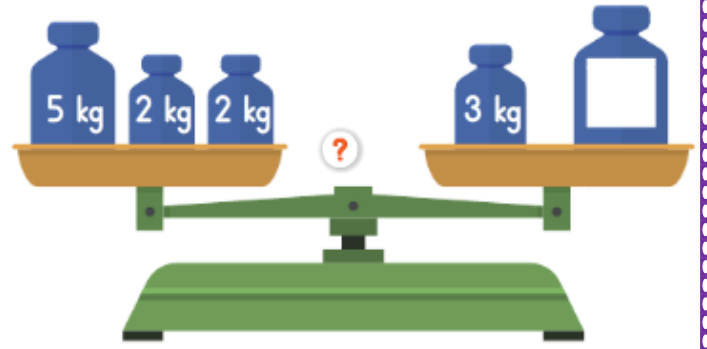
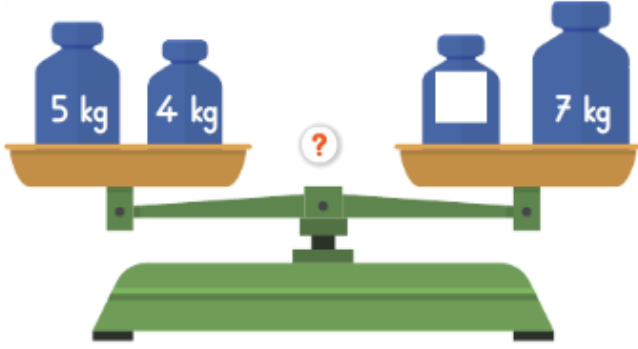
Kardeşim Duru ve ben kardelen ilkokuluna gidiyoruz.

Yaz geldi mi Köydeki dedemi ziyarete gideriz.

Aşağıdaki satır sonuna sığmayan sözcüklerin yanlış ayrılmış olanlarını işaretleyelim.

..... kes- er ka- lem Selim'- in a- yakkabı ter- mos
..... tele- fon lğdır' in duv- ar men- dil e- rik
..... term- inal A- takule el- veda çocuk- lar Yusu- feli

Aşağıdaki terazilerin dengede durabilmesi için, verilmeyen ağırlığı yazalım.



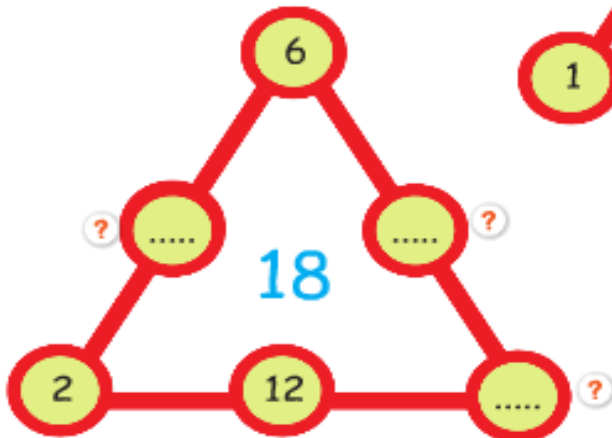
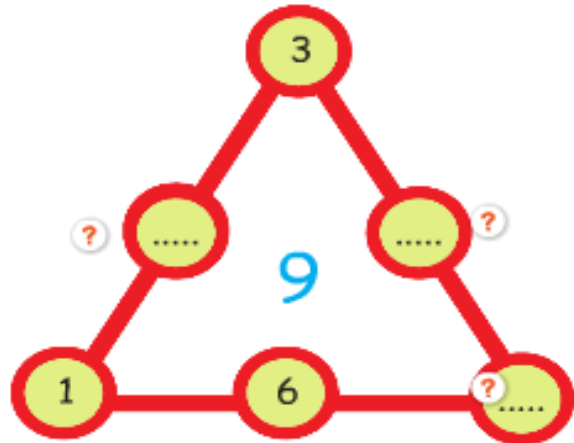
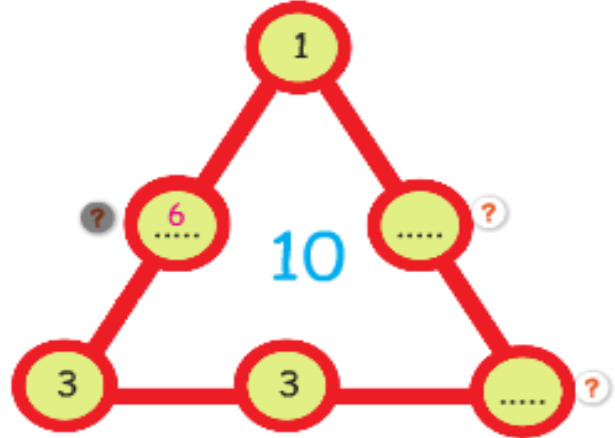
DÜŞÜNELİM BULALIM ÇÖZELİM



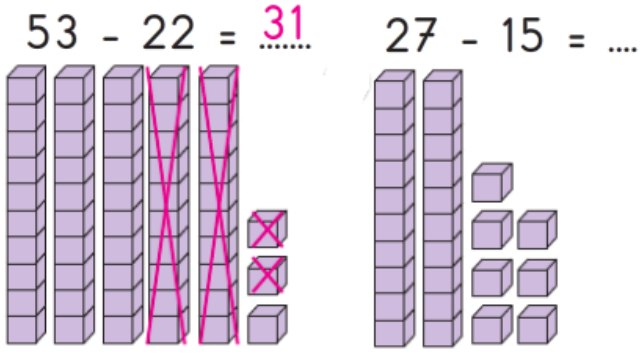
OZAN'A YARDIM EDELİM

Aşağıdaki üçgenin her kenarındaki sayıların toplamı üçgenin ortasındaki sayıdır. Ancak Ozan bazı sayıları düşürmüştü.

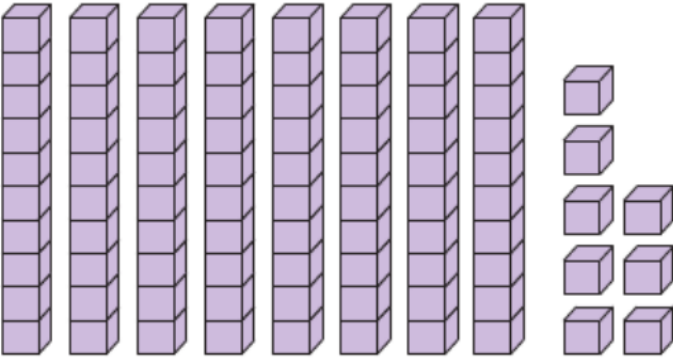
Noktalı yerlere yazılması gereken sayıları bularak Ozan'a yardım eder misiniz?



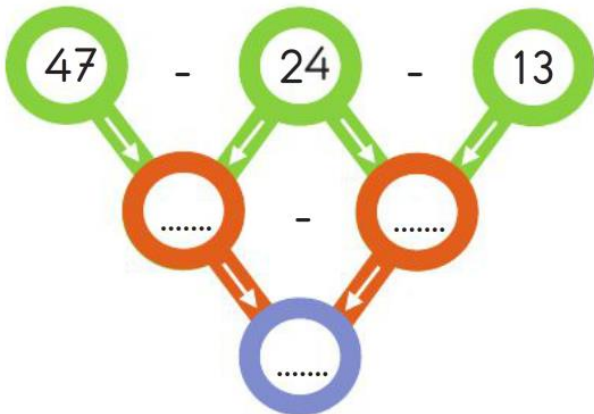
Aşağıdaki çıkarma işlemlerini taban bloklarıyla modelleyerek örnekteki gibi gösterelim.



$88 - 43 = \dots$



Aşağıdaki çıkarma işlemlerini yapalım.



İşlem	Tahmin	Sonuç
47	$\longrightarrow \dots$	\dots
$+ 18$	$\longrightarrow + \dots$	$+ \dots$
	\dots	\dots

$\dots - \dots = \dots$ (Tahmin ile sonuç arasındaki fark)

İşlem	Tahmin	Sonuç
56	$\longrightarrow \dots$	\dots
$+ 35$	$\longrightarrow + \dots$	$+ \dots$
	\dots	\dots

$\dots - \dots = \dots$ (Tahmin ile sonuç arasındaki fark)

Tuğba 46, Elif ise 33 çiçek topladı. Tuğba ile Elif'in topladıkları toplam çiçek sayısını tahmin edelim. Tahminimizi toplam çiçek sayısı ile karşılaştıralım.

Bit Soru

Kadir'in 28, Erdi'nin 38 misketi var.

Kadir ve Erdi'nin tahmini kaç misketi vardır?

- A) 50 B) 60 C) 70

Aşağıda ihtiyaç ve isteklerimizle ilgili sözcükleri bulmacada bulup işaretleyelim.

?

SU

EKMEK

MEYVE SUYU

OTOMOBİL

GÖMLEK

ÇİKOLATA

DONDURMA

AYAKKABI

CEP TELEFONU

İ	A	Y	A	K	K	A	B	I	S	T
C	E	P	T	E	L	E	F	O	N	U
E	Ç	İ	K	O	L	A	T	A	K	İ
H	O	T	O	M	O	B	İ	L	S	U
G	Ö	M	L	E	K	E	K	M	E	K
T	M	E	Y	V	E	S	U	Y	U	İ
Y	A	D	O	N	D	U	R	M	A	Ç

Görsellerden yararlanarak evde kullandığımız kaynakların adlarını bulmacaya yerleştirelim.

?



Ğ

Z

?



K

?



K

?



N

?



U

MİNİ TEST

1.

?



Dengeli besleniyorum.

Özlem

Konuşmasına göre Özlem, hangi yiyecekleri yemez?

- A) Hamburger, cips, kola
- B) Et, süt, sebze ve meyve
- C) Peynir, yoğurt, pilav

2.

?

İfadesine göre hangi çocuk, evdeki sorumluluklarını yerine getirmemektedir?

A)



Her sabah uyandıktan sonra yatağımı toplarım.

B)



Odama, dolabımı ve çalışma masamı hep dağınık bırakırım.

C)



Sofra kurulmasında anne ve babama yardım ederim.

3.

?

Pınar, 7 yaşındadır.

Buna göre aşağıdakilerden hangisi Pınar'ın evdeki sorumluluklarından biri değildir?

- A) Bir işte çalışarak para kazanmak
- B) Meyveleri yıkayarak sofraya getirmek
- C) Çoraplarını katlayıp çekmesinesine koymak