

AD:

SOYAD:

2. SINIF SENE SONU  
TÜRKÇE DEĞERLENDİRMESİ

Barış öğle yemeğini bitirince meyve tabağından bir elma ile mandalina aldı. Balkona çıktı. Bir yandan elmayı kemiriyor, bir yandan da çevreye bakıyordu. Oturdukları bina, on altı katlı yetmiş daireliydi. Onlar onuncu katta oturuyorlardı. Balkona çıkınca kendini uçuyor sanıyor, çevresinde ne varsa oyuncak gibi görüyordu. Bu ilginç görüntüye dalarak elmasını bitirdi.

Gülten Dayıoğlu

1. Soruları yukarıdaki metne göre cevaplayalım.

• Barış kaçınıcı katta oturmaktadır?

.....  
.....

• Barış ne zaman balkona çıktı?

.....  
.....

• Barış etrafındakileri nasıl görüyordu?

.....  
.....

2. Aşağıda verilen harflerden önce ve sonra gelen harfleri bulalım.

|   |   |   |
|---|---|---|
| B | V | R |
| N | E | J |

3. Tabloyu istenilen bilgilere göre dolduralım.

| Kelime   | Hecelerine Ayırma | Harf Sayısı | Hece Sayısı |
|----------|-------------------|-------------|-------------|
| yelkovan |                   |             |             |
| tren     |                   |             |             |
| otomobil |                   |             |             |
| prens    |                   |             |             |

4. Kelimeleri sözlük sırasına göre sıralayalım.

|        |         |       |         |
|--------|---------|-------|---------|
| tren   | 1. .... | simit | 1. .... |
| uçak   | 2. .... | silgi | 2. .... |
| gemi   | 3. .... | site  | 3. .... |
| kamyon | 4. .... | sinek | 4. .... |

5. Satır sonuna sığmayan sözcüklerden doğru ayrılanların kutucuğunu işaretleyelim.

|                           |                      |                          |
|---------------------------|----------------------|--------------------------|
| ..... pazar-<br>tesi..... | ..... ü-<br>züm..... | ..... foto-<br>ğraf..... |
|---------------------------|----------------------|--------------------------|

|                         |                         |                          |
|-------------------------|-------------------------|--------------------------|
| ..... yum-<br>urta..... | ..... kolon-<br>ya..... | ..... hanı-<br>meli..... |
|-------------------------|-------------------------|--------------------------|

6. Cümlelerdeki kelime sayılarını bulalım.

| Cümle                             | Sözcük Sayısı |
|-----------------------------------|---------------|
| Okuldan gelince ellerimi yıkadım. |               |
| Bugün hava nasıl?                 |               |
| O, çok iyi kalpli bir arkadaştır. |               |

7. Verilen kelimelerin zıt anlamlarını yazalım.

|        |  |       |  |
|--------|--|-------|--|
| pahalı |  | güzel |  |
| dost   |  | genç  |  |
| erken  |  | ıslak |  |
| cömert |  | taze  |  |

8. Verilen kelimelerin eş anlamlarını yazalım.

|        |  |        |  |
|--------|--|--------|--|
| siyah  |  | hediye |  |
| sözcük |  | doktor |  |
| konuk  |  | rüya   |  |
| basit  |  | yıl    |  |

AD:

SOYAD:

2. SINIF SENE SONU  
TÜRKÇE DEĞERLENDİRMESİ

9. Tabloyu istenilen bilgilere göre işaretleyelim.

| Kelime   | Tekil Ad | Çoğul Ad |
|----------|----------|----------|
| bayrak   |          |          |
| ağaçlar  |          |          |
| öğretmen |          |          |
| çiçekler |          |          |
| balıklar |          |          |

10. Verilen adları uygun kutucuğa yazalım.

|        |         |         |          |
|--------|---------|---------|----------|
| Kedi   | Atatürk | Salı    | Boncuk   |
| Türkçe | Köy     | Hastane | Van Gölü |

Özel Ad

Tür Adı

- .....
- .....
- .....
- .....

- .....
- .....
- .....
- .....

11. Cümlelerin sonuna gelmesi gereken noktalama işaretlerini işaretleyelim.

| Cümle                      | . | ? | ! |
|----------------------------|---|---|---|
| Okula geç mi kaldın        |   |   |   |
| Bahçeden çiçek topladım    |   |   |   |
| Yaşasın, tatile gidiyoruz  |   |   |   |
| Teyzemler ne zaman gelecek |   |   |   |
| Eyvah, yangın çıkmış       |   |   |   |

12. Yazımı yanlış olan kelimeleri işaretleyelim.

|                          |                          |                          |                          |
|--------------------------|--------------------------|--------------------------|--------------------------|
| plan                     | süpriz                   | aşçı                     | eşki                     |
| <input type="checkbox"/> | <input type="checkbox"/> | <input type="checkbox"/> | <input type="checkbox"/> |
| tırafık                  | kirpik                   | herkez                   | kirbit                   |
| <input type="checkbox"/> | <input type="checkbox"/> | <input type="checkbox"/> | <input type="checkbox"/> |

12. Kelimeleri kullanarak anlamlı ve kurallı cümle oluşturalım.

|         |       |            |
|---------|-------|------------|
| olmak   | Can   | doktoru    |
| büyünce | çocuk | istiyormuş |

13. Cümleleri oluş sırasına göre sıralayalım.

|                          |   |
|--------------------------|---|
| <input type="checkbox"/> | Filmden çıkıp dondurma yedik.           |
| <input type="checkbox"/> | Biletlerimizi aldık.                    |
| <input type="checkbox"/> | Kuzenimle sinema katına çıktık.         |
| <input type="checkbox"/> | Hangi filmi izleyeceğimize karar verdik |

14. Cümlelerdeki yazım yanlışlarını bulalım ve düzelterek cümleyi yeniden yazalım.

- arkadaşım emelin kedisinin adı boncuk

- türkiyenin başkenti ankaramı

15. Kelimeleri anlamlarıyla eşleştirelim.

|                          |   |           |
|--------------------------|---|-----------|
| 1 ödül                   | 2 taklit                                  | 3 anahtar |
| <input type="checkbox"/> | Kilidi açıp kapamak için kullanılan araç. |           |
| <input type="checkbox"/> | Bir davranıştan dolayı verilen hediye.    |           |
| <input type="checkbox"/> | Herhangi birşeyin benzerini yapmak.       |           |

16. Görseldeki çocuklar ne yapıyorlar? Yazalım.



AD:

SOYAD:

2. SINIF SENE SONU  
TÜRKÇE DEĞERLENDİRMESİ

17. Aşağıdakilerden hangisinde adres yazımında hata yapılmamıştır?

- A. Mehtap sokak nerede?
- B. Atatürk Caddesinde pazar kurulmuş.
- C. Yeni Mahalle'de oturuyorum.

18. Aşağıdaki cümlelerden hangisi kurallı bir cümle değildir?

- A. Yemeğimi yedim.
- B. Resmimi boyadım pastel boyayla.
- C. Dışleri güzelce fırçaladım.

19. Yarışmada kıl payı farkla üçüncü oldu. Altı çizili yazılmış kelimelerle anlatılmak istenen nedir?

- A. Çok büyük bir farkla
- B. Çok büyük bir ödülle
- C. Çok az bir farkla

20.

kelebek

Yukarıdaki kelimenin harflerini birer kez kullanarak hangi kelimeyi oluşturamayız?

- A. elek
- B. kek
- C. bebek

21. Aşağıdaki tarihlerden hangisinin yazımı doğrudur?

- A. 10 kasım 1881
- B. 29 Ekim 1923
- C. 10.Nisan.2023

22.

terzi - makas

Yukarıdaki kelimeler arasındaki anlam ilişkisi hangi kelimeler arasında yoktur?

- A. hakem - düdük
- B. öğretmen - tebeşir
- C. doktor - hastane

23. Aşağıdakilerden hangisinin sessiz harf sayısı daha fazladır?



24. Aşağıdaki cümlelerin hangisi soru cümlesidir?

- A. Neden gelmediğini bilmiyorum
- B. İstanbul'a ne ile gideceksiniz
- C. Kiminle sinemaya gittiğini söylemedi

25. - Hey( ) Kimse yok mu( )

- Zeynep( ) Hakan ve Hakan( )in kardeşi varız( )

Yukarıdaki ( ) ile belirtilen yerlere sırasıyla hangi noktalama işaretleri konulmalıdır?

- A. (!) (.) (.) (') (.)
- B. (.) (!) (.) (') (?)
- C. (!) (?) (.) (') (.)

26. Kırmızı ışıkta geçtiği ..... ceza aldı. Cümlesinde noktalı yere hangisi gelmelidir?

- A. çünkü
- B. sebeple
- C. için

27. "Zübeyde ödevini ....."

Yukarıdaki cümle hangisi ile tamamlanırsa "ödevini henüz yapmadığı" anlamı çıkar?

- A. yapmış
- B. yapacak
- C. yapıyor

28. Aşağıdaki atasözlerinden hangisi yardımlaşmayla ilgilidir?

- A. İşleyen demir pas tutmaz.
- B. Damlaya damlaya göl olur.
- C. Bir elin nesi var, iki elin sesi var.


HARİKASINIZ ÇOCUKLAR :)

AD:

SOYAD:

## 2. SINIF SENE SONU MATEMATİK DEĞERLENDİRMESİ

1. 28 ile 62 sayıları arasındaki balonları boyadığımızda hangi iki sayıyı boyamayız?



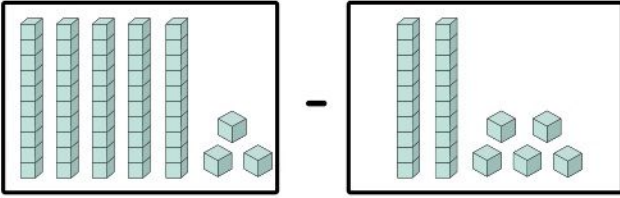
- A. 27 - 43      B. 32 - 60      C. 27 - 64

2. Aşağıdaki sayıların arasına  $<$ ,  $>$ ,  $=$  işaretlerinden uygun olanlar yazılıyor. Hangi seçenek doğru olarak verilmiştir?

48 ... 32      59 ... 61      27 ... 27

- A.  $<$ ,  $=$ ,  $>$       B.  $<$ ,  $>$ ,  $=$       C.  $>$ ,  $<$ ,  $=$

3. Aşağıda modelle gösterilen işlemi yapalım.



- A. 26      B. 28      C. 38

4. 54 sayısının onlar basamağı 3 artar, birler basamağı 2 azalırsa yeni sayı kaç olur?

- A. 82      B. 37      C. 86

5. 4 onluk 3 birlikten oluşan sayının 24 fazlası kaçtır?

- A. 19      B. 77      C. 67

6. İleriye ritmik saymalarda boş bırakılan yerlere sırasıyla gelmesi gerekenleri bulalım.

12 - 15 -  $\triangle$  - 21 - 24 - 27 - 30  
16 - 20 - 24 -  $\bigcirc$  - 32 - 36 - 40

- A. 18, 26      B. 17, 27      C. 18, 28

7. Salih 36' dan başlayarak geriye doğru ikiye sayıyor. Salih hangi sayıyı söylenemez?

- A. 28      B. 32      C. 15

8. Aşağıdaki sayı örüntülerinin hangisinin kuralı farklıdır?

- A. 17 - 27 - 37 - 47 - 57 - 67  
B. 25 - 30 - 35 - 40 - 45 - 50  
C. 43 - 53 - 63 - 73 - 83 - 93

9. Ümit' in 17 tane misketi var. Ümit' in iki düzine misketi olması için kaç misket daha gerekir?

- A. 3      B. 7      C. 5

10. Ada'nın 28 kalemı var. Ada'nın kalemlerinin sayısı iki desteden kaç fazladır?

- A. 8      B. 6      C. 4

11. 46 sayısı için aşağıda verilenlerden hangisi söylenemez?

- A. 5 desteden küçük bir sayıdır.  
B. 4 birlik 6 onluktan oluşur.  
C. En yakın onluğu 50' dir.

12. Aşağıda verilen sayılardan hangisi onluğa doğru olarak yuvarlanmıştır?

28  $\rightarrow$  30      62  $\rightarrow$  60

45  $\rightarrow$  50      37  $\rightarrow$  30

16  $\rightarrow$  10      71  $\rightarrow$  70

- A. 5      B. 3      C. 4

AD:

SOYAD:

2. SINIF SENE SONU  
MATEMATİK DEĞERLENDİRMESİ

13. Bir çıkarma işleminde çıkan 24, fark 63 ise eksilen sayı kaçtır?

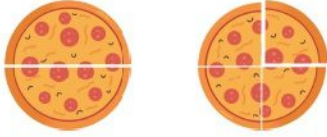
- A. 39 B. 87 C. 41

14.  $43 + \triangle = 61$

Aşağıda verilen işleme göre  $\triangle$  yerine gelecek sayının yarısı kaçtır?

- A. 10 B. 18 C. 9

15. Aşağıdaki pizza modellerinde hangi kesir modelle gösterilmemiştir?



- A. yarım B. çeyrek C. bütün

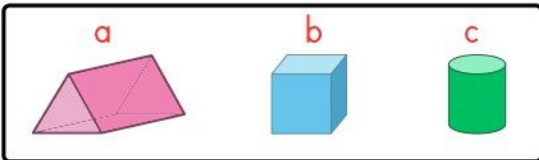
16. Çeyreği 6 olan sayının tamamı kaç eder ?

- A. 18 B. 12 C. 24

17. Aşağıdakilerden hangisi standart olmayan uzunluk ölçülerinden değildir?

- A. adım B. metre C. kulaç

18. Verilen geometrik şekillerin isimlerini hangi seçenekte doğru olarak verilmiştir?



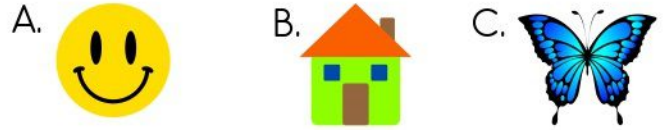
- A. üçgen prizma koni küp  
B. kare prizma küp koni  
C. üçgen prizma küp silindir

- A. 5 B. 3 C. 4

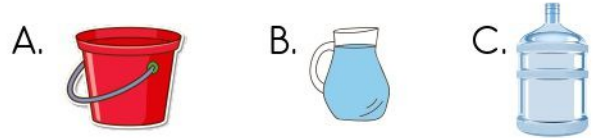
19. Aşağıdaki ifadelerden hangisi doğrudur?

- A. Çemberin bir kenarı vardır.  
B. Karenin dört kenarı ve dört köşesi vardır.  
C. Dikdörtgenin bütün kenarları eşittir.

20. Aşağıdaki modellerden hangisi simetrik olarak iki eş parçaya ayrılmaz?



21. Bir havuzu su ile doldurmak istediğimizde aşağıdakilerden hangisini kullanırsak havuzu daha çabuk doldururuz?



22. Aşağıda verilen örüntüde boş bırakılan yere gelmesi gereken şekiller hangisidir?



- A. B. C.

23. Aşağıdaki ağırlıklardan hangisi diğerlerinden büyüktür?

- A. 3 kg B. 750 g C. 5 kg

24. Bir otobüste 24 kadın, 38 erkek yolcu vardır. Otobüste tahmini kaç yolcu vardır?

- A. 60 B. 70 C. 62

AD:

SOYAD:

2. SINIF SENE SONU  
MATEMATİK DEĞERLENDİRMESİ

25. Çiftlikteki Hayvanlar

|        |  |
|--------|--|
| İnek   |  |
| Kuzu   |  |
| Cıvcıv |  |

(Her şekil 2 hayvanı göstermektedir.)

Verilen grafiğe göre bu çiftlikteki en fazla ve en az olan hayvanların farkı kaçtır?

- A. 10                  B. 4                  C. 6

25. Kardeşim her gün kumbarasına 4 TL atıyor. Bir hafta sonunda ne kadar parası olur?

|  |  |  |  |  |  |  |  |  |  |  |  |  |  |  |  |  |  |  |  |
|--|--|--|--|--|--|--|--|--|--|--|--|--|--|--|--|--|--|--|--|
|  |  |  |  |  |  |  |  |  |  |  |  |  |  |  |  |  |  |  |  |
|  |  |  |  |  |  |  |  |  |  |  |  |  |  |  |  |  |  |  |  |
|  |  |  |  |  |  |  |  |  |  |  |  |  |  |  |  |  |  |  |  |

- A. 28 TL                  B. 27 TL                  C. 36 TL

26. Eda'nın bir kızı 18 cm'dir. Sena'nın bir kızı ise Eda'nın kızıdan 2 cm kısadır. İkisinin birer kızının toplamı kaç cm eder?

|  |  |  |  |  |  |  |  |  |  |  |  |  |  |  |  |  |  |  |  |
|--|--|--|--|--|--|--|--|--|--|--|--|--|--|--|--|--|--|--|--|
|  |  |  |  |  |  |  |  |  |  |  |  |  |  |  |  |  |  |  |  |
|  |  |  |  |  |  |  |  |  |  |  |  |  |  |  |  |  |  |  |  |
|  |  |  |  |  |  |  |  |  |  |  |  |  |  |  |  |  |  |  |  |

- A. 36 cm                  B. 34 cm                  C. 38 cm

27. Sınıfımızda 27 öğrenci vardır. Her bir sırada 3 öğrenci oturduğuna göre sınıfımızda kaç sıra vardır?

|  |  |  |  |  |  |  |  |  |  |  |  |  |  |  |  |  |  |  |  |
|--|--|--|--|--|--|--|--|--|--|--|--|--|--|--|--|--|--|--|--|
|  |  |  |  |  |  |  |  |  |  |  |  |  |  |  |  |  |  |  |  |
|  |  |  |  |  |  |  |  |  |  |  |  |  |  |  |  |  |  |  |  |
|  |  |  |  |  |  |  |  |  |  |  |  |  |  |  |  |  |  |  |  |

- A. 8                          B. 5                          C. 9

28. Bir baharatçı 37 gram kimyonun 5 gramını kullandı. Kalan kimyonu eşit bir şekilde 4 poşete paylaştırdı. Her poşette kaç gram kimyon olur?

|  |  |  |  |  |  |  |  |  |  |  |  |  |  |  |  |  |  |  |  |
|--|--|--|--|--|--|--|--|--|--|--|--|--|--|--|--|--|--|--|--|
|  |  |  |  |  |  |  |  |  |  |  |  |  |  |  |  |  |  |  |  |
|  |  |  |  |  |  |  |  |  |  |  |  |  |  |  |  |  |  |  |  |
|  |  |  |  |  |  |  |  |  |  |  |  |  |  |  |  |  |  |  |  |

- A. 6 g                          B. 10 g                          C. 8 g

29. Ayşe film izlemeye başladığında saat yandaki gibiydi. Film 2 saat sürdüğüne göre, film ne zaman biter?



|  |  |  |  |  |  |  |  |  |  |  |  |  |  |  |  |  |  |  |  |
|--|--|--|--|--|--|--|--|--|--|--|--|--|--|--|--|--|--|--|--|
|  |  |  |  |  |  |  |  |  |  |  |  |  |  |  |  |  |  |  |  |
|  |  |  |  |  |  |  |  |  |  |  |  |  |  |  |  |  |  |  |  |
|  |  |  |  |  |  |  |  |  |  |  |  |  |  |  |  |  |  |  |  |

- A. 11.00                          B. 11.30                          C. 12.30

30. Aşağıdaki bilgilere göre Efe ile Ece'nin yaşları toplamı en fazla kaç olabilir?

$$18 < \text{Ece'nin yaşı} < 27$$

$$\text{Efe'nin yaşı} = 23$$

|  |  |  |  |  |  |  |  |  |  |  |  |  |  |  |  |  |  |  |  |
|--|--|--|--|--|--|--|--|--|--|--|--|--|--|--|--|--|--|--|--|
|  |  |  |  |  |  |  |  |  |  |  |  |  |  |  |  |  |  |  |  |
|  |  |  |  |  |  |  |  |  |  |  |  |  |  |  |  |  |  |  |  |
|  |  |  |  |  |  |  |  |  |  |  |  |  |  |  |  |  |  |  |  |

- A. 42                          B. 50                          C. 49

HARİKASINIZ ÇOCUKLAR :)