




Adı Soyadı : .....

Ödev Kontrol : .....



## EN GÜZEL MİSAFİR

Güzel bir bahar sabahıydı. Efe uykudan yeni uyanmıştı. Odasını havalandırmak için pencereyi açtı. Pencereden gelen temiz havayı içine çekerken bir ses duydu. Sesin geldiği tarafa döndü. Yavru bir köpek ona bakıyordu.



Efe hemen bahçeye çıktı. Köpeğin yanına gittiğinde ayağının incinmiş olduğunu gördü. Yürüyemiyordu. Durumu annesine anlattı. Annesi köpeğe önce bir kâse süt verdi. Sonra birlikte köpeği veterinere götürdüler.

Annesi Efe'ye, köpeğe iyileşene kadar bahçede bakabileceğini söyledi. Efe çok mutlu oldu.

◆ Metinde anlatılan olayları oluş sırasına göre 1'den başlayıp numaralandıralım.

?

Durumu annesine anlattı.

1

Efe odasının penceresini açtı.

?

Köpeği birlikte veterinere götürdüler.

?

Bahçede yavru bir köpek gördü.

◆ Aşağıdaki soruları metne göre yanıtlayalım.

? Yavru köpeğe kim süt vermiş?

? Efe neden çok mutlu olmuş?

◆ Görselleri verilen varlıkların isimlerini söylerken ağızımızın kaç kez hareket ettiğini örnekteki gibi yazalım.



ba-lık  
2




?




?



?



?



?

◆ Aşağıdaki sözcüklerin satır sonuna sığmadığını düşünelim. Örnekteki gibi yazalım.

okulum



oku-

lum

parmak



?

araba



?

yağmur



?

◆ Aşağıdaki sözcüklerin hecelerini ve hece sayısını yazalım.

ağaç

a-ğaç

2

ke  stane

kitaplık

mart

çarşaf

otomobil

arkadaş

yaz

◆ Verilen hecelerle örnekteki gibi anlamlı sözcükler oluşturup yazalım.

ba - kum - ra

san - a - sör

nus - ok - ya

kumbara

te - fon - le

kar - ma - na

part - man - a

ba - kur - ğa

ket - bas - bol

çurt - ma - u

Aşağıdaki sözcüklerden hangisinin harf sayısı diğerlerinden fazladır?

A) yağmur

B) bulut

C) güneş

◆ Toplama işlemlerini yapalım. Toplamlara karşılık gelen harfleri kutulara yazarak şifreyi bulalım.

$$\begin{array}{r} ? \ 4 \\ + \ 3 \\ \hline \end{array}$$

A

$$\begin{array}{r} ? \ 9 \\ + \ 5 \\ \hline \end{array}$$

İ

$$\begin{array}{r} ? \ 8 \\ + \ 4 \\ \hline \end{array}$$

O

$$\begin{array}{r} ? \ 7 \\ + \ 9 \\ \hline \end{array}$$

E

$$\begin{array}{r} ? \ 12 \\ + \ 7 \\ \hline \end{array}$$

R

$$\begin{array}{r} ? \ 11 \\ + \ 6 \\ \hline \end{array}$$

D

$$\begin{array}{r} ? \ 2 \\ + \ 8 \\ \hline \end{array}$$

Ş

$$\begin{array}{r} ? \ 15 \\ + \ 5 \\ \hline \end{array}$$

L

$$\begin{array}{r} ? \ 6 \\ + \ 2 \\ \hline \end{array}$$

Y

$$\begin{array}{r} ? \ 3 \\ + \ 6 \\ \hline \end{array}$$

K

$$\begin{array}{r} ? \ 5 \\ + \ 6 \\ \hline \end{array}$$

I

$$\begin{array}{r} ? \ 6 \\ + \ 7 \\ \hline \end{array}$$

F

?

10

14

13

19

16

?

9

12

20

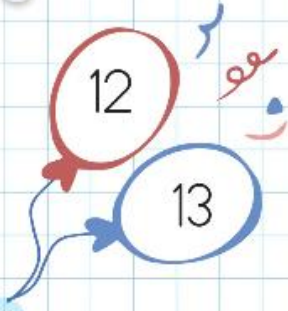
7

8

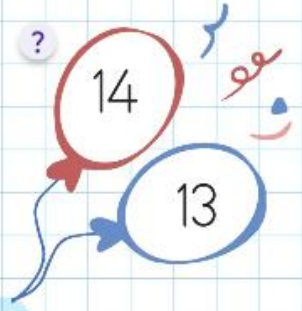
17

11


◆ Toplama işlemlerini yapalım. Sonuçların yazılı olduğu balonları boyayalım. ?



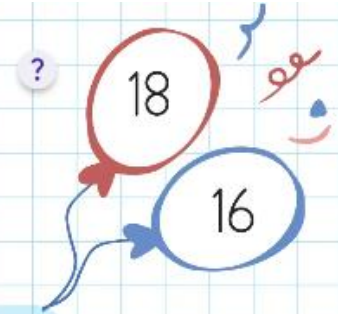
$$4 + 8 = \dots\dots\dots$$



$$7 + 6 = \dots\dots\dots$$



$$11 + 5 = \dots\dots\dots$$



$$8 + 8 = \dots\dots\dots$$

◆ Aşağıda öğeleri verilen çıkarma işlemlerini yazalım ve yapalım.

Eksilen: 9

Çıkan: 4

Fark: 5

$$\begin{array}{r} 9 \\ - 4 \\ \hline 5 \end{array}$$

Eksilen: 8

Çıkan: 2

Fark: .....

$$\begin{array}{r} \dots\dots \\ - \dots\dots \\ \hline \dots\dots \end{array}$$

Eksilen: 12

Çıkan: 5

Fark: .....

$$\begin{array}{r} \dots\dots \\ - \dots\dots \\ \hline \dots\dots \end{array}$$

Eksilen: 16

Çıkan: 8

Fark: .....

$$\begin{array}{r} \dots\dots \\ - \dots\dots \\ \hline \dots\dots \end{array}$$

## Çıkarma İşlemi

- Aşağıdaki çıkarma işlemlerini yapalım. Sonuçlara göre görseli uygun renklerle boyayalım.

7



0



9



3



10



8



12



$$16 - 6 = \dots$$

$$10 - 1 = \dots$$

$$15 - 3 = \dots$$

$$\begin{array}{r} 13 \\ -13 \\ \hline \dots \end{array}$$

$$\begin{array}{r} 13 \\ -4 \\ \hline \dots \end{array}$$

$$\begin{array}{r} 9 \\ -6 \\ \hline \dots \end{array}$$

$$\begin{array}{r} 17 \\ -5 \\ \hline \dots \end{array}$$

$$\begin{array}{r} 14 \\ -7 \\ \hline \dots \end{array}$$

$$\begin{array}{r} 12 \\ -9 \\ \hline \dots \end{array}$$

$$17 - 9 = \dots$$

$$18 - 9 = \dots$$

$$8 - 8 = \dots$$

$$15 - 5 = \dots$$

$$14 - 6 = \dots$$