

# 3. SINIF



## TÜRKÇE

*Hikaye Edici Metin Yazma  
Eş Sesli Kelimeler  
Sözcükte Anlam  
Görsel Okuma*

## MATEMATİK

*Simetri Doğrusu  
Uzunluk Ölçme*

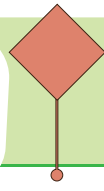

## HAYAT BİLGİSİ

*Atatürk'ün Kişisel Özellikleri  
Ülkemizin Gelişimine Katkıda  
Bulunan Kişiler*

## FEN BİLİMLERİ

*Elektrikli Araç-Gereçler  
Elektrikli Araç-Gereçlerin Günlük  
Hayatımızdaki Önemi*

# 31. HAFTA



Etkinlik

Aşağıda verilen görseller ilgili hikaye edici bir metin yazalım.



.....

.....

.....

.....

.....

.....

.....

.....

.....

.....

.....

.....

.....

.....



.....

.....

.....

## Etkinlik

Aşağıda verilen görseller hakkında bazı metinler dinletilseydi sizce bu metinlerin konusu ne olurdu? Yanlarındaki kutulara yazalım.



**Etkinlik**

Aşağıda verilen kelimeleri, anlamlarına uygun olarak cümle içinde kullanalım.

Sözcük	Örnek Cümle
köşe	.....
önce	.....
ekran	.....
ISSIZ	.....
hareketli	.....
renk	.....
birçok	.....
leke	.....

**Etkinlik**

Aşağıdaki cümlelerde anlamlarına uygun kullanılmayan sözcükleri işaretleyelim.

- O kadar az şeker yedim ki midem bulandı.
- Sessizlik bazen çok başımı ağrıtıyor.
- Sınıfımız çok temiz olduğu için süpürdük.
- Öğretmenimiz yoruldu çünkü çok az ders yaptık.
- Çantam o kadar hafif ki taşımakta zorlanıyorum.
- Buzdolabımız sağlam olduğu için tamirci çağırdık.
- Portakalın yüzeyi o kadar pürüzsüz ki elim üzerinde kayıverdi.

## Etkinlik

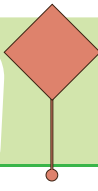

Aşağıda verilen sözcüklerden eş sesli olanları işaretleyelim.

yük	yaz	söz	yap	bağ
bin	yüz	saf	kel	diz
ses	çay	göz	hoş	pazar
kaz	çöp	kez	yem	ocak

## Etkinlik

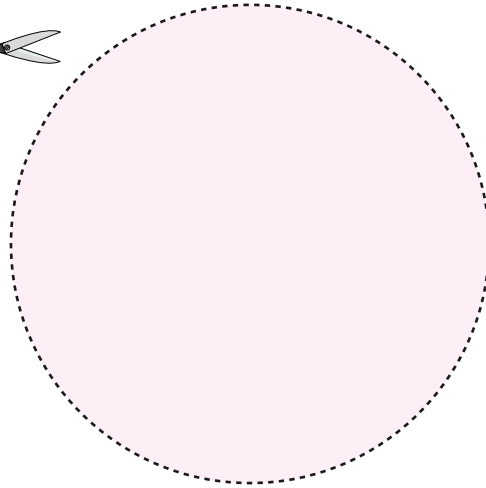


Yukarıdaki tabloda eş sesli olan altı sözcük seçip, bu sözcükleri cümle içinde kullanalım.

Sözcük	Cümle
.....	.....
.....	.....
.....	.....
.....	.....
.....	.....
.....	.....






**Etkinlik**

Aşağıda verilen şekilleri makas yardımıyla kesip, yatay ve dikey olarak katlayalım, simetri doğrularını bulalım. Tabloda istenen bilgileri dolduralım.



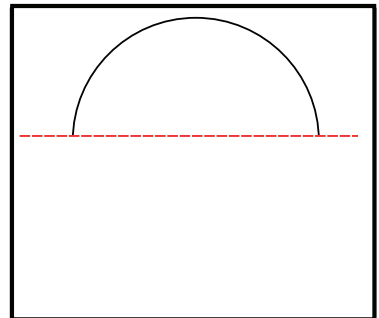
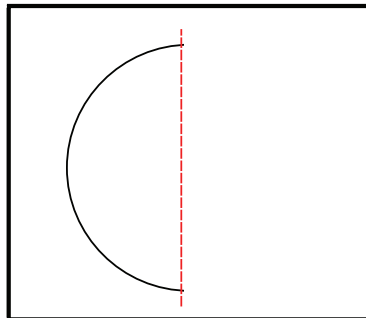
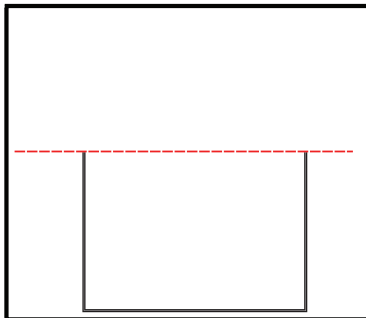
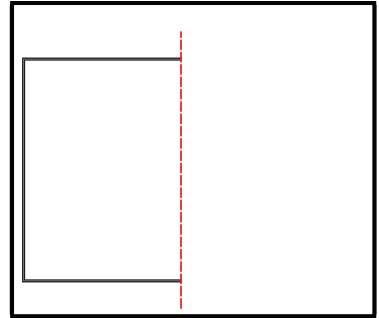
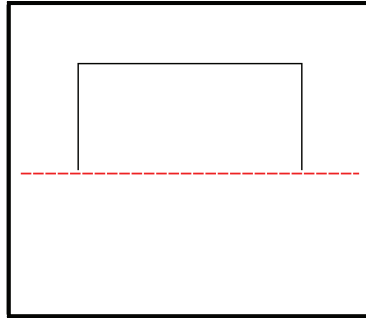
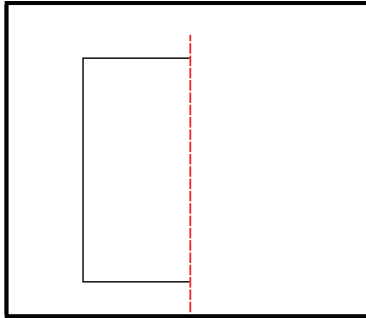
## Etkinlik

Aşağıda verilen şekilleri makas yardımıyla kesip, yatay ve dikey olarak katlayalım, simetri doğrularını bulalım. Tabloda istenen bilgileri dolduralım.

	Simetri Doğrusu Sayısı	Köşegen Sayısı	Simetri Doğrusu Aynı Zamanda Köşegeni Midir?
			
			
			

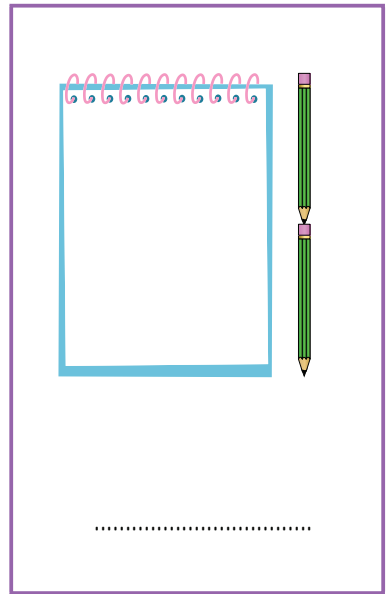
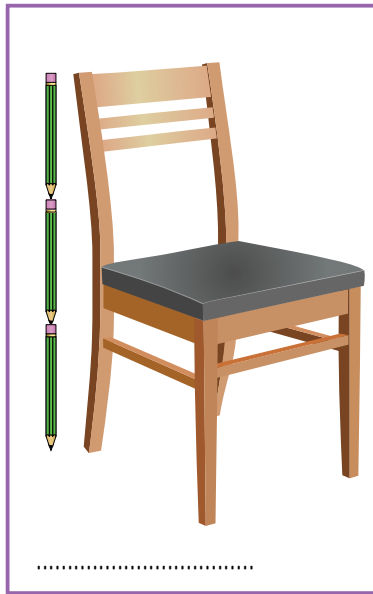

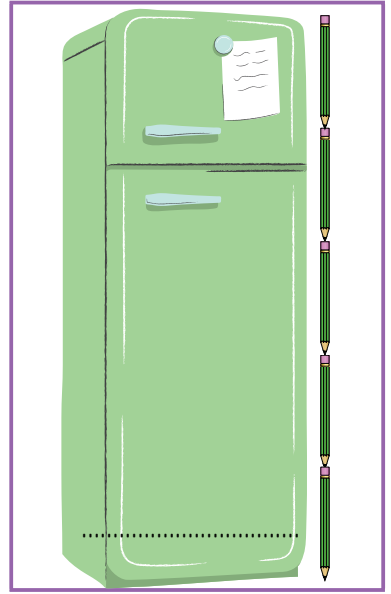
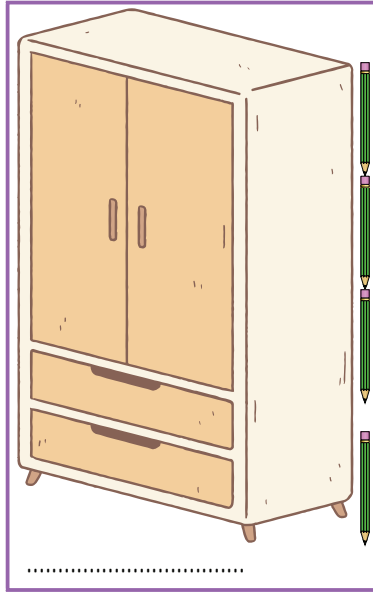
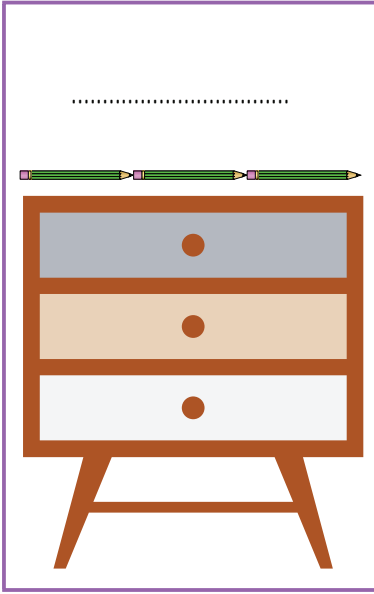
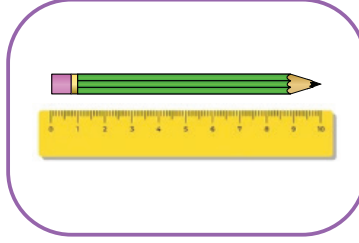
## Etkinlik

Aşağıda verilen şekillerin, simetri doğrularına göre simetrilerini çizelim.



Etkinlik


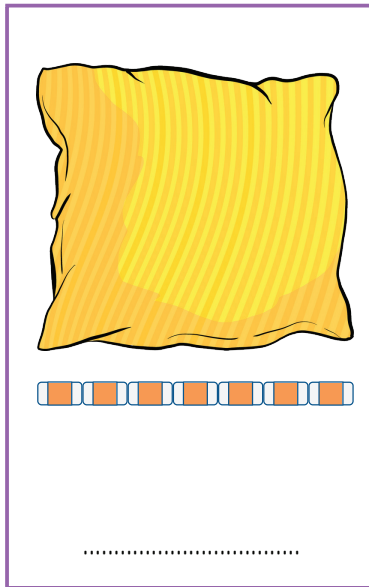
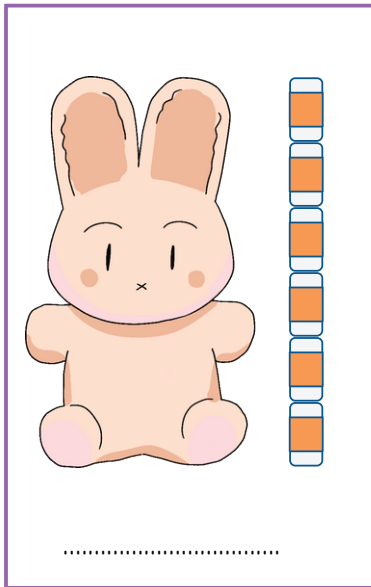
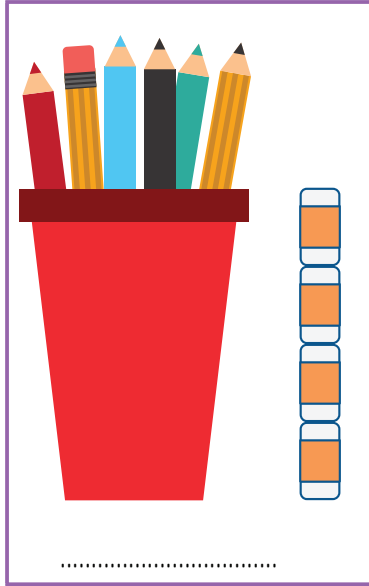
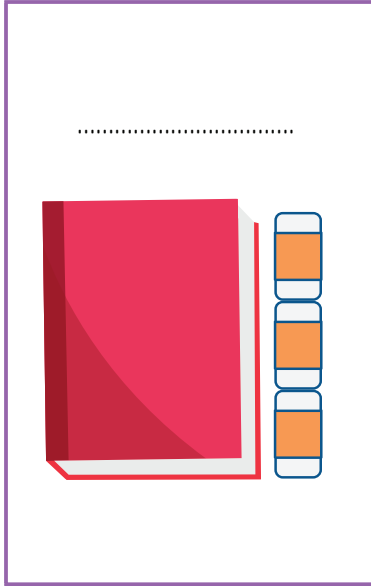
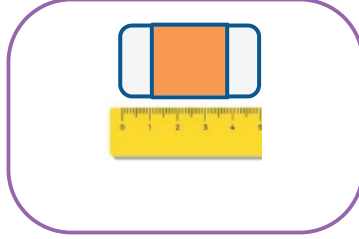
Aşağıda verilen kalem 10cm boyundadır. Bu kaleme göre diğer eşyaların uzunluk ölçüsünü cm cinsinden yazalım.





## Etkinlik

Aşağıda verilen silgi 5 cm boyundadır. Bu silgiye göre diğer eşyaların uzunluk ölçüsünü cm cinsinden yazalım.



**Etkinlik**

Aşağıda verilen bilgileri kullanarak verilen hedefler arası uzaklıkları cm cinsinden yazalım.

1 karış 10 cm	1 kulaç 1 m	1 adım yarım metre

Alize ile dondurma arası uzaklık:	
Dondurma ile çikolata arası uzaklık:	
Çikolata ile basketbol topu arası uzaklık:	
Dondurma ile basketbol topu arasındaki uzaklık:	
Alize ile çikolata arasındaki uzaklık:	

## Etkinlik

Uzunlukları 5cm, 10cm, yarım metre ve 1 m olan dört parça ip kesip, bu iplerle tabloda verilen eşyaların uzunluğunu ölçüp iplerden kaçar tane kullandığınızı örnekteki gibi yazınız.

	5 cm	10 cm	Yarım metre	1 m
Sınıf Tahtası	40 tane	20 tane	4 tane	2 tane
Sınıf Penceresi				
Sınıf Kapısı				
Öğretmen Masası				
Okul Kapısı				
Sıra				
Sıra Arkadaşımın Boyu				
Sınıfın Boyu				

### Etkinlik

Uzunlukları 5cm, 10cm, yarım metre ve 1 m olan dört parça ip kesip, bu iplerle tabloda verilen eşyaların uzunluğunu ölçüp iplerden kaçar tane kullandığınızı örnekteki gibi yazınız.

	5 cm	10 cm	Yarım metre	1 m
Televizyon	20 tane	10 tane	2 tane	1 tane
Buzdolabı				
Yatak				
Halı				
Koltuk				
Mutfak Masası				
Annemin Boyu				
Odamın Kapısının Boyu				

## Etkinlik

Aşağıda verilen ifadelerden doğru olanların yıldızını yeşile, yanlış olanlarına yıldızını kırmızıya boyyalım.

- ☆ Elektrikli araçlar sadece evde kullanılır.
- ☆ Elektrikli araç-gereçler sadece şarj ile çalışır.
- ☆ Elektrikli araç-gereçler günlük hayatımızı kolaylaştırır.
- ☆ Elektrik sonsuz bir kaynaktır.
- ☆ Çamaşır makinesi kıyafetlerimizin temizliğinde kullandığımız elektrikli bir araçtır.
- ☆ Bilgisayar elektrikle çalışan bir araçtır.
- ☆ Elektrikli araçlar zamandan tasarruf etmemizi sağlar.
- ☆ Elektrik kesildiğinde birçok günlük işimiz aksar.
- ☆ Buzdolabı, yiyeceklerimizi uzun süre bozulmadan saklamamıza yarayan elektrikli ev araçlarından biridir.

## Etkinlik

Aşağıda verilen tabloları tamamlayalım.

Evde Kullandığımız Elektrikli Araç-Gereçler:	Okulda Kullandığımız Elektrikli Araç-Gereçler:


## Etkinlik

Aşağıda verilen elektrikli aletlerin adını ve kullanım alanlarını yazalı. Elektriksiz kalan bu araçların günlük hayatımıza yansıyacak olan olumsuz sonuçlarını yazalım.



Adı ve Kullanım Alanı	Elektrik olmasaydı:
-----------------------	---------------------

Adı ve Kullanım Alanı	Elektrik olmasaydı:
-----------------------	---------------------



Adı ve Kullanım Alanı	Elektrik olmasaydı:
-----------------------	---------------------

Adı ve Kullanım Alanı	Elektrik olmasaydı:
-----------------------	---------------------



## Etkinlik

Aşağıda verilen elektrikli araç-gereçlerin de içinde geçtiği, günlük yaşantımızı anlatan kısa bir hikaye yazalım.

Diş Fırçası

Ütü

Mikser

Süpürge

Televizyon

Tablet

Buzdolabı

Modem

Kombi

Su Isıtıcı

Large empty area with horizontal dotted lines for writing a story.

### Etkinlik

Aşağıda Atatürk'ün bazı sözleri verilmiştir. Bu sözlerle Atatürk'ün kişisel özelliklerini eşleştirelim.

1 Eğer bir gün benim sözlerim bilim ile ters düşerse bilimi seçin.

1

2 Akıl ve mantığın halledemeyeceği mesele yoktur.

2

3 Sanatsız kalan bir milletin hayat damarlarından biri kopmuş demektir.

3

4 Ben düşündüklerimi daima halkın huzurunda söylemeliyim. Yanlışım varsa halk beni eleştirir.

4

5 Yolunda yürüyen bir yolcunun yalnız ufku görmesi yeterli değildir. Mutlaka ufkun ötesini de görmesi şarttır.

5

6 Benim her emrim yapılır çünkü benden yapılmayacak emirler çıkmaz.

6





## Etkinlik

Aşağıda ülkemize katkıda bulunan bazı kişilerle bu kişilerin yaptıkları çalışmalar verilmiştir. Çalışmaları doğru kişilerle eşleştirelim.




Engin Arık

Bağımsızlığımızın simgelerinden biri olan İstiklal Marşımızın yazarıdır.



Jale İnan

Ülkemizin yetiştirdiği önemli bilim insanıdır. Fizik profesörüdür. Cern'de bilim insanlarına liderlik yapmıştır.




Mehmet Akif Ersoy

Türkiye'de ulusal selüloz ve kâğıt sanayisinin kurulmasındaki önderlik ve öncülük rolü üstlendi ve Türk kâğıt sanayisinin kurucusu oldu.



Mehmet Ali Kağıtçı

Birçok olimpiyatta elde etmiş olduğu başarılarla ünlü bir sporcudur. Otoritelere göre tüm zamanların en iyi haltercisidir.



Naim Süleymanoğlu

Türkiye'nin ilk kadın arkeoloğudur. Ülkemizdeki birçok antik şehrin kazı çalışmalarına katılmıştır. Antalya ve Side müzelerinin kurulması sağlanmıştır.

**Etkinlik**

Aşağıda ülkemize katkıda bulunan bazı kişilerle bu kişilerin yaptıkları çalışmalar verilmiştir. Çalışmaları doğru kişilerle eşleştirelim.




Nene Hatun

93 Harbi sırasında Erzurum'da Aziziye savunmasına katılan, Rus işgaline karşı Erzurum'daki halk direnişinin simgesi hâline gelmiş Türk kadın kahraman.



Nuri Demirağ

Türkiye'de çay tarımının başlamasına ve yayılmasına önderlik etmiştir; "çayın babası" olarak bilinir.



Vecihi Hürkuş

Türk havacılık tarihinin en önemli isimlerinden biridir, Türkiye'nin ilk uçak tasarımcısı ve üreticisidir, Türkiye'nin ilk yerli uçağını üretmiştir.











Zihni Derin

Türkiye Cumhuriyeti Devlet Demiryolları inşaatının ilk müteahhitlerindedir. Türkiye'nin 10000 kilometrelik demiryolu ağının 1250 km'lik bölümünün inşasını gerçekleştirmiş ve bu nedenle kendisine Mustafa Kemal Atatürk tarafından "Demirağ" soyadı verilmiştir.

## Etkinlik

Aşağıda ülkemize katkıda bulunan kişilerin isimleri verilmiştir. Kişilerin ülkemiz için yapmış oldukları faydalı işleri yazalım. Etkinliği kesip mini kitap haline getirelim.

<p>.....</p> <p>.....</p> <p>.....</p> <p>.....</p> <p>.....</p> <p>.....</p>	<p>Jale İnan</p> 	<p>Engin Arık</p> 	<p>.....</p> <p>.....</p> <p>.....</p> <p>.....</p> <p>.....</p> <p>.....</p>
<p>.....</p> <p>.....</p> <p>.....</p> <p>.....</p> <p>.....</p> <p>.....</p>	<p>Mehmet Akif Ersoy</p> 	<p>Naim Süleymanoğlu</p> 	<p>.....</p> <p>.....</p> <p>.....</p> <p>.....</p> <p>.....</p> <p>.....</p>
<p>.....</p> <p>.....</p> <p>.....</p> <p>.....</p> <p>.....</p> <p>.....</p>	<p>Vecihi Hürkuş</p> 	<p>Nuri Demirağ</p> 	<p>.....</p> <p>.....</p> <p>.....</p> <p>.....</p> <p>.....</p> <p>.....</p>
<p>.....</p> <p>.....</p> <p>.....</p> <p>.....</p> <p>.....</p> <p>.....</p>	<p>Nene Hatun</p> 	<p>Mehmet Ali Koc</p> 	<p>.....</p> <p>.....</p> <p>.....</p> <p>.....</p> <p>.....</p> <p>.....</p>

1. Aşağıda bazı metinlerde kullanılan görseller verilmiştir. Bu görsellerin kullanıldığı metinlerin konusunu yazalım.



Konu: .....  
.....  
.....



Konu: .....  
.....  
.....



Konu: .....  
.....  
.....

2. Aşağıda verilen sözcüklerle anlamlarına uygun olarak birer cümle kuralım.

bazı	..... .....
söz	..... .....
çoğu	..... .....
kimi	..... .....
neredeyse	..... .....

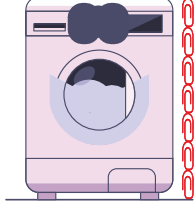
3. Aşağıda verilmiş olan eş sesli sözcüklerin iki ayrı anlamıyla birer örnek cümle kuralım.

boğaz	..... .....
alt	..... .....
sağ	..... .....

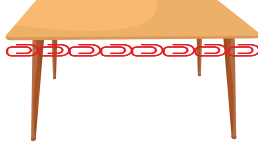
4. Aşağıda verilen geometrik şekillerin kaç simetri doğrusu olduğunu yazalım.

	Simetri Doğrusu Sayısı

5. Aşağıda 5cm boyunda bir ataş verilmiştir. Bu ataş ile eşyaları ölçelim. Ölçüm sonucunu cm cinsinden yazalım.



..... cm



..... cm



..... cm

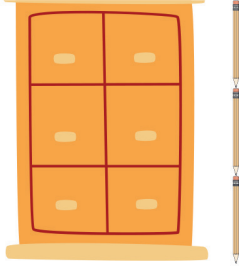


..... cm


6. Aşağıda 10cm boyunda bir kalem verilmiştir. Bu kalem ile eşyaları ölçelim. Ölçüm sonucunu cm cinsinden yazalım.



..... cm



..... cm



..... cm

7. Bir karışı 5cm olan Deniz sınıf tahtasını ölçmek için 12 tane karış ölçüsü kullanmıştır. Buna göre sınıf tahtası kaç cm'dir?

8. Bir adımı yarım metre olan Faruk, sınıfın uzunluğunu ölçmek için 24 adım atmıştır. Buna göre sınıfın uzunluğu kaç m'dir?

9. Bir kulacı 1m olan Zeynep, odasındaki halıyı 3 kulaç olarak ölçüyor. Buna göre halı kaç m uzunluğundadır?

10. Aşağıda evlerimizin bazı bölümleri verilmiştir. Evlerimizin bu bölümünde kullandığımız elektrikli araç-gereçlere örnekler verelim.



.....

.....

.....

.....

.....

.....

11. Teknolojimiz gün geçtikçe ilerliyor. İleride icat edilebilecek bir elektrikli araç hayal edelim. Ne için kullanılırdı yazalım, nasıl görünürdü çizelim.

Ne için kullanılırdı?	Nasıl görünürdü?

12. Atatürk'ün bildiğimiz kişisel özelliklerini yazalım.



.....

.....

.....

.....

.....

.....

13. Ülkemizin gelişmesinde ve ilerlemesinde rol almış bazı kişiler aşağıda verilmiştir. Bu kişileri yaptıkları çalışmalar ile eşleştirelim.

Jale İnan	Erzurum'daki halk direnişinin sembolü haline gelmiş Türk kadın kahramanı.
Nene Hatun	Çay tarımının başlamasına ve yayılmasına önderlik eden çayın babasıdır.
Zihni Derin	Türkiye'nin ilk kadın arkeoloğudur.
Mehmet Akif Ersoy	Bağımsızlığımızın simgelerinden biri olan İstiklal Marşı'nın yazarıdır.

1. Aşağıda bazı metinlerde kullanılan görseller verilmiştir. Bu görsellerin kullanıldığı metinlerin konusunu yazalım.



Konu: ÖĞRENCİ  
YORUMU



Konu: ÖĞRENCİ  
YORUMU



Konu: ÖĞRENCİ  
YORUMU




2. Aşağıda verilen sözcüklerle anlamlarına uygun olarak birer cümle kuralım.

bazı	Bazı dersler çok eğlenceli.
söz	Arkadaşlarımdan verdikleri sözleri tutmalarını isterim.
çoğu	Meyvelerin çoğunu severim ama çilek benim için bir başka.
kimi	Kimi zaman uyumakta zorlanıyorum.
neredeyse	Çantama su dökülünce neredeyse tüm kitaplarım ıslanmış.


3. Aşağıda verilmiş olan eş sesli sözcüklerin iki ayrı anlamıyla birer örnek cümle kuralım.

boğaz	Boğazdan gemiler geçiyor. Boğazım çok ağrıyor.
alt	Üç ciltlik kitap aldım. Cildim çok kurudu.
sağ	Sağ salım gidin, gelin. Ben sağ elimi kullanırım.

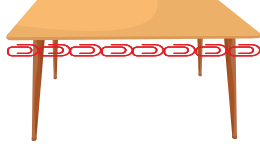
4. Aşağıda verilen geometrik şekillerin kaç simetri doğrusu olduğunu yazalım.

	Simetri Doğrusu Sayısı
	4
	2
	Sonsuz

5. Aşağıda 5cm boyunda bir ataş verilmiştir. Bu ataş ile eşyaları ölçelim. Ölçüm sonucunu cm cinsinden yazalım.



..... 35 ..... cm



..... 40 ..... cm



..... 25 ..... cm

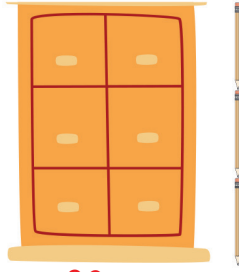


..... 15 ..... cm


6. Aşağıda 10cm boyunda bir kalem verilmiştir. Bu kalem ile eşyaları ölçelim. Ölçüm sonucunu cm cinsinden yazalım.



..... 20 ..... cm



..... 30 ..... cm



..... 40 ..... cm

7. Bir karışı 5cm olan Deniz sınıf tahtasını ölçmek için 12 tane karış ölçüsü kullanmıştır. Buna göre sınıf tahtası kaç cm'dir?

$$12 \times 5 = 60 \text{ cm'dir}$$

8. Bir adımı yarım metre olan Faruk, sınıfın uzunluğunu ölçmek için 24 adım atmıştır. Buna göre sınıfın uzunluğu kaç m'dir?

$$1 \text{ metre} = 2 \text{ tane yarım metre}$$

$$24 \div 2 = 12 \text{ metredir.}$$

9. Bir kulacı 1m olan Zeynep, odasındaki halıyı 3 kulaç olarak ölçüyor. Buna göre halı kaç m uzunluğundadır?

$$3 \times 1 = 3 \text{ metredir.}$$



10. Aşağıda evlerimizin bazı bölümleri verilmiştir. Evlerimizin bu bölümünde kullandığımız elektrikli araç-gereçlere örnekler verelim.



Buzdolabı, bulaşık makinesi,  
lamba, mikser, çay ve kahve  
makinelere,



Çamaşır makinesi, saç ku-  
rutma makinesi, tıraş maki-  
nesi, diş fırçası



Televizyon, lamba, bilgisa-  
yar, radyo, abajur

11. Teknolojimiz gün geçtikçe ilerliyor. İleride icat edilebilecek bir elektrikli araç hayal edelim. Ne için kullanılırdı yazalım, nasıl görünürdü çizelim.

Ne için kullanılırdı?	Nasıl görünürdü?
ÖĞRENCİ YORUMU	ÖĞRENCİ YORUMU

12. Atatürk'ün bildiğimiz kişisel özelliklerini yazalım.



İleri görüşlülük  
Açık sözlülük  
Liderlik  
Güvenilirlik  
Kararlılık  
Azimlilik  
Sanatseverlik  
Vatanseverlik  
Çalışkanlık

13. Ülkemizin gelişmesinde ve ilerlemesinde rol almış bazı kişiler aşağıda verilmiştir. Bu kişileri yaptıkları çalışmalar ile eşleştirelim.

Jale İnan	Erzurum'daki halk direnişinin sembolü haline gelmiş Türk kadın kahramanı.
Nene Hatun	Çay tarımının başmasına ve yayılmasına önderlik eden çayın babasıdır.
Zihni Derin	Türkiye'nin ilk kadın arkeoloğudur.
Mehmet Akif Ersoy	Bağımsızlığımızın simgelerinden biri olan İstiklal Marşı'nın yazarıdır.