

OKU VE ANLA

Aşağıdaki şiiri en az iki defa okuyalım. Şiirle ilgili soruları cevaplayalım.

MEVSİMLER

Bir yılda dört mevsim var,
En güzeli ilkbahar,
Çok güzel mevsimdir yaz,
Meyvesi eksik olmaz.

Sonbahara güz derler,
Sarılar bütün yerler,
Kış soğuktur, yağar kar,
Bir yılda dört mevsim var.



1. Bir yılda kaç mevsim vardır?

.....

2. Yaz mevsiminde eksik olmayan nedir?

.....

3. Sonbaharın diğer adı nedir?

.....

4. Kışın ne yağar?

.....

Aşağıdaki kelimeleri ok yönünde en az iki defa okuyalım.

yağmur çamur hamur Timur
balık çalık aralık analık
pazar yazar kazar bozar

Aşağıdaki kelimeleri hecelerine ayırarak yazalım.

arkadaş
↓ ↓ ↓
.....

yumurta
↓ ↓ ↓
.....

dondurma
↓ ↓ ↓
.....

MINİ TEST

Aşağıdaki cümlelerin hangisi dört sözcükten oluşmuştur?

- A) Çağla ağacı yemyeşildi.
- B) Ezgi okula geç kaldı.
- C) Elmalar kıpkırmızıydı.

Aşağıdakilerden hangisi alfabemizde "J" harfinden önce gelir?

- A) L
- B) K
- C) İ

Aşağıdaki tekerlemeleri en az iki defa okuyalım. Resimleri boyayalım.


ARMUT

Mut mut armut,
Önce sapından tut.
Güzelce yıka,
Çiğne çiğne yut.



TIRTILCIK

Tıkr tıkr tıkrıcık,
Daldan düştü pıtırıcık.
Pıtırıcık mıtırıcık,
Nerede kaldı tırtılıcık.



LEYLEK

Leylek leylek havada,
Yumurtası tavada,
Kızlar kahve kavurur,
Şingirdaklı tavada.



TOPUM

Bir topum var lastikten,
Lastik değil çelikten,
Ne yırtılır ne patlar,
Vurdukça zıplar atlar.



ZIT ANLAMLARINI BULALIM

var	islak
yokuş	git
giriş	yaz
büyük	az

Aşağıdaki sözcükleri zıt (karşıt) anlamlılarıyla örnekteki gibi eşleştirelim.

fakir

sevinç

alt

savaş

iyi

acemi

güzel

açık

barış

üst

kötü

üzüntü

zengin

çirkin

kapalı

usta

MINİ TEST - 2 -

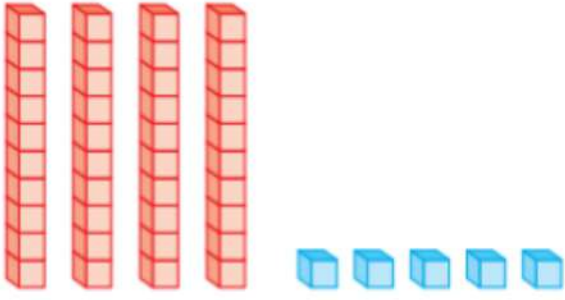
Aşağıdaki varlıklardan hangisinin adında "a" harfi yoktur?

A) B) C)

Aşağıdaki kelimelerden hangisi hecelerine yanlış ayrılmıştır?

- A) küt - üp - han - e
B) o - dun - luk
C) ça - lış - kan

Basamak Adları

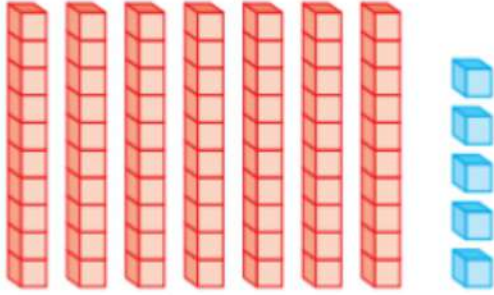


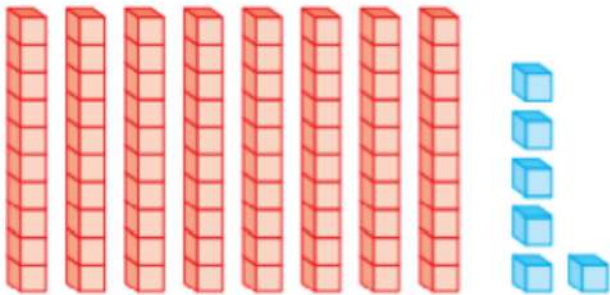
45

Kırk beş

→ Birler basamağı

→ Onlar basamağı





Basamak Kavramı



	onluklar	birlikler
sayı		
basamak adları	onlar basamağı	birler basamağı
rakamın basamak değeri	30	3

onluklar	birlikler
...	...
onlar basamağı	birler basamağı
...	...

onluklar	birlikler
...	...
onlar basamağı	birler basamağı
...	...

Aşağıdaki doğal sayıların ok ile gösterilen basamağının adını yazalım.

27



..... basamağı

51



..... basamağı

40



..... basamağı

83



..... basamağı

Aşağıdaki cümlelerden doğru olanları işaretleyelim.

- 3 onluk ve 7 birlikten oluşan sayının onlar basamağı 3'tür.
- 56'nın birler basamağında 5 vardır.
- Bir basamaklı en büyük sayı 9'dur.
- İki basamaklı en büyük sayı 90'dır.

Aşağıdaki doğal sayıların ok ile gösterilen basamağının basamak değerini yazalım.

25 ↓	18 ↓	39 ↓	43 ↓	71 ↓
62 ↓	80 ↓	93 ↓	29 ↓	85 ↓
49 ↓	20 ↓	31 ↓	14 ↓	72 ↓
36 ↓	65 ↓	13 ↓	47 ↓	85 ↓