

Adı:
Soyadı:



Türkçe – Hayat Bilgisi -Matematik
2/A Çalışma Kağıdı



Okulumuzdur bizim ikinci evimiz,
Hayatı öğreneceğimiz yerdir biliriz.
Her sabah heyecanla dolar yüreğimiz,
Okulda cevaplanır tüm sorularımız.

? Şiirin Konusu :

Şefkatle bizi saran öğretmenimiz,
Bilgi ile beslenir zihinlerimiz.
Sevgi ve kardeşlikle büyür bedenlerimiz,
Okuldur bizim ikinci evimiz.

? Şiire En Uygun Başlık:

Bahar ÇEBİ

1) Çocuk, okulunu ne olarak görüyor?

2) Çocuk, sorularının cevabını nerede buluyor?

3) Çocuk, zihnini okulda ne ile besliyor?

Cümlede Anlam

Aşağıdaki cümlelere göre verilen soruları yanıtlayınız.

Annem pazardan iki kilogram domates aldı.

a. Annem pazardan ne aldı? _____

b. Pazardan domatesi kim aldı? _____

c. Annem, pazardan ne kadar domates aldı? _____

1, 2 ve 3. soruları aşağıdaki hikâyeye göre cevaplayalım.

Belki görmüşsünüzdür, geceleri ağaç dallarında, otların arasında ve kovuklarda bir böcek çıra gibi parlar.

Ateş böceği denen bu böceğe sormuşlar:

- Ey geceleri parlayan böcek, neden gündüz ortalıkta görünmüyorsun?

Ateş böceği cevap vermiş:

- Ben gece de gündüz de ortadayım. Bir yere saklandığım yok. Fakat gündüzleri güneşin ışığının yanında, benimkisi, görünmeyecek kadar sönükleşiyor.

Hayvan Hikâyeleri

3. Ateş böceği neden gündüzleri görünmüyormuş?

- A) Güneşten korktuğu için
- B) Orman hayvanlarını görmek istemediği için
- C) Güneş ışığı yanında kendi ışığı sönükleştiği için

4.

Öğretmenim bir melek,
Tatlı tatlı gülerek,
Anlatır dersleri,
Öperim ellerini...

Bu şiirin konusu aşağıdakilerden hangisidir?

- A) Anne
- B) Öğretmen
- C) Doğa

1. Aşağıdakilerden hangisi hikâyenin başlığı olabilir?

- A) Ateş Böceği
- B) Gece ve Gündüz
- C) Güneş

2. Ateş böceği geceleri ne gibi parlıyormuş?

- A) Meşale
- B) Çıra
- C) Güneş

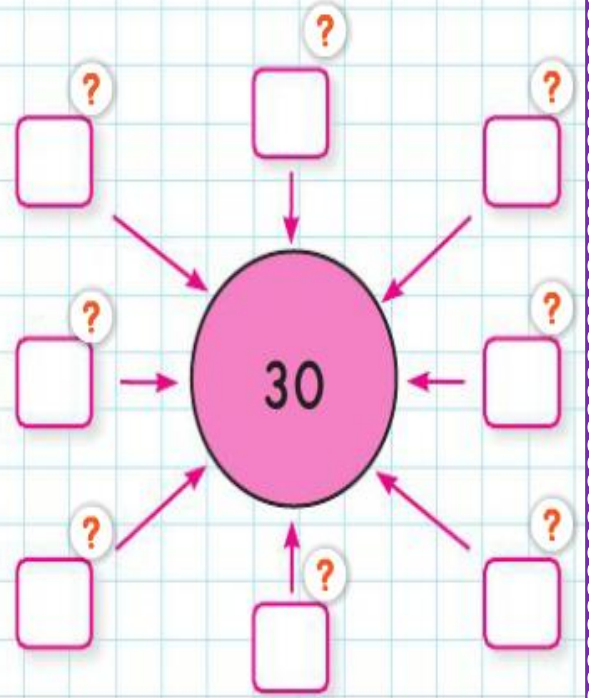
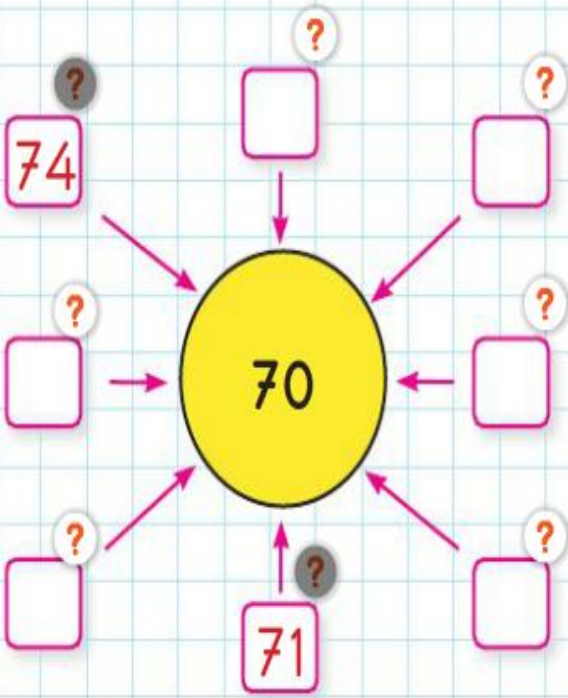
5.

Sen baharda nazlı çiçek,
Ben çiçekte tumbul böcek,
Sensin beni güldürecek,
Anneciğim, biriciğim.
Mevlüt Kaplan

Bu şiirin konusu aşağıdakilerden hangisidir?

- A) Bayrak
- B) Orman
- C) Anne

Aşağıda verilen onluklara yakın olan sayılar yazalım.



Etkinlik

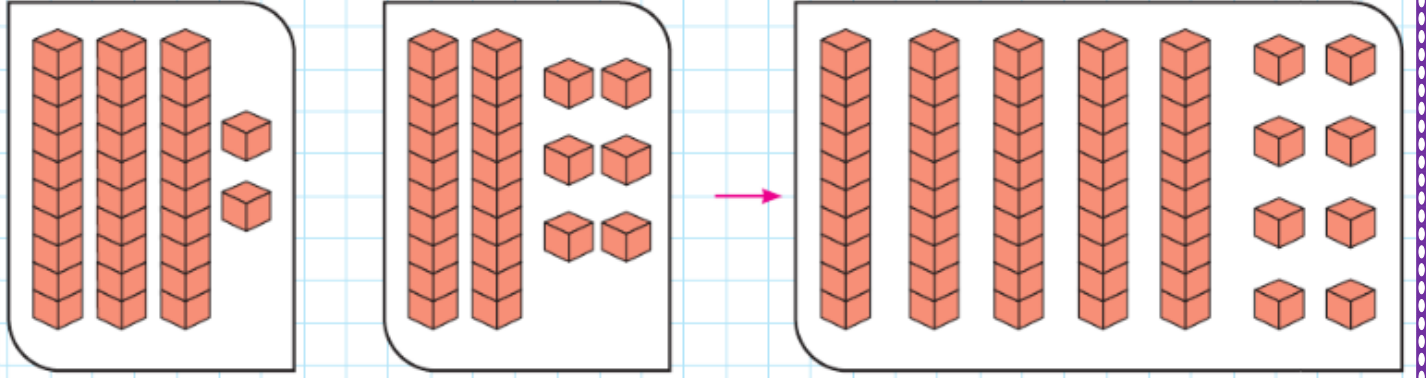
Aşağıdaki toplama işlemlerini yapalım.

$$\begin{array}{r} 39 \\ + 46 \\ \hline \end{array}$$
$$\begin{array}{r} 58 \\ + 29 \\ \hline \end{array}$$
$$\begin{array}{r} 49 \\ + 29 \\ \hline \end{array}$$
$$\begin{array}{r} 53 \\ + 47 \\ \hline \end{array}$$
$$\begin{array}{r} 65 \\ + 28 \\ \hline \end{array}$$

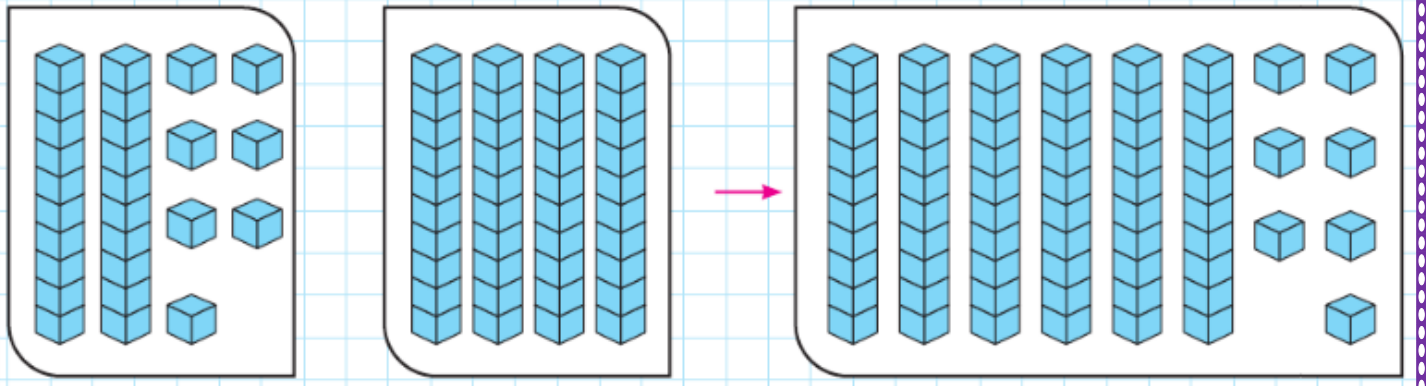
$$\begin{array}{r} 48 \\ + 38 \\ \hline \end{array}$$
$$\begin{array}{r} 27 \\ + 48 \\ \hline \end{array}$$
$$\begin{array}{r} 59 \\ + 28 \\ \hline \end{array}$$
$$\begin{array}{r} 67 \\ + 16 \\ \hline \end{array}$$
$$\begin{array}{r} 41 \\ + 39 \\ \hline \end{array}$$

$$\begin{array}{r} 13 \\ + 28 \\ + 38 \\ \hline \end{array}$$
$$\begin{array}{r} 10 \\ + 22 \\ + 58 \\ \hline \end{array}$$
$$\begin{array}{r} 22 \\ + 36 \\ + 34 \\ \hline \end{array}$$
$$\begin{array}{r} 21 \\ + 39 \\ + 40 \\ \hline \end{array}$$
$$\begin{array}{r} 40 \\ + 34 \\ + 18 \\ \hline \end{array}$$

1. Aşağıdaki modellerin belirttiği toplama işlemlerini yazalım.



..... + =



..... + =

Akrabalarım

Aşağıdaki soruların yanıtlarını bulmacadan bularak işaretleyiniz.

- Babamızın babasına ne deriz?
- Babamızın annesine ne deriz?
- Annemizin kız kardeşine ne deriz?
- Annemizin erkek kardeşine ne deriz?
- Babamızın erkek kardeşine ne deriz?
- Babamızın kız kardeşine ne deriz?
- Halamızın eşine ne deriz?
- Teyzemizin çocuklarına ne deriz?

U	E	İ	D	F	H
K	U	Z	E	N	A
G	S	Y	D	L	L
N	İ	N	E	O	A
A	M	C	A	Ö	U
E	N	İ	Ş	T	E
D	A	Y	İ	P	S
T	E	Y	Z	E	Ü



Aşağıdaki problemleri çözelim, şifreyi bulalım.

1.

?



Samet

80 sayısından bir önce gelen sayıyı defterime yazdım.

Onlar basamağındaki rakamı 2 olan iki basamaklı en büyük sayıyı defterime yazdım.



Neşe

Neşe ve Samet'in defterlerine yazdıkları sayıların farkı kaçtır? (A)

Q

4.

?

45'ten bir sonra gelen sayıya 3 ekleyip 9 çıkarırsak hangi sayıyı buluruz? (I)

Q

5.

?

54 sayısından bir önce gelen sayı ile 29 sayısından bir sonra gelen sayının toplamı kaçtır? (O)

2.

?

26 sayısından bir önce gelen sayı ile 19 sayısından bir sonra gelen sayının toplamı kaçtır? (N)

Q

6.

?



Erkin

15 ile 17 arasındaki sayıyı tahtaya yazdım.

Erkin'in yazdığı sayıdan 12 çıkardım.



Ceren

3.

?

23 ile 25 sayıları arasındaki doğal sayının 44 fazlası kaçtır? (U)

Ceren'in bulduğu sayı kaçtır? (Ç)

7.
?



Oya

Onlar basamağı 4 olan en büyük sayıyı defterime yazdım.

Oya defterine yazdığı sayıdan, 23 sayısından bir önce gelen sayıyı çıkarıyor.

Hangi sayıyı bulur? (L)

?

10.
?

43

37

50

42

Kutucuklardaki sayılardan en büyük ve en küçük olanların toplamı kaçtır? (K)

?

11. $50 = \square$

?

eşitliğinde kutucuğa yazılması gereken sayının 9 eksiği kaçtır? (L)

8. 64 sayısının 25 eksiğinin 17 fazlasını defterime yazdım.

Defterime yazdığım sayı kaçtır? (Ş)

AYLA YAYINCI

?

12.

?



Duygu

26 sayısının 3 eksiğini defterime yazdım.

Duygu'nun defterine yazdığı sayı ile birler basamağı 6 olan en küçük iki basamaklı sayının toplamı kaçtır? (N)

9. 65, 56, 45, 54 sayılarından en küçük olanının 5 fazlası kaçtır? (A)

?

?

Şifre

4

50

27

40

56

87

50

45

83

41

68

39

Adı Soyadı :

Sınıf : 2/..A....

No. :

Sonuç :

Cevaplarınızı "cevap formu"na işaretlemeyi unutmayınız!

1. Tarçın, evimize geldiğinde henüz on beş günlüktü. Minicik bir sepete koyup getirmişlerdi onu. Gözlerini zorla açıyordu. Hemen bir biberon aldık eczaneden. Karnını doyurduk. Temiz bir kaba su koyduk.

Sıra ona bir ad vermeye geldi.

— Kedicğin adı Tarçın olsun. Bak-sanıza tüyleri tarçın renginde, dedi annem.

Metinde aşağıdakilerin hangisi hakkında bilgi verilmiştir?

- A. Eczaneden biberonu kimin aldığı
- B. Tarçın'ı eve kimin getirdiği
- C. Kedinin ismini kimin koyduğu

2. Soğuk süt içmek istedi.

Bu cümledeki "soğuk" sözcüğünün zıt anlamlısı aşağıdaki cümlelerin hangisinde kullanılmıştır?

- A. Bu çorba sıcak mı?
- B. Buz gibi bir ayran için.
- C. Çayı ılık mı içti?

3. Taze iken rengim yeşil,
Olgunlaşınca karayım.
Sofralardan eksik olmam.
Oldukça fazla yağlıyım.

Bu şiirde bahsedilen besin maddesi aşağıdakilerden hangisidir?

A.



B.



C.



4. Elma tatlı, kırmızı,
Sağlık verir insana,
Armut onun kardeşi,
Sepet sepet alsana.

Atila Çakıroğlu

Şiirde hangi seçenekteki meyvelerin kardeş olduğu söylenmiştir?

A.



B.



C.



5. Aşağıdaki cümlelerin hangisi altı sözcükten oluşmuştur?

- A. Semra ile Güven balkonda oturuyorlar.
- B. Efe'nin kitabını kim aldı?
- C. Eve gelince önce elini yüzünü yıkar.

6. Aşağıdaki cümlelerin hangisinde ya-zım yanlışı vardır?

- A. Cengizlere misafir gelmiş.
- B. Çantayı Büşraya verir misin?
- C. Kaloriferi yakmadınız mı?

7.

.....sayısı, 58 sayısından küçüktür.

Yukarıdaki cümle hangi seçenekteki doğal sayı ile tamamlanabilir?

- A. 49
- B. 59
- C. 60

8.

18 liram var.



Ceren

16 liram var.



Cem

13 liram var.



Mert

Bu çocuklardan hangisi fiyatı on yedi lira olan topu alabilir?

A. Ceren B. Cem C. Mert

9.



Yukarıdaki kutular 24'ten geriye doğru üçer ritmik saymalar yazılarak tamamlanacaktır. Seçenekteki sayılardan hangisi bu kutulara yazılamaz?

A. 9 B. 15 C. 20


10.





Yukarıdaki sayılar belli bir kurala göre sıralandığında hangi sayı kullanılmaz?

A. 59 B. 49 C. 48

11. Aşağıdaki çocuklardan hangisi okulunun yakın çevresini tanıtmaktadır?

A.  Okulum, Toylar Caddesi'nin sağdan ikinci sokağındadır.

B.  Okulumun binasının yanına ek bina yapılacakmış.

C.  Okulumda ikinci sınıfta dokuz şube bulunmaktadır.

12.

Sınıf içi etkinliklerinde başarılı olan arkadaşımıza "....." demeliyiz.



Murat'ın cümlesi hangi seçenekteki ifade ile tamamlanmalıdır?

A. İyi akşamlar.
B. Teşekkür ederim.
C. Tebrik ederim.

13. Öğretmen, okul kaynaklarını ve eşyalarını kullanırken özen göstermek hakkında bilgi verdi.

Aşağıdakilerden hangisi öğretmenin anlattıklarıyla ilgili olamaz?

A. Sınıfta ve okulun koridorlarında koşmamalıyız.
B. Tuvaletlerde boş yere akan muslukları kapatmalıyız.
C. Okula ait ders araç ve gereçlerini tasarruflu kullanmalıyız.

14.

What's your name?



.....
is Şeyda.

Konuşmada boş bırakılan yere uygun ifade aşağıdakilerden hangisidir?

A. My
B. My name
C. I am

15. Sabah okula giderken karşılaştığımız arkadaşımıza aşağıdakilerden hangisini söyleriz?

A. Good night.
B. Good morning.
C. Good afternoon.