

GENEL DENEME – 1

1.

Aşağıdakilerden hangisi yukarıdaki sayılardan herhangi birinin okunuşu değildir?

- A) Yüz dört bin yedi
B) On bin dört yüz yedi
C) On dört bin yetmiş beş
D) Yüz kırk bin yetmiş beş
2. $(4 \times 10\,000) + (5 \times 10) + (1 \times 100\,000) + (4 \times 1) + (3 \times 1000)$

Çözülünerek verilen bu sayı ile ilgili aşağıdaki ifadelerden hangisi yanlıştır?

- A) Okunuşu “yüz kırk üç bin elli dört” şeklindedir.
B) On binler basamağında 1 rakamı yer alır.
C) Sayı değeri toplamı 17’dir.
D) 143 054 şeklinde yazılır.
3. Aşağıdaki sayılardan hangisi 122 000’den küçük, 119 000’den büyük en küçük sayıdır?

- A) 121 999 B) 120 990
C) 119 001 D) 199 002
4. 5 495 sayısının en yakın onluğu ile en yakın yüzlüğü hangi seçenekte sırasıyla verilmiştir?

- A) 5 490 - 5 400
B) 5 490 - 9 500
C) 5 500 - 5 600
D) 5 500 - 5 500

5. 1 437 sayısının en yakın onluğu 1 440’tır.



Yukarıdaki ifadeler doğru (D) ya da yanlış (Y) olarak değerlendirilip ilgili ok yönünde ilerlendiğinde hangi sembole ulaşılır?

- A) ★ B) ✿ C) ◆ D) ♥

6. Okunuşu “yedi yüz on beş bin yirmi yedi” olan sayının birler bölümünde hangi sayı yer alır?

- A) 127 B) 715
C) 27 D) 527

7. 201 704 sayısının birler bölümü ile binler bölümündeki sayıların yerleri değiştirildiğinde oluşan sayı hangi seçenekte verilmiştir?

- A) 401 702 B) 20 174
C) 207 014 D) 704 201

8. $74\,382 < A < B < 76\,743$

Verilen sıralamaya göre A ve B yerine yazılabilecek en büyük tek sayılar hangi seçenekte verilmiştir?

A	B
A) 76 739	76 741
B) 76 737	76 740
C) 76 740	76 741
D) 76 743	76 745

9.

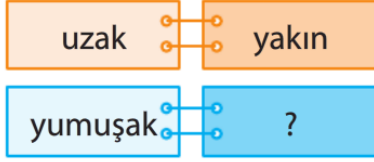
Bu örüntüde “?” ile belirtilen yere getirilmesi gereken sayı hangi seçenekte doğru verilmiştir?

- A) 256 B) 512
C) 128 D) 96

10. En yakın yüzlüğü 4 500 olan en büyük sayı ile ilgili aşağıdaki ifadelerden hangisi yanlıştır?

- A) Onlar ve binler basamağındaki rakamları aynıdır.
B) En yakın onluğu 4550’dir.
C) Yüzler basamağında 5 rakamı yer alır.
D) Sayı değerleri toplamı 14’tür.

1.
?



Yukarıda verilen anlam ilişkisine göre “?” ile belirtilen yere hangi sözcük gelmelidir?

- A) pamuk B) sert
C) sünger D) taze

2. “Bahçemiz daha yaştı.”
?

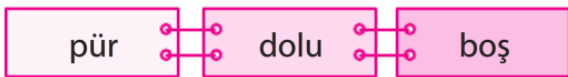
Bu cümlede altı çizilen sözcük aşağıdakilerin hangisinde farklı anlamda kullanılmıştır?

- A) Bu yıl yaş günümü köyde kutladım.
B) Çamaşırlar daha yaştı.
C) Yaş meyveleri güneşe serdiler.
D) Yaş ayakkabılarını güneşe bıraktı.

3. “Kendime siyah ve beyaz renkli formayı aldım.” cümlesinde altı çizili sözcükler arasında anlamca ne tür bir ilişki vardır?

- A) Eş anlamlı kelimeler
B) Zıt anlamlı kelimeler
C) Eş sesli kelimeler
D) Anlamdaş kelimeler


4.
?



Bu sözcüklerle ilgili aşağıdakilerden hangisi söylenemez?

- A) “pür” ile “dolü” eş anlamlı sözcüklerdir.
B) “dolü” ile “boş” zıt anlamlı sözcüklerdir.
C) “dolü” eş sesli bir sözcüktür.
D) “pür” ile “boş” zıt anlamlı sözcüklerdir.

5.
?



Yukarıdaki şemaya göre I ve II numaralı kutulara hangi sözcükler yazılmalıdır?

- I II
A) siyah beyaz
B) ak siyah
C) beyaz al
D) al ak

6. “Ben” sözcüğü aşağıdaki cümlelerin hangisinde diğerlerinden farklı anlamda kullanılmıştır?

- A) Ben içeri girdiğimde herkes şaşırdı.
B) Annem benden sonra geldi.
C) Beni çok özlediklerini anladım.
D) Aynı benden kardeşimin elinde de var.

7. Aşağıdaki cümlelerin hangisinde zıt anlamlı kelimeler bir arada kullanılmıştır?

- A) Buraya ilk ve son gelişim.
B) Öğretmen düzenli olarak kitap okumamı söyledi.
C) Yaş çamaşırları ipe astım.
D) Gelip gelmediğini bilmiyorum.

8. Aşağıdaki sözcük çiftlerinden hangileri arasındaki anlam ilişkisi diğerlerinden farklıdır?

- A) özlem – hasret
B) duygu – his
C) kuru – yaş
D) öğrenci – talebe

9. “Bağ” sözcüğü aşağıdaki cümlelerin hangisinde diğerlerinden farklı anlamda kullanılmıştır?

- A) Bağdaki asma yapraklarını topladık.
- B) Ayakkabının bağı çözülmüş.
- C) Bu bağdaki üzümler çok lezzetli.
- D) Annem ile üzüm bağında piknik yaptık.

10. “Ekmek” sözcüğü aşağıdaki cümlelerin hangisinde “toprağa ekmek” anlamında kullanılmıştır?

- A) Deniz kenarına okaliptüs ağacı ekmek için orayı kazdılar.
- B) Fırından sıcak ekmek kokusu geldi.
- C) Doktor her gün dört dilim ekmek yememi önerdi.
- D) Bayat ekmekleri köfte yapmak için ufaladı.

FEN BİLİMLERİ -- SOSYAL BİLGİLER

1. Kayaçlarla ilgili verilen ifadeler doğruysa ifadenin başındaki kutucuk işaretlenecektir.

<input type="checkbox"/>	Yer kabuğunu oluşturan büyük taş kütleleridir.
<input type="checkbox"/>	Kayaçların farklı etkenlerle ufalanması sonucu mineraller oluşur.
<input type="checkbox"/>	Magmanın yer yüzeyine çıkıp soğuyup katılaşmasıyla oluşur.
<input type="checkbox"/>	Çeşitli etkenler sonucu kırılıp parçalanırlar.

Buna göre işaretleme tamamlandığında kutucukların son görünümü nasıl olur?

- A)
- B)
- C)
- D)

2. Aşağıdakilerden hangisi Dünya'nın dolanma hareketine örnek gösterilebilir?

- A) Rüzgâr gülünün hareketi
- B) Sandalye kapmaca oyununda sandalye etrafında dönen çocukların hareketi
- C) Arkadaşının elindeki mendili kapan çocuğun hareketi
- D) Limana yaklaşan geminin hareketi

3.

cıva	•	•	Elektrik kablosu yapımında
bakır	•	•	Termometre yapımında
kurşun	•	•	Akü yapımında

Yukarıdaki madenlerin kullanım alanlarıyla eşleştirilişi hangi seçenekte doğru verilmiştir?

- A)
- B)
- C)
- D)

4. Fosillerle ilgili verilen aşağıdaki ifadelerden hangisi yanlıştır?

- A) Bitki ve hayvan kalıntılarının günümüze ulaşmış hâlidir.
- B) Milyonlarca yıl içerisinde oluşur.
- C) Ölen her canlı fosilleşemez.
- D) Oluşması için ölen canlının hava ile teması olmalıdır.

5. Aşağıda görseli verilen besinlerden hangisini sürekli tüketmek sağlıklı değildir?



1. ?



Ben Özge. İki kardeşimin adı Gözde. Kardeşimle birbirimize benzemeyiz. O sarı saçlı, ben kahverengi saçlıyım. O kitap okumayı sever, ben resim yapmayı severim.

Yukarıda verilen bilgiye göre Özge ve Gözde'nin farklı olmasının nedeni nedir?

- A) Eğitim farklılığı
- B) İlgisi farklılığı
- C) Yaşlarının farklılığı
- D) Bireysel farklılık

2. ?



Benim adım Fırat. 4. sınıfa gidiyorum. Boş zamanlarımda kitap okuyorum. Hafta sonları, üyesi olduğum takımında futbol kurslarına gidiyorum.

Verilen bilgilere göre Fırat, aşağıdaki kimlik belgelerinden hangisine sahip olamaz?

- A) T.C. Kimlik Kartı
- B) Sürücü Belgesi
- C) Sporcu Kimlik Kartı
- D) Kütüphane Kartı

3. Öğrenciler, yeteneklerine göre okullarda açılan kulüplere katılabilir.

Buna göre aşağıdaki eşleştirmelerden hangisi yanlıştır?

A) Bilgisayar programı yazmada yetenekli öğrenci	→	Yazılım kulübü
B) Şarkı söylemede yetenekli öğrenci	→	Koro kulübü
C) Tenis, futbol gibi dallarda yetenekli öğrenci	→	Spor kulübü
D) Resimde yetenekli öğrenci	→	Drama kulübü

4. Hayri, hayatındaki bazı olayları kronolojik olarak aşağıdaki şekilde sıralamıştır:

- I. 2008 yılında Eskişehir'de dünyaya geldim
- II. 2013 yılında ilk kez kendi kendime yeme yemeye başladım.
- III. 2014 yılında ilkokula başladım.
- IV. 2016 yılında satranç turnuvasında ödüm aldım.

Buna göre Hayri'nin hayatıyla ilgili verdiği bilgilerden hangisi yanlıştır?

- A) I B) II. C) III. D) IV.

5. Aşağıdakilerden hangisi evlilik kültürüne ait bir örnek oluşturur?

