

METİN BİLGİSİ

DİNOZORLAR VAR MI?


Dinozorlar birçok insan için merak konusudur. Gerçekten yeryüzünde yaşamışlar mıydı? Eğer yaşadılarsa şekilleri nasıldı? Uçabilen türleri var mıydı? Peki ya yüzebilen türleri olabilir miydi? Bunlar gibi çok çeşitli sorular sıralanabilir. Ancak az önce saydıklarımın hepsine cevabım evet olacak.

Bundan milyonlarca yıl önce yaşamış bir canlıyı merak edebilmek çok sıra dışı! Şimdi biraz dinozor avına çıkalım öyleyse. Peki, biz bu canlıların kanıtlarına nasıl ulaşabiliriz? Öyle kazma kürekle olacak bir iş gibi durmuyor. O zaman paleontologların yani fosil bilimcilerin çalışmalarını takip etmek bize ışık tutacaktır.

Zamanımızdan epey yıllar önce, Dünya'da sayısız türde dinozor yaşamış. Bu canlıların arasında yukarıda sorduğumuz gibi uçanı da var, yüzeni de. Beslenmeleri ise sadece ot veya yalnızca et şeklinde olduğu gibi her ikisiyle de beslenen dinozor türlerinin olduğu bilimsel olarak kanıtlandı. Paleontologlar bu bilgilere kayaçlar üzerinde yaptıkları fosil aramaları sonucunda ulaşıyor. Buralardan erişilen dinozor kalıntıları üzerinde çalışmalar yaptıklarında, onların hangi türe ait olduğundan tutun da ne zaman yaşadıklarına kadar kapsamlı bilgiler elde ediyorlar. Saptadıkları en bilindik dinozor ise "Traton"lardır. Ancak bu dinozorların Dünya'ya çarpan bir meteorla yok olduğunu da yine bize aynı araştırmacılar söylüyor.

Yukarıdaki parçaya göre aşağıdaki soruları cevaplayınız.

- 1) Dinozorlar ne zaman yaşamıştır?
- 2) Dinozorlar ne ile beslenmektedir?
- 3) Dinozorların en bilindik türü hangisidir?



SESLİ (ÜNLÜ) VE SESSİZ (ÜNSÜZ) HARFLER

Aşağıdaki tabloyu örnekte verilenler gibi doldurunuz.

Sözcükler	İnce Ünlüler	Kalın Ünlüler	Ünsüz Harfler
Keçiboynuzu	e-i	o-u	k-ç-b-y-n-z
Bilgisayar			
Hacivat			
İlkbahar			
Kırtasiye			

DOĞAL SAYILAR

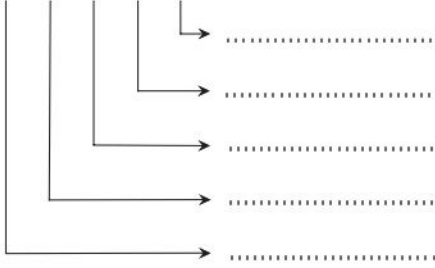
Aşağıdaki tabloda verilen sayıların bölüklerini yazınız.

Sayı	Binler Bölüğü	Birler Bölüğü
184 345		
14 248		
203 004		
8 467		

Aşağıda verilen doğal sayılardaki rakamların basamak değerlerini yazınız.

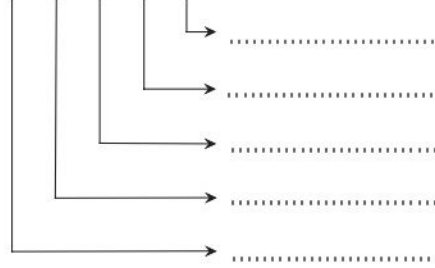
5 6 2 6 0

Basamak değeri



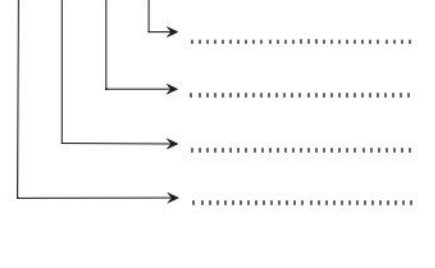
7 0 9 2 3

Basamak değeri



4 0 2 8

Basamak değeri

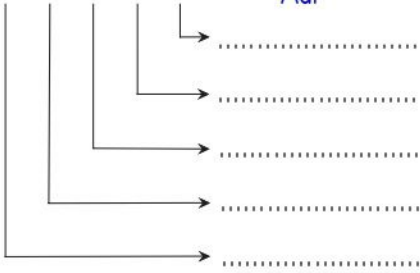


DOĞAL SAYILAR

Aşağıda verilen doğal sayılardaki rakamların basamak adlarını yazınız.

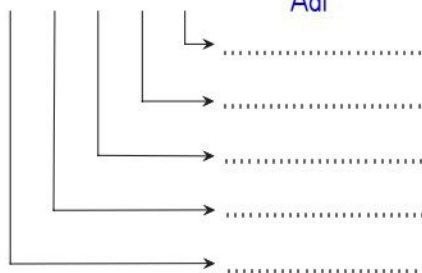
2 3 7 5 9

Basamak Adı



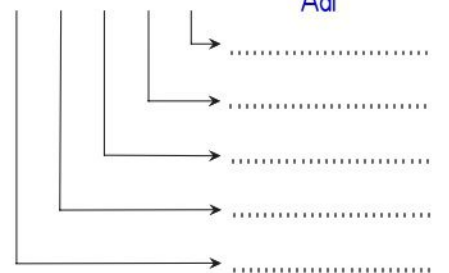
7 3 8 5 0

Basamak Adı



4 0 1 5 7

Basamak Adı



Aşağıda verilen tablodaki boşlukları uygun ifadeyle doldurunuz.

Bölük Adı	Binler Bölüğü					
Basamak Adı	Yüzbinler Basamağı	Binler Basamağı	Yüzler Basamağı	Birler basamağı
Sayı Değeri	5	6
Basamak Değeri	100000	2000	100	4
Okunuşu					

Aşağıdaki doğru-yanlış tablosunu uygun şekilde işaretleyiniz.

	D	Y
1) Savunma sanayisinde ve jet yakıtlarında bor madeni kullanılır.		
2) Madenler ekonomik önemi olmayan mineral kalıntılarıdır.		
3) Bundan milyonlarca yıl önce yaşamış canlı kalıntlarına fosil denir.		
4) Fosiller sadece kayalarda bulunur.		
5) Taş kömürü madeni en çok İzmir ilinde bulunur.		
6) Fosil bilimcisine paleontoloji denir.		
7) Fosiller bulunduğu bölge hakkında bizlere bilgi verir.		

MADENLER VE FOSİLLER

Aşağıda verilen fosillerin hangi canlıya ait olduğunu görselin altına yazınız.













SOSYAL BİLGİLER

HAYATIMIZDAKİ OLAYLARIN KRONOLOJİK SIRASI

1) Aşağıdaki fotoğrafları kronolojik sıraya göre numaralandırınız.



HAYATIMIZDAKİ OLAYLARIN KRONOLOJİK SIRASI

Aşağıdaki karışık şekilde verilen olayları kronolojik sıraya göre eşleştiriniz.

1

Atatürk 1881 yılında Selanik'te dünyaya geldi.

2

Atatürk 1919 yılında Samsun'a çıktı.

3

Atatürk 1938 yılında İstanbul'da vefat etti.

4

Atatürk 1915 yılında Anafartalar Grup Kumandanlığı'na getirildi.

5

Atatürk 1920 yılında TBMM 'yi açtı.

6

Atatürk 30 Ağustos 1922 yılında Dumlupınar savaşını kazandı.

7

Atatürk 1923 yılında cumhuriyeti ilan etti.