

3.

SINIF

4. HAFTA
KAZANIM DEĞERLENDİRME

1. **uzak** **ufak** **uçak**
Verilen sözcüklerin sözlük sırasına göre dizilmesi için hangileri yer değiştirmelidir?
A) uzak - uçak
B) ufak - uçak
C) uzak - ufak

2. **masa - saat - ? - kına**

Kutudaki sözcükler kendinden önceki ve sonraki sözcüklerle belli bir ilişki içinde sıralanmıştır. Buna göre "?" yerine hangi sözcük gelebilir?

- A) salı
B) atkı
C) ateş



3. Aşağıdaki cümlelerin hangisinde "nazik" kelimesinin zıt anlamlısı kullanılmıştır?
A) Betül kibarca arkadaşına seslendi.
B) Derya özenle eşyalarını hazırladı.
C) Selim'in bize karşı kaba davranışları vardı.

4. **güç** **güz** **gol**
Utku Ece Mert
Hangi çocuğun taşıdığı sözcüğün eş anlamlısı yoktur?
A) Mert B) Ece C) Utku

5. Aşağıdaki cümlelerden hangisinin sonunda yanlış bir noktalama işareti kullanılmıştır?
A) Hangi seçeneği işaretledin?
B) Saatin kaç olduğunu sordun mu?
C) Bizimle gelip gelmeyeceğini bilmiyorum?



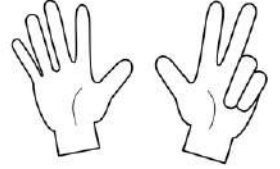
6. Aşağıda verilen sayılardan hangisinin en yakın olduğu yüzlük farklıdır?

- A) 654
B) 551
C) 645

7. **13 - 21 - 29 - 36 - 45**


Yukarıda ileriye doğru sekizer ritmik sayma yapılmıştır. Kuralı bozan sayı hangisidir?

- A) 21
B) 29
C) 36



8. 18'den başlayarak ileriye doğru dokuzar ritmik sayarken 5. sırada söylediğimiz sayı kaçtır?

- A) 45
B) 54
C) 63



9. Aşağıda verilen sayı gruplarından hangisinin tümü çift doğal sayıdır?

- A) 248, 352, 614, 112
B) 384, 998, 613, 500
C) 770, 772, 774, 777

10. İleriye doğru altışar ritmik sayan Müge, 48'den önce hangi sayıyı söyler?


- A) 36
B) 42
C) 54



3/A Sınıfı

11. Bir yerin kuşbakışı görünümünün kâğıt üzerine kabataslak çizimine ne denir?

- A) dünya
- B) harita
- C) kroki



12. Aşağıda verilen ifadelerden hangisi yanlıştır?

- A) Arkadaşlar birbirine yardım eder.
- B) Arkadaş seçiminde dış görünüş önemlidir.
- C) Arkadaşlar birbirlerine hoşgörülü davranır.

13. Kroki hakkında verilen bilgilerden hangisi yanlıştır?

- A) Kroki çizerken şekillerden yararlanabiliriz.
- B) Kroki ölçülü bir çizimdir.
- C) Kroki çizerken cetvel, iletki vb. kullanılabilir.

14. "Okulumuz bize öğretir." cümlesinde boş bırakılan yere hangisi getirilemez?

- A) birlik içinde hareket etmeyi
- B) planlı ve sabırlı olmayı
- C) istediğimiz gibi davranmayı



15. Didem: Okullarda yiyecek ve içecek maddelerinin satıldığı yerdir.



Didem okulun hangi bölümünden bahsetmektedir?

- A) kütüphane
- B) kantin
- C) koridor

16. Çevreyi algılamamızı sağlayan organlara ne ad verilir?

- A) İç organlar
- B) Dış organlar
- C) Duyu organları

17. "Kulağımız organımızdır." cümlesinde boş bırakılan yere aşağıdakilerden hangisi getirilmelidir?

- A) tat alma
- B) dokunma
- C) işitme



18. Güneşe bakmaya çalışmak hangi duyu organımıza zarar verebilir?

- A) göz
- B) kulak
- C) burun



19. Aliye: Bir yandan müzik dinliyor, bir yandan eşsiz manzarayı izliyorum.

Aliye'nin ifadesinden hangi duyu organlarını kullandığını anlarız?

- A) kulak - burun
- B) kulak - göz
- C) göz - deri



20. Yandaki görselde aşçı hangi duyu organını kullanmaktadır?

- A) göz
- B) deri
- C) burun



CEVAPLAR

- 1 A B C
- 2 A B C
- 3 A B C
- 4 A B C
- 5 A B C
- 6 A B C
- 7 A B C
- 8 A B C
- 9 A B C
- 10 A B C

- 11 A B C
- 12 A B C
- 13 A B C
- 14 A B C
- 15 A B C
- 16 A B C
- 17 A B C
- 18 A B C
- 19 A B C
- 20 A B C