

 Aşağıda verilen **onluk bozma gerektirmeyen** çıkarma işlemlerini örnekteki gibi yapalım.

$$\begin{array}{r} 657 \\ - 13 \\ \hline 644 \end{array}$$


$$\begin{array}{r} 545 \\ - 24 \\ \hline \end{array}$$

$$\begin{array}{r} 195 \\ - 34 \\ \hline \end{array}$$

$$\begin{array}{r} 696 \\ - 70 \\ \hline \end{array}$$

$$\begin{array}{r} 957 \\ - 32 \\ \hline \end{array}$$

$$\begin{array}{r} 987 \\ - 76 \\ \hline \end{array}$$

 Aşağıda verilen **onluk bozma gerektiren** çıkarma işlemlerini örnekteki gibi yapalım.

$$\begin{array}{r} 611 \\ 971 \\ - 19 \\ \hline 952 \end{array}$$

$$\begin{array}{r} 487 \\ - 58 \\ \hline \end{array}$$

$$\begin{array}{r} 744 \\ - 28 \\ \hline \end{array}$$

$$\begin{array}{r} 100 \\ - 73 \\ \hline \end{array}$$

$$\begin{array}{r} 944 \\ - 36 \\ \hline \end{array}$$

$$\begin{array}{r} 461 \\ - 19 \\ \hline \end{array}$$

$$\begin{array}{r} 942 \\ - 383 \\ \hline \end{array}$$

$$\begin{array}{r} 387 \\ - 128 \\ \hline \end{array}$$

$$\begin{array}{r} 490 \\ - 263 \\ \hline \end{array}$$

$$\begin{array}{r} 866 \\ - 608 \\ \hline \end{array}$$

$$\begin{array}{r} 485 \\ - 229 \\ \hline \end{array}$$

$$\begin{array}{r} 458 \\ - 163 \\ \hline \end{array}$$

 Aşağıda verilen çıkarma işlemlerini yapalım.

$$\begin{array}{r} 960 \\ - 292 \\ \hline \end{array}$$

$$\begin{array}{r} 802 \\ - 454 \\ \hline \end{array}$$

$$\begin{array}{r} 691 \\ - 210 \\ \hline \end{array}$$

$$\begin{array}{r} 655 \\ - 467 \\ \hline \end{array}$$

$$\begin{array}{r} 714 \\ - 178 \\ \hline \end{array}$$

$$\begin{array}{r} 562 \\ - 384 \\ \hline \end{array}$$

$$\begin{array}{r} 874 \\ - 289 \\ \hline \end{array}$$

$$\begin{array}{r} 594 \\ - 365 \\ \hline \end{array}$$

1 Aşağıdaki tablolarda verilen kelimelerin karşılıklarını eş anlamlılarını yazalım.

KELİME	EŞ ANLAMI
nehir	
rüzgar	
ulus	
ihtiyar	
yıl	
kafa	

KELİME	EŞ ANLAMI
hediye	
kelime	
sonbahar	
kalp	
ayakkabı	
aş	

EŞ-ZİT ANLAMLILAR

1 Aşağıdaki tabloda verilen kelimelerin zıt ve eş anlamlarını yazalım.

KELİME	EŞ ANLAM	ZİT ANLAM
savaş	harp	barış
ıslak		
basit		
ihtiyar		
fakir		

KELİME	EŞ ANLAM	ZİT ANLAM
siyah		
kirli		
uzak		
soru		
eksik		

Aşağıdaki tabelalarda yazan kelimelerin eş anlamlarını altlarına yazalım.



ZİHİNDEN ÇIKARMA

Aşağıda verilen çıkarma işlemlerinin sonucunu **zihinden** bulunuz.

$80 - 10 = \dots\dots$

$68 - 10 = \dots\dots$

$39 - 10 = \dots\dots$

$400 - 200 = \dots\dots$

$940 - 40 = \dots\dots$

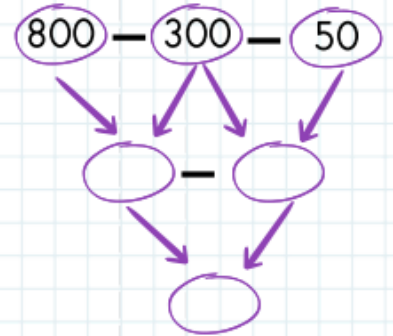
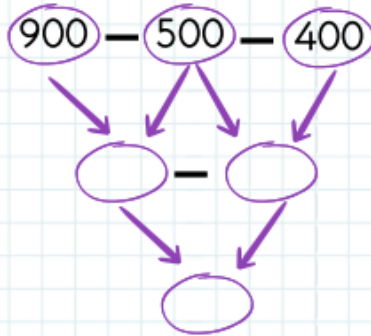
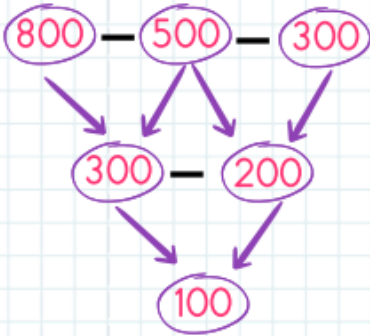
$630 - 30 = \dots\dots$

$80 - 20 = \dots\dots$

$55 - 30 = \dots\dots$

$340 - 30 = \dots\dots$

Aşağıdaki çıkarma işlemlerini örnekteki gibi yapalım.



1

$$\begin{array}{r} 950 \\ - 300 \\ \hline \end{array}$$

2

$$\begin{array}{r} 457 \\ - 200 \\ \hline \end{array}$$

3

$$\begin{array}{r} 590 \\ - 60 \\ \hline \end{array}$$

4

$$\begin{array}{r} 621 \\ - 400 \\ \hline \end{array}$$

5

$$\begin{array}{r} 875 \\ - 70 \\ \hline \end{array}$$

6

$$\begin{array}{r} 436 \\ - 90 \\ \hline \end{array}$$

7

$$\begin{array}{r} 887 \\ - 600 \\ \hline \end{array}$$

8

$$\begin{array}{r} 975 \\ - 500 \\ \hline \end{array}$$

Aşağıdaki görsellerin altına hangi hareketi yaptıklarını yazalım.



Aşağıdaki cümlelerden doğru olanın başına (D), yanlış olanın başına (Y) koyalım.

Çarpışan araba kullanırken sürekli yön değiştirme hareketi yaparız.




Küçük bir bebek dışarıdan bir etki olmazsa hareket edemez.

İnişe geçen uçak yavaşlama hareketi yapar.


Pencereden düşen saksı yavaşlama hareketi yapar.


Uzaya gönderilen roket hızlanma hareketi yapar.

Cansız varlıklara halı, klima ve çiçek örneğini verebiliriz.

 Aşağıdaki cümlelerden doğru olanların başına  yanlış olanların başına  koyalım.

1. Meslek seçerken öğretmenimizin istediği mesleği seçmeliyiz.
2. Seçeceğimiz mesleği yapabilecek kabiliyetimizin olması gerekir.
3. Sevdiğimiz mesleği yapmak bizi mutlu eder.
4. Her meslek değerlidir.
5. Sadece çok para kazandıran meslekler seçilmelidir.
6. Herkes doktor olmak için çabalamalıdır.

 Aşağıdaki kelimelerden eş sesli olanların balonunu boyayalım.



KUVVETİN ETKİLERİ

 Aşağıda verilen cümleler doğru ise (D) yanlış ise (Y) yazalım.

- (D) Bir şişeye yeteri kadar kuvvet uygularsak şeklini değiştirebiliriz.
- Hareketli bir nesneye aynı yönde kuvvet uygularsak nesne hızlanır.
- Akıntıya karşı yüzen bir yüzücünün hızını akıntı yavaşlatır.

MUSTAFA KEMAL ATATÜRK (1881-1938)

Ülkemizin kurucusu Mustafa Kemal Atatürk 10 Kasım 1938 sabahı saat 09.05'te İstanbul Dolmabahçe Sarayı'nda hayata gözlerini yumdu. Cenazesi, gerçekleştirilen törenle Ankara'ya uğurlandı ve naaşı, 21 Kasım 1938'de burada yapılan bir törenle Ankara Etnografya Müzesi'ndeki geçici kabrine konuldu. Bundan 15 yıl sonra da 10 Kasım 1953'te kendisi için yaptırılan Anıtkabir'deki ebedi istirahatgâhında toprağa verildi.

Ulu önder Gazi Mustafa Kemal Atatürk'ün ölüm yıldönümü tüm yurttaki saygı ile anılır. 10 Kasım günü saat 9'u beş geçte sirenler çalınır. Vatandaşlar yollarda, iş yerlerinde, okullarda, karada, havada, denizde kısacası her yerde saygı duruşuna katılırlar. Ardından Türkiye Büyük Millet Meclisi binası önündeki bayraklar hariç (Türk Bayrağı Kanunu uyarınca TBMM binasının önündeki Türk bayrağı milli egemenliği temsil ettiği için hiçbir zaman yarıya indirilmez), Türkiye'deki tüm resmi binalarda ve ülkenin dış temsilciliklerinde bayraklar, yas işareti olarak yarıya indirilir. Anıtkabir'de bulunan bayraklar diğer günlerde hiçbir sebeple yarıya indirilmez.

 Metne göre aşağıdaki soruları cevaplayalım.

1 Mustafa Kemal Atatürk'ün geçici kabri nerededir?

2 Neredeki bayraklar hiçbir zaman yarıya indirilmez?

3 Atatürk nerede vefat etmiştir?

4 Atatürk'ün naaşı hangi tarihte Anıtkabir'e taşınmıştır?