




Adı Soyadı : .....

Ödev Kontrol : .....



Veli Kontrol:



## ÇANTAM NEDEN AĞIR?

Berk, her gün sırt ağrısından yakınıyordu. Annesi ve babası Berk'i okul çıkışı doktora götürdüler. Doktor amcanın gözü Berk'in çantasına takıldı. "Okul çantan çok güzel. Ama ağır görünüyor. Söyle bakalım, neler var içinde?" dedi. Kalem kutusu, defteri, boya, kalemtraş, oyuncacı, kumbarası, önceden koyup da yeme-yi unuttuğu meyveler... O da ne? Ne zamandır aradıkları televizyon kumandası bile çantasındaydı.

Doktor amca bir şey demeden Berk mahçup şekilde mırıldandı.

– Sanırım okulda ihtiyacım olmayacak birçok şeyi çantama koymuşum. Çantamın neden bu kadar ağır olduğunu anladım.

Aşağıdaki ifadelerin doğru mu, yanlış mı olduğunu metne uygun şekilde belirleyelim. Boyayalım.

?



Berk, her gün bel ağrısından yakınıyormuş.

D  
Y



Doktor amca, Berk'in okul çantasının ağır olduğunu düşünmüş.

D

Y



Okul çantası gereksiz yere ağır olduğundan Berk'in beli ağrıyormuş.

D

Y



Berk, çantasını gereksiz şeylerle doldurduğu için mahçup olmuş.


D

Y

### ZIT ANLAMLI KELİMELER

Aşağıda zıt anlamlılık ilişkisine göre verilen görsellerin altına rına örnekteki gibi kelimeyi ve zıt anlamlısını yazınız.

Örnek:



Genç

Yaşlı


a.



.....

.....

b.



.....

.....

c.



.....

.....

Aşağıda modellenen paraların toplamını bulun.



TL



TL



TL



TL



\_\_\_ TL



\_\_\_ TL

Kaç Lira?

Çözüm

1 Cebimdeki paranın 12 lirasını harcıyınca geriye 8 liram kaldı.  
Harcamadan önce kaç liram vardı?

2 Kırtasiyeden 8 TL'ye kitap, 5 TL'ye silgi, 2 TL'ye ataş aldım.  
Satıcıya kaç lira ödemem gerekir?




Düşün anla ve çöz 😊

4 Fiyatı 15 TL olan kitaplar 5 TL indirimle satılıyor. Bu kitaplardan 2 tane aldım. Satıcıya kaç lira ödedim?

5 Kumbaramdan dün 5 TL, bugün 4 TL aldım. Kumbaramda 9 TL kaldı. Para almadan önce kumbaramda kaç lira vardı?

1 Bir saksıda 8 çiçek vardı. Çiçeklerin 2 tanesi soldu. Solmayan kaç çiçek kaldı?

$$\bigcirc - \bigcirc = \bigcirc$$



2 10 tane kalemim vardı. 2 tanesini kardeşime verdim. Kaç kalemim kaldı?

$$\bigcirc - \bigcirc = \bigcirc$$



3 Bir kutuda 7 yumurta vardı. Yumurtaların 2 tanesi kırıldı. Kutuda kaç sağlam yumurta kaldı?

$$\bigcirc - \bigcirc = \bigcirc$$

