



Kendimi Değerlendiriyorum 4

BİR KIŞ MASALI

Bütün çocuklar onu, Başında yünlü bere,
Pek yakından tanımış. Elinde bir şemsiye...
Kardan adam kendini, Atkı sarmış boynuna,
Gerçek insan sanmış. Belki üşürüm diye.

Sonra beyaz koluna,
Güzel bir sepet takmış,
Kar topu sevincini,
Çocuklara bırakmış.

(Bilge Çocuk dergisi-Bestami YAZGAN)

(İlk üç soruyu metinde verilen bilgilere göre cevaplayalım.)

1. Kardan adam kendisini ne sanmış?

- A) Çiçek B) İnsan C) Kuş

2. Aşağıdakilerden hangisi kardan adamın eşyalarından biri **değildir**?

- A) Atkı B) Eldiven C) Bere

3. Kardan adamın kolunda ne takılıymış?

- A) Çanta B) Süpürge C) Sepet

4. Aşağıdaki seçeneklerden hangisi yakan top oyununun kurallarını anlatan bir yönerge **değildir**?

- A) Oyuncular iki eşit gruba ayrılır.
B) Oyuncular çember şeklinde dizilirler.
C) Rakip takım oyuncuları topla vurulmaya çalışılır.

5. Minik bebek beşiğinde mışıl mışıl uyuyordu.

Yukarıdaki cümlede altı çizili sözcüğü bulmak için sorulması gereken soru hangisidir?

- A) Nasıl? B) Niçin? C) Nerede?

6.

?

"Bugün arabayı yıkamam lazım."

Aşağıdakilerden hangisi belirtilen durumdan daha önce meydana gelmiştir?

- A) Önce bir kovaya su doldurdum.
B) En sonunda temiz bir bezle kuruladım.
C) Yağmur yağınca arabam kirlendi.

7.

?

"Atık piller ve plastik maddeler toprağa zarar verir."

Konusu verilen metnin başlığı aşağıdakilerden hangisi **olamaz**?

- A) Ağaçların Faydaları
B) Geri Dönüşüm
C) Çevre Kirliliği

8.

?

Efe mavi renkli, kuyruğu çok uzun bir uçurtma yaptı.

Yukarıdaki cümlede hangi sorunun cevabı **yoktur**?

- A) Ne? B) Kim? C) Nerede?

(9 ve 10. soruları aşağıdaki şiirde verilen bilgilere göre cevaplayalım.)

ORMAN

Kuşlar, çiçekler ormanda, Küçük sincap yuva yapar.
Ağaçların arasında. Güneş gülümseyerek parlar.
Hepsi çok mutlu orada, Yemyeşil ormanlar,
Yaşasın temiz hava. Yaşasın temiz hava.

9. Şiirle ilgili verilen bilgilerden hangisi **yanlıştır**?

- A) İki kıtadan oluşmuştur.
B) Bir paragraftan oluşmuştur.
C) Sekiz dizeden oluşmuştur.

10. Şiirin ikinci kıtasında aşağıdaki görsellerden hangisinin adı geçmektedir?

?

A)



B)



C)



Aşağıdaki cümlelerde yanlış yazılan sözcükleri örnekteki gibi bulup doğrusunu noktalı yerlere yazalım.

bu olayın ahmet ile bir ilgisi yok.

Bu - Ahmet

halam istanbula taşınmaya karar verdi.

neden gelmedin? geleceğini söylemiştin.

Anıl, layika akbilek ilkokuluna kayıt yaptırdı.

Mesut kedisi tarçını çok seviyor.

Akın apartmanında oturuyoruz.

Törende "kahramanlarımız" isimli şiiri okuyacağım.

Millî eğitim bakanlığı bu konuda bir açıklama yaptı.

Cümleleri sıra bildiren ifadelerden yararlanarak örnekteki gibi sıralayalım.

- Dişlerimi güzelce fırçladım. **Önce** banyoya gittim.
- Banyoya gittim. **? Sonra**
- Fırçaya macunu sürdüm. **? Daha sonra**
- Macunu suyla ıslattım. **? En sonunda**

- Rüzgâr çok şiddetli esiyordu.
- Uykusuzluktan yüzü bembeyaz olmuştu.
- Ormandaki hayvanlar bir toplantı yapmaya karar verdiler.
- Kartal, gökyüzünde süzülerek uçuyordu.

Yukarıdaki cümlelerden kaç tanesinde hayal unsuru olaylardan bahsedilmiştir?

A) 1

B) 2

C) 3

Aşağıdaki cümlelerde boş bırakılan yerlere yazılması gereken uygun sözcüğü işaretleyelim.

Uğur böceğinin ayak seslerini

duyabiliriz duyamayız



Miyavlayan bir kedinin sesini

duyabiliriz duyamayız



Telefonu kulağımıza yaklaştırdığımızda konuşan kişinin sesi

artar azalır



Ambulans bizden uzaklaştıkça siren sesi

artar azalır



Konser alanına yaklaştıkça müziğin sesi

artar azalır



Megafonla konuşan kişinin sesinin şiddeti

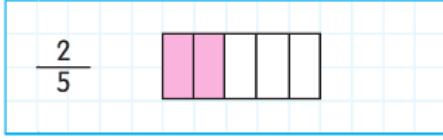
yüksektir alçaktır



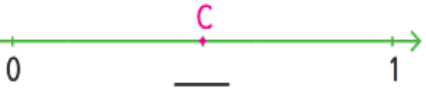
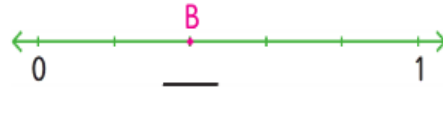
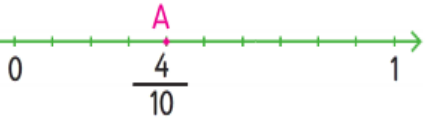
? Aşağıdaki varlıklardan ışık kaynağı olanları "✓" ile işaretleyelim.

- | | | |
|--|------------------------------------|--|
| <input type="checkbox"/> Gezegenler | <input type="checkbox"/> Ayna | <input type="checkbox"/> Trafik ışıkları |
| <input type="checkbox"/> Fosforlu cisimler | <input type="checkbox"/> El feneri | <input type="checkbox"/> Elmas |
| <input type="checkbox"/> Gökkuşuğu | <input type="checkbox"/> Meşale | <input type="checkbox"/> Metal kaşık |

Aşağıdaki kesirleri örnekteki gibi modelle gösteriniz.



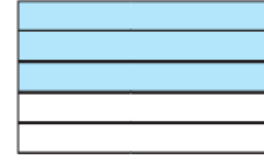
Aşağıdaki sayı doğrusunda gösterilen harflere karşılık gelen kesirleri örnekteki gibi yazınız.



Aşağıdaki kesirleri sayı doğruları üzerinde örnekteki gibi gösteriniz.



Aşağıdaki kesir sayılarını örnekteki gibi modeller üzerinde gösterip okunuşlarını yazınız.



$$\frac{3}{5}$$

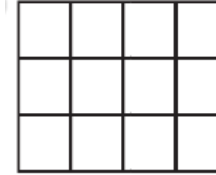
Beşte üç




$$\frac{2}{4}$$



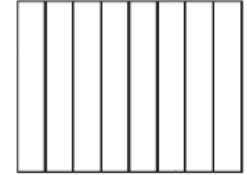
$$\frac{4}{6}$$



$$\frac{5}{12}$$



$$\frac{7}{16}$$



$$\frac{6}{8}$$

Aşağıdaki problemleri problem çözme aşamalarına göre çözünüz.



Yukarıdaki bilyelerin $\frac{1}{8}$ 'i kaç bilyedir?

.....

.....

.....

2. Meriç 96 yapraklı matematik defterinin $\frac{1}{4}$ 'ini kullanmıştır.

Meriç matematik defterinin kaç yaprağını kullanmıştır?

.....

.....

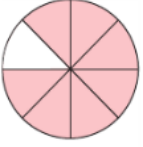
.....

PUANLI TEST - 14

1. $\frac{3}{7}$ kesrinin doğru okunuşu aşağıdakilerden hangisidir?

- A) Yedide üç B) Üçte yedi C) Yedide bir

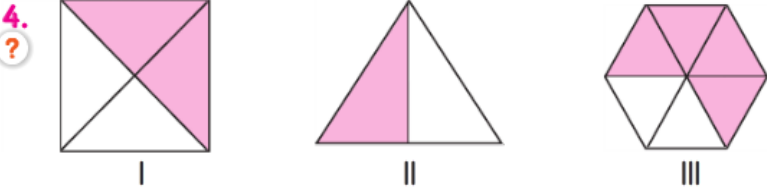
2. Yandaki şekli ifade eden kesir aşağıdakilerden hangisidir?



- A) $\frac{1}{7}$ B) $\frac{7}{8}$ C) $\frac{6}{8}$

3. "On birde iki" kesrinin kesir çizgisi kullanılarak yazılışı aşağıdakilerden hangisidir?

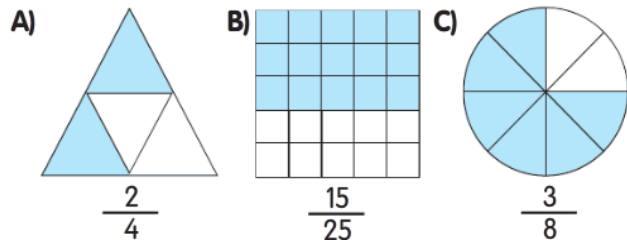
- A) $\frac{11}{12}$ B) $\frac{11}{12}$ C) $\frac{2}{11}$



Yukarıdaki şekillerden hangilerinin yarısı boyalıdır?

- A) I ve II B) I ve III C) II ve III

5. Aşağıdaki şekillerden hangisinin gösterimi yanlıştır?



6. Halam 48 yaşındadır. Benim yaşım halamın yaşının $\frac{1}{8}$ 'i kadardır.

Buna göre benim yaşım kaçtır?

- A) 8 B) 7 C) 6

7. ?

Yukarıdaki sayı doğrusunda "A" ile gösterilen yere gelmesi gereken kesir sayısı hangisidir?

- A) $\frac{6}{10}$ B) $\frac{3}{10}$ C) $\frac{2}{10}$

8. Bir çiftlikteki 42 hayvanın $\frac{1}{3}$ 'ü inek, geri kalanı koyundur.

Koyunların sayısı ineklerden kaç fazladır?

- A) 14 B) 24 C) 28

9. $\frac{3}{5}$ kesrinin birim kesri aşağıdakilerden hangisidir?

- A) $\frac{1}{2}$ B) $\frac{1}{3}$ C) $\frac{1}{5}$

10. Bir günün $\frac{1}{4}$ 'ünün yarısı kaç saattir?

- A) 3 B) 6 C) 8




GENEL DEĞERLENDİRME 1




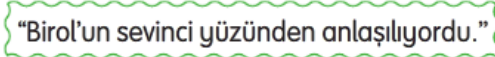
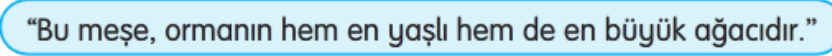
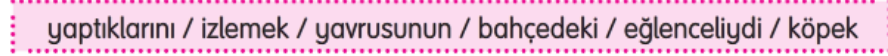
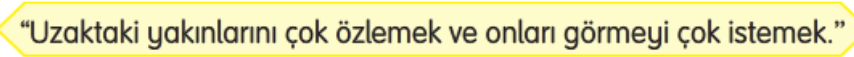
HABERLEŞME ARAÇLARI

Uzaktaki tanıdıklarımızla görüşmek ve haberleşmek için telefon, elektronik posta gibi araçlardan yararlanırız. Çevremizde olan bitenleri de gazetelerden ya da radyo, televizyon gibi araçlar aracılığıyla öğrenebiliriz. Mektupla da haberleşebiliriz. Postacılar, mektupları gönderildikleri adreslere teslim ederler. Peki, ıslıkla haberleşmeye ne dersin? Giresun'daki bir dağ köyünde evler tepelerin üzerine kurulmuş. Köydekiler bazen birbirleriyle ıslık çalarak haberleşiyorlar. ıslıkla hemen her şeyi söyleyebiliyorlar. Eski zamanlarda insanlar haberleşmek için başka yollar da kullanırlardı. Örneğin yüksek yerlerdeki özel kulelerde ateş yakılırdı. Yaklaşan tehlikeler, ateşle ya da dumanla çevredekilere haber verilir. Bazı yerlerde davul çalarak da haberleşilirdi. Davul sesi çok uzaklardan bile duyulur ve anlaşılabilir.

(Meraklı Minik dergisi - Bilge Nur KARAGÖZ)

(İlk üç soruyu yukarıdaki metne göre cevaplayalım.)

1. Giresun'un dağ köyünde insanlar haberleşmek için hangi aracı kullanıyorlar?
A) Telefon B) ıslık C) Ateş
2. Aşağıdakilerden hangisi insanların eskiden kullandıkları haberleşme araçlarından **değildir**?
A) Ateş B) Davul C) İnternet
3. Metinde aşağıdaki haberleşme araçlarının hangisinden **bahsedilmemektedir**?
A) Mektup B) Gazete C) Güvercin
4.  Yanda verilen görselin adı ile ilgili olarak aşağıda verilen bilgilerden hangisi **yanlıştır**?
A) İçinde alfabemizin ilk ve son harfi vardır.
B) İki tane ünlü harf vardır.
C) Üç harflidir.

5. Aşağıda verilen sözcüklerden hangisi sözlükte "okul" sözcüğünden **sonra** yer alır?
A) Oda B) Marti C) Para
6. Hangi öğrencinin söylediği sözcükteki hece sayısı diğerlerinden azdır?
A)  aile B)  kardeş C)  arkadaş
7.  Aşağıdaki cümlelerin hangisinde "yüz" sözcüğü verilen cümledeki ile aynı anlamdadır?
A) Bayramda yüz lira harçlık topladım.
B) Utanınca yüzü kızardı.
C) Batuhan çok hızlı yüzüyor.
8.  Bu cümlelerde aşağıdaki sözcüklerden hangisinin zıt anlamı **yoktur**?
A) Uzak B) Genç C) Küçük
9.  Yukarıdaki sözcüklerle anlamlı ve kurallı bir cümle oluşturulduğunda **baştan dördüncü** sözcük hangisi olur?
A) yavrusunu B) izlemek C) yaptıklarını
10.  Anlamı verilen deyim aşağıdakilerden hangisidir?
A) Gözünde tütme
B) Gözleri buğulanmak
C) Göz gözü görmemek

(11 ve 12. soruları aşağıdaki metne göre cevaplayalım.)

Anneannemin salonunda çok sayıda çiçeği vardır. Hepsini sever ve her suladığında onlarla mutlaka konuşur. Çiçek açtıklarında çok mutlu olur. Çiçeklerinin her birinin ayrı ayrı isimleri vardır. Öyle yaptığından mıdır bilmem salonu rengârenk çiçeklerle şenlendir. Herhâlde çiçekler de anneannemin sevgisine böyle cevap veriyor.

11. Metnin konusu aşağıdakilerden hangisidir?

- ? A) Anneanneninin çiçekleri sevgiyle büyütmesi
B) Anneanneninin çok fazla çiçeğinin olması
C) Çocuğun çiçeklere olan ilgisi

12. Metnin ana fikri aşağıdakilerden hangisidir?

- ? A) Çiçek bakmak zor bir uğraştır.
B) Her evde mutlaka çiçek olmalıdır.
C) Her canlı sevgi ve ilgi ister.

13. Takım maç için Antalya'ya gidiyor.

? Cümlesinde aşağıdaki soruların hangisinin cevabı vardır?

- A) Niçin? B) Ne zaman? C) Nasıl?

14. 1.

- ? 2. Çok geçmeden gök gürlemeye başladı.
3. Yağmur taneleri birer birer düşüyordu.
4. Odamın penceresinden yağmuru izledim.

Yukarıdaki olaylar oluş sırasına göre dizilmiştir.

Buna göre boş bırakılan alana aşağıdaki cümlelerden hangisi yazılabilir?

- A) Yağmurdan sonra gökkuşağı çıktı.
B) Yağmur birden doluya dönüştü.
C) Yağmur bulutları havayı kaplamaya başladı.
15. Aşağıdaki cümlelerin hangisinde kesme işareti yanlış kullanılmıştır?

- ? A) Biletimi Türk Hava Yolların'dan aldım.
B) TBMM'de toplantılar yapılıyor.
C) Saat 16.00'da kursum bitiyor.

16. 1. Tilki, leyleği yemeğe davet etti.
? 2. Bahçedeki ağaçlar çiçek açtı.
3. Güneş etrafına ısı ve ışık yayıyordu.
4. Çınar ağacı bütün ormana küsmüştü.

Yukarıdaki cümlelerin hangilerinde hayal ürünü olaylar vardır?

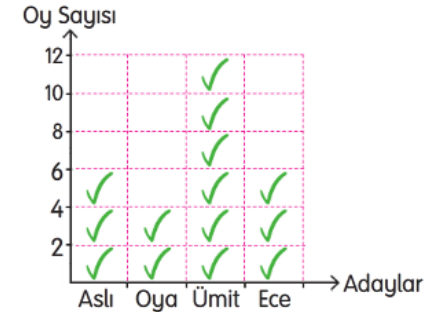
- A) 2 ve 4 B) 1 ve 4 C) 2, 3 ve 4

17. Konusu "kişisel bakımın önemi" olan bir metinde aşağıdaki görsellerden hangisinin kullanılması beklenmez?



(18 ve 19. soruları aşağıdaki grafiğe göre cevaplayalım.)

Grafik: Sınıf Başkanlığı Seçim Sonuçları



18. Başkanlık seçiminde en çok oy alan öğrenci ile en az oy alan öğrenci arasındaki fark kaçtır?

- ? A) 6 B) 8 C) 10

19. Başkanlık seçimine katılan toplam öğrenci sayısı kaçtır?

- ? A) 24 B) 26 C) 28

20. Haydi, hemen gidiyoruz()

Yukarıdaki cümlenin sonuna hangi noktalama işareti konmalıdır?

- A) Nokta B) Soru İşareti C) Ünlem İşareti