

HOROZ İLE İNCİ

Kırmızı ibikli, parlak tüylü bir horoz varmış. Horoz, kümesinin içinde sıkıntıyla dolaşıyormuş. Sahibi horoza yem vermeyi unutmuş. Horozun karnı çok acıkmış. Bir solucan bulurum, diye toprağı eşelemiş. En sonunda parlak ve sert bir şey bulmuş. Bulduğunun bir inci tanesi olduğunu farketmiş.

"Çok güzelsin. Belli ki çok değerlisin. Ama ben bir mısır tanesini sana tercih ederim." demiş.

Etkinlik 1 Soruları cevaplayalım.

☉ Horoz, nerede dolaşıyormuş?

.....

☉ Horoza kim yem vermeyi unutmuş?

.....

☉ Horoz toprağı eşeleyince ne bulmuş?

.....

Etkinlik 2 Görselleri uygun kelimelerle eşleştirelim.



horoz

inci tanesi

kümes

solucan

Etkinlik 3 Cümleleri okuyalım. Metne göre doğru olanların başına D, yanlış olanlara Y yazalım.

- Sarı ibikli, parlak tüylü bir horoz varmış.
- Horoz kümesin içinde sıkıntıyla dolaşıyormuş.
- Annesi horoza yem vermeyi unutmuş.
- Horozun karnı çok acıkmış.
- Solucan bulabilmek için toprağı eşelemiş.
- Horoz toprağın içinden bir solucan bulmuş.

Heceleri karışık olarak verilen sözcükleri bulalım, yazalım.

ra a ba

araba

la sa ta

ten re ce

ra fa zü

lik ka lem

to o büs

Aşağıdaki sözcükleri hecelerine ayırıp yazalım.

arı

bebek

bulut

yatak

❁ Aşağıdaki sözcükler kaç harften oluşmuştur? Sayınız. Örnekte olduğu gibi yanlarına yazınız.

Ata 3

başarı

kalem

kitap

meslek

kütüphane

otobüs

kulaklık

kaplumbağa

NOKTALAMA İŞARETLERİNİ KULLANALIM

Aşağıdaki cümleleri okuyalım. Cümlelerin sonuna gelecek olan noktalama işaretinin balonunu boyayalım.

a. Annem, kardeşime sarıldı



b. Akşam bize gelir misin



c. Eyvah, geç kaldım



ç. Kırmızı kalemle mi yazacağız



● Aşağıdaki tanımları verilen sözcükleri bulunuz. Boş bırakılan yerlere yazınız.

Yemek pişirme işini meslek edinen kişi

.....

Cuma ile pazar arasındaki gün

.....

Elma, nar, muz gibi gıdaların genel adı

.....

Eğitim ve öğretimin verildiği yer

.....

Problemler

► Problemleri çözelim. Doğru yanıtı ait kutuyu boyayalım.

1. Bir sepetteki 15 elmanın 8'i yeşil, diğerleri kırmızıdır.
Kırmızı elmaların sayısı kaçtır?

8

7

6

2. Okul servisindeki öğrencilerden 5'i inince geriye 7 öğrenci kaldı.
Buna göre öğrenciler inmeden önce serviste kaç öğrenci vardı?

12

8

6

3. Selin'in 4 tane şekeri vardı. 7 tane de annesi aldı.
Geriye kaç şekeri kaldı?

9

7

5

4. Bahçemizde 11 tane fidan vardı. 5 fidan daha diktik fakat 3 tanesi kurudu.
Bahçede kaç tane fidan kaldı?

19

16

13

5. Bir papatyanın 17 tane yaprağı vardı. 9 yaprağı döküldü.
Papatyanın kaç tane yaprağı kaldı?

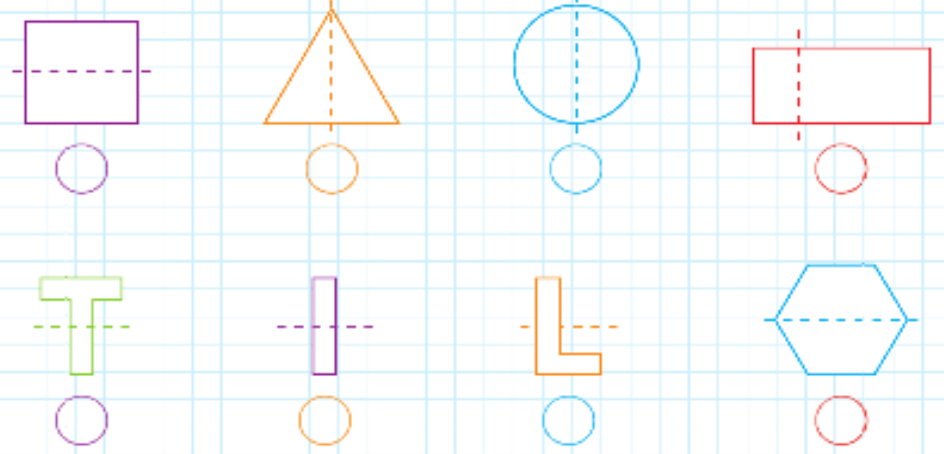
7

8


9

Bütün ve Yarım

1. Aşağıdaki şekillerden iki eş parçaya bölünmüş olanları işaretleyelim.

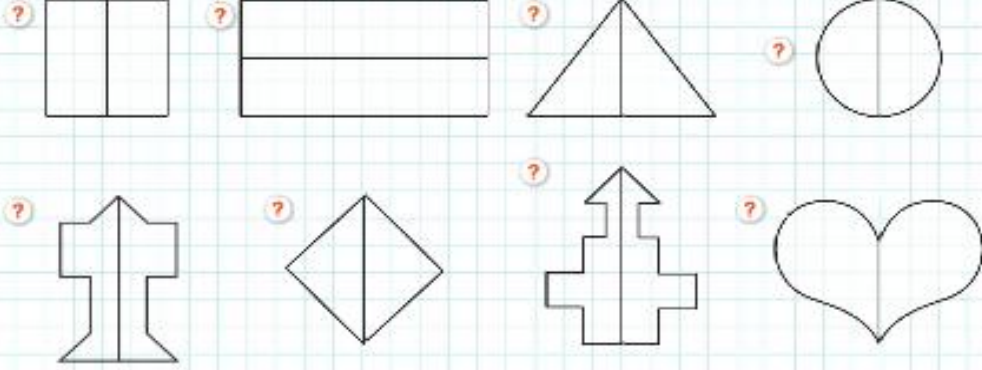


2. Aşağıdaki varlıklardan bütün olanların altına "bütün", yarım olanların altına "yarım" yazalım.

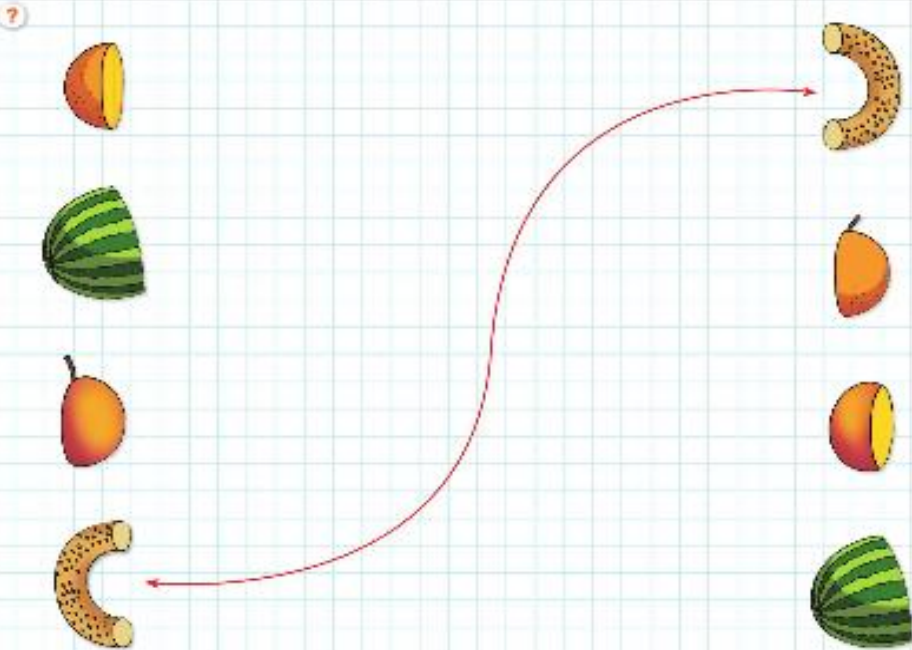


Bütün ve Yarım

3. Aşağıdaki şekillerin yarısını boyyalım.



4. Aşağıdaki eş yarımları birbirleriyle eşleştirelim.



1 Aşağıda karışık olarak verilen harflerin hangi kişisel bakım eşyasına ait olduğunu bulup eşleştirelim.

İDŞ IRFSİÇA .



NAKTİR AKSİMA .



BUSNA .



RTAAK .



1 Aşağıdaki trafik işaret ve levhalarını isimleriyle eşleştirelim.

?



Bisiklet giremez



Okul geçidi



Işıklı trafik cihazı



Yaya geçidi



Dikkat

