

UÇAN SANDIK



Bir zamanlar çok mu çok zengin bir tüccar varmış. Günün birinde bu tüccar ölmüş. Paralarının tümü tek oğluna kalmış. Oğul, babası gibi tutumlu olmadığından babasından kalan paraları har vurup harman savurmuş.

Oğlan öyle yoksul hâle gelmiş ki eski dostları onunla sokağa çıkmaktan utanır olmuşlar. Yalnız içlerinden biri ona bir sandık göndermiş. "Eşyaların hepsini sandığa koysun." diye de haber yollamış. Sandığı gönderen dostu, onun sandığa koyacak hiçbir şeyinin kalmadığını bilmiyormuş anlaşılır.

(Andersen Masalları)

Aşağıdaki soruları yukarıdaki parçaya göre cevaplayınız.

a) Parçaya göre tüccarın özelliklerini yazınız.

.....

b) Tüccarın parası kime kalmış?

.....

c) Tüccarın oğlunun eski dostları, onunla sokağa çıkmaktan neden utanır olmuş?

.....

ç) Tüccarın oğluna arkadaşı sandığı neden göndermiş?

.....

YENİ YIL GELİYOR

Sen misin Zaman Dede?

Yeni yılı getirdin bize.

Bir yaş daha büyüdük ya,

Diyecek yok keyfimize.

Yeni yılda dünyamızı aydınlat,
Güldür ağacın, kuşun yüzünü de.
Kötülüğü yeryüzünden kaldır, at
Değiştir eskileri iyi, doğru güzelle.

Aziz SİVASLIOĞLU

Okul Bitti



Aşağıdaki soruları şiire göre cevaplayınız.

a. Yeni yılı getiren kimdir?

.....

b. Şair neden keyiflidir?

.....

c. Şair nelerin yüzünün gülmesini istemektedir?

.....

ç. Şair eskileri neyle değiştirmek istemektedir?

.....

d. Şairin yeni yılda istediği nedir?

.....

RÜYA

Kırların serinliği gelir,
Konar bir çocuğun alınına.
Onun için uyurken alınları,
Beyaz ve gergindir çocukların.



Bir çocuğun rüyasında bazen,
Bulunur kaybolmuş bir bilye.
Kiraz ağaçları sallanır,
Güvercinler uçuşur havada.

Aşağıdaki soruları yukarıdaki şiire göre cevaplayınız.

a) Çocuğun alınına konan şey nedir?

.....
.....

b) Çocukların uyurken alınları nasıldır?

.....
.....

c) Kaybolmuş bilye nerede bulunur?

.....

GEYİK



Ormanlarda yaşar geyik,
Yüce dağlar aşar geyik.
Boynuzları çatal çatal,
Ağaç mısın be kardeşlik!

Suda gölgesini görmüş,
Bakar kara kaşlı geyik.
Sevdiğinden ayrı düşmüş,
Ağlar gözü yaşlı geyik.

Ali YÜCE
Topun İçindeki

Aşağıdaki soruları yukarıdaki şiire göre cevaplayınız.

a) Geyik nerede yaşar?

.....
.....

b) Geyiğin boynuzları nasıldır?

.....
.....

c) Geyik neden suya bakmaktadır?

.....

ç) Geyik sevdiğinden ayrıldığı için ne yapıyormuş?

.....


Adı:
Soyadı:



Türkçe – Hayat Bilgisi -Matematik
2/A Çalışma Kağıdı



Abaküste modellenen sayıları örnekteki gibi yazınız.



Aşağıdaki sayıları onluk ve birliklerine ayrılmış hâllerıyla örnekteki gibi eşleştiriniz.

3 birlik 5 onluk

4 onluk 2 birlik

1 onluk 8 birlik

20

79

53

81

18

42

97

2 onluk 0 birlik

8 onluk 1 birlik

7 birlik 9 onluk



Aşağıda verilen doğal sayıların basamaklarındaki rakamların basamak adlarını noktalı yerlere yazınız.

72



18



29



Gülümseten ifadeleri uygun yerlere yerleştiriniz.

özür
dilerim

teşekkür
ederim

başarılar
diler

tebrik
ederim

1. Hata yaptığımda kardeşimden
2. Arkadaşım sınıf birincisi olunca onu
3. Bana kitap aldığımda babama
4. Öğretmenim sınavdan önce hepimize



Aşağıda görselleri verilen kelimeleri sözlük sırasına koyarak yeniden yazınız.



kitap



çocuk



defter




çiçek



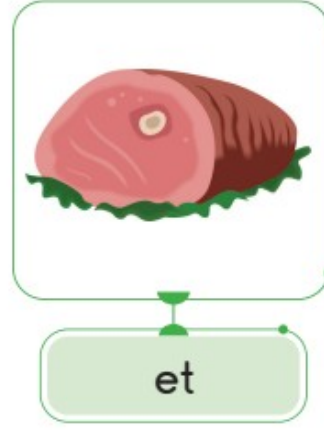
.....



erik



ekmek



et



el



.....



Aşağıda karışık verilen kelimelerden anlamlı ve kurallı cümleler oluşturup yazınız.

koştu- sahada- Hasan

oyun- ben- Akif- Zeynep- ve- oynadık

sinemada- izledik- arkadaşlarımla- çizgi- film



Aşağıdaki arıları, peteklerdeki sayıların en yakın olduğu onlukların bulunduğu çiçeklerle eşleştiriniz.





Aşağıdaki tırtıllarda verilen sayıları büyükten küçüğe doğru sıralayarak noktalı yerlere yazınız.



Aşağıdaki toplama işlemlerini yapınız. İşlemleri yaparken eldeleri kutuların içine yazınız.

elde
□
46
+ 34

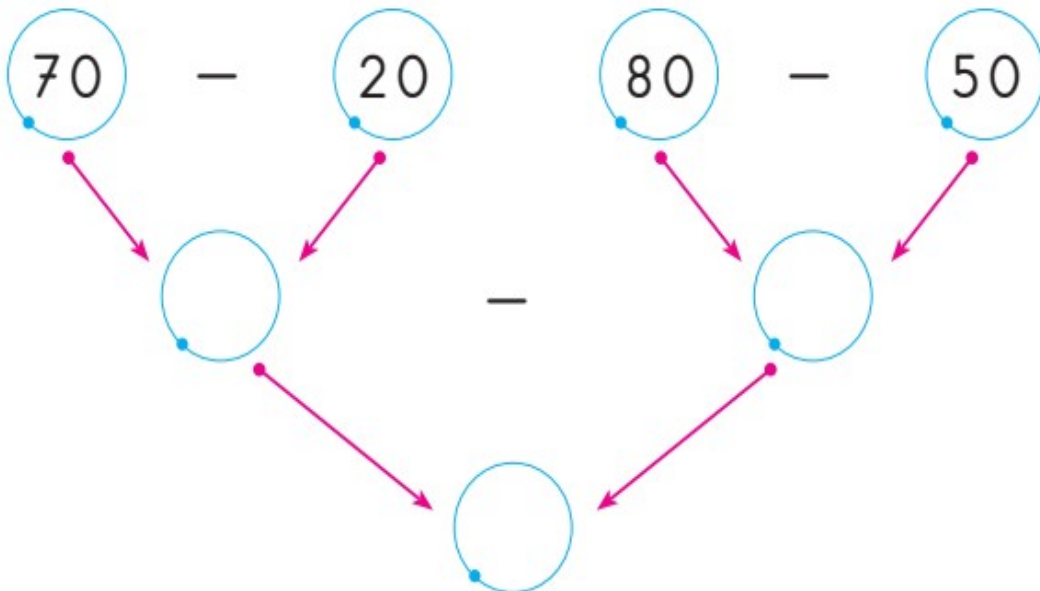
elde
□
27
+ 34

elde
□
62
+ 19

elde
□
57
+ 27



Aşağıdaki çıkarma işlemlerini zihinden yapıp sonuçları kutucuklara yazınız.





Aşağıdaki işlemleri örneğe göre yapınız.

Örnek	İşlem	Tahminî Sonuç	İşlem Sonucu	Fark
$\begin{array}{r} 34 \\ + 58 \\ \hline \end{array}$	$\begin{array}{r} 34 \rightarrow \text{en yakın onluk} \\ + 58 \rightarrow \text{en yakın onluk} \\ \hline \end{array}$	$\begin{array}{r} 30 \\ + 60 \\ \hline 90 \end{array}$	$\begin{array}{r} 34 \\ + 58 \\ \hline 92 \end{array}$	$\begin{array}{r} 92 \\ - 90 \\ \hline 02 \end{array}$

İşlem	Tahminî Sonuç	İşlem Sonucu	Fark
$\begin{array}{r} 26 \\ + 41 \\ \hline \end{array}$			

İşlem	Tahminî Sonuç	İşlem Sonucu	Fark
$\begin{array}{r} 53 \\ + 29 \\ \hline \end{array}$			

İşlem	Tahminî Sonuç	İşlem Sonucu	Fark
$\begin{array}{r} 35 \\ + 47 \\ \hline \end{array}$			



63'ten başlayarak ileriye ve geriye doğru beşer ritmik sayınız. Söylediğiniz sayıları uygun kutucuklara yazınız.




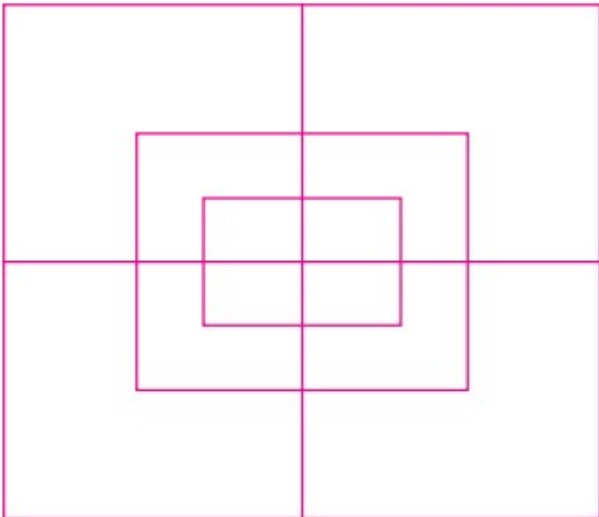
Kutu içindeki kelimeleri aşağıdaki cümlelerdeki noktalı yerlere yazınız.



- Mikroplar ortamlarda çabuk çoğalır.
- Hapşırırken ile ağızımızı kapatmalıyız.
- Hastaneler hizmeti verir.
- Feribot yolu taşıdır.
- Parklar oyun oynamamız için alanlardır.



Aşağıdaki şekilde yer alan dikdörtgenleri sayınız. Bulduğunuz dikdörtgen sayısını noktalı yere yazınız.





1 Otobüste 28 yolcu vardı. İlk durakta 9 yolcu indi, 12 yolcu bindi. İlk duraktan hareket ettiğinde otobüste kaç yolcu vardı?

2 Benim 20 tane kalemim vardır. Murat'ın kalemleri ise benim kalemlerimden 7 tane fazladır. Murat ile ikimizin kalemleri toplamı kaçtır?

3 Esra'nın 38 lirası vardır. Kardeşinin parası ise Esra'nın parasından 12 lira eksiktir. İkisinin paraları toplamı kaç liradır?

4 Ağabeyim 17 yaşındadır. Ben ise ağabeyimden 4 yaş küçüğüm. Ağabeyimle yaşlarımızın toplamı kaçtır?

1 Bir sepette 64 tane yumurta varmış. **3 düzinesini börekte kullanınca geriye kaç yumurta kalmıştır?**

- A) 28 B) 32 C) 36

2 İki sayının farkı 19'dur. **Sayılardan büyüğü 52 ise, diğeri kaçtır?**

- A) 21 B) 23 C) 33

3 Bir sayının yarısı 15 ise o sayının **32 fazlası kaçtır?**

- A) 47 B) 62 C) 52

4 Trende 65 yolcu vardı. 1. durakta 26 yolcu indi, 59 yolcu bindi. **Trende kaç yolcu oldu?**

- A) 88 B) 98 C) 99

5 95 TL'si olan Aslıhan, parasının 5 onluğunu harcamış. **Aslıhan'ın kaç lirası kalmıştır?**

- A) 55 B) 45 C) 90

6 Manavın 90 karpuzu vardı. 13 tanesi kırıldı. 58 tanesini sattı. **Geriye kaç karpuzu kaldı?**

- A) 29 B) 20 C) 19

7 Ali, Esra'dan 5 yaş büyüktür. **Esra 18 yaşında olduğuna göre ikisinin yaşları toplamı kaçtır?**

- A) 31 B) 41 C) 23

8 Sınıfımızda 44 öğrenci var. **Bunların 19'u kız öğrenci ise erkek öğrenci sayısı kaçtır?**

- A) 23 B) 24 C) 25