




Adı Soyadı :

Ödev Kontrol :



CEVRE KİRLİLİĞİ

İnsanlar, bitkiler ve hayvanlar yeryüzünde yaşarlar. Yaşamak için gerekli besinleri topraktan elde ederler. Bizim için çok değerli olan toprak, çok uzun yıllar içerisinde oluşmuştur. Günümüzde ise uzun yıllar içerisinde oluşan toprak giderek azalmaktadır. Bunun en önemli nedeni ise çevre kirliliğidir. İnsanlar ellerine geçen tüm atıkları doğaya atıyorlar. Bu da toprağın kirlenmesine ve zamanla verimsizleşmesine neden oluyor.

➡ Yukarıdaki metnin konusu hangisidir? İşaretleyelim.

- Çevre kirliliği Toprağın oluşumu Besin kaynakları

Kitap okumak çok faydalıdır. Kitaplar bize yeni bilgiler öğretir, hayal gücümüzü geliştirir ve dünyayı daha iyi anlamamızı sağlar. Her gün kitap okursak daha hızlı öğreniriz, kelime hazinemizi arttırırız ve derslerde başarılı oluruz. Ayrıca kitap okumak zihnimizi dinlendirir, bizi hayal dünyamızda eğlenceli yolculuklara çıkarır. Kitaplar yeni şeyler keşfetmemizi sağlar.

➡ Yukarıdaki metne en uygun başlık hangisidir? İşaretleyelim.

- Hayal Gücü Kitapların Faydaları Arkadaşlık

Metni sesli ve sessiz 3 defa okuyalım.

ÇELİK ÇOMAK OYUNU

Çelik çomak, eski zamanlardan beri oynanan eğlenceli bir oyundur. Bu oyun iki grup hâlinde oynanır. Oyunun iki tane sopası vardır. Küçük sopa "çelik", büyük sopa ise "çomak" olarak adlandırılır.



Oyuna başlamadan önce ilk olarak yere bir çukur açılır. Küçük sopa bu çukura konur. Oyuncu, büyük sopa ile küçük sopayı havaya fırlatarak oyunu başlatır. Sonra havadaki çeliğe vurarak uzağa atmaya çalışır. Diğer takım, çeliği yakalamaya çalışır.

Çelik çomak, açık alanda oynanır. Koşmayı, dikkatli olmayı ve birlikte hareket etmeyi öğretir. Bu oyun hem eğlenceli hem de öğreticidir.

➡ **Metni okuyalım. Soruları metne göre cevaplayalım.**

Çelik çomaktaki küçük ve büyük sopanın adı nedir?

Oyuna başlamadan önce ilk olarak ne yapılır?

Çelik çomak oyunu nerede oynanır?

Çelik çomak oyununda oyuncu ne yaparak oyunu başlatır?

➔ Metnin konusu nedir? İşaretleyelim.

Doğayı korumanın önemi



Okul sevgisi

Çelik çomak oyunu ve kuralları



Oyun oynamanın faydaları

➔ Aşağıda metin içerisinde geçen bazı cümleler verilmiştir. Boş bırakılan yerleri tamamlayalım.

? Sonra havadaki vurarak uzağa atmaya çalışır.

? sopa bu çukura konur.

? Oyuna başlamadan önce ilk olarak yere bir açılır.

Bu oyun iki hâlinde oynanır.

Eşitliği Sağlamak İçin Hangi Rakam Gelmelidir?

➔ İşlemlerdeki eşitliğin sağlanabilmesi için kutulardaki noktalı yerlere örnekteki gibi uygun sayıları yazalım.

$8 + 4$

=

$9 + 3$

$14 - \dots$

=

$7 + 2$

$\dots + 5$

=

$16 - 4$

$6 + 6$

=

$12 - \dots$

$4 + 2$

=

$\dots - 1$

$9 + 1$

=

$13 - \dots$

➔ Modellerle belirtilen işlemlerde verilmeyen toplananları bulalım.


$$\begin{array}{r} \boxed{} + 6 \\ + \boxed{} \\ \hline \boxed{000000} + 10 \end{array}$$

$$\begin{array}{r} \boxed{} + \boxed{} \\ + \boxed{} + 5 \\ \hline \boxed{000000} + 12 \end{array}$$


$$\begin{array}{r} \boxed{} + 8 \\ + \boxed{} + \boxed{} \\ \hline \boxed{000000} + 15 \end{array}$$

$$\begin{array}{r} \boxed{} + \boxed{} \\ + \boxed{} + 9 \\ \hline \boxed{000000} + 12 \end{array}$$


➔ Örneği inceleyelim. Ağaçlardaki elmaların sayısını gövdelerinde yazılı olan sayıya tamamlayarak noktalı yerleri dolduralım.




$$5 + 5 = 10$$




$$8 + \dots = 12$$



$$4 + \dots = 9$$



$$1 + \dots = 5$$



$$10 + \dots = 15$$

AÇIK UÇLU SORULAR

1. Bu akşam evimize önce 7, sonra 9 misafir geldi. Evimizde toplam kaç misafir oldu?

4. Kümesimizde 9 sarı, 9 kahverengi, 2 kırmızı tavuğumuz var. Kümesimizde toplam kaç tavuk vardır?

İşlemlerden Cebirsel Düşünmeye
(Çıkarma İşlemi)

→ Aşağıda verilen ifadelerle çıkarma işlemlerini ok işareti ile eşleştirelim.

9'dan 3'ü çıkarırsak 6 kalır.

$$7 - 6 = 1$$

10 sayısının 8 eksiği 2'dir.

$$14 - 9 = 5$$

12 cevizimin 4 tanesini yedim.
Geriye 8 cevizim kaldı?

$$16 - 8 = 8$$

7 eksi 6, 1'e eşittir.

$$9 - 3 = 6$$

14 ile 9'un farkı 5'tir.

$$10 - 8 = 2$$

16 liramın 8 lirasını harcadım.
Geriye 8 liram kaldı.

$$12 - 4 = 8$$

→ Atatürk ile ilgili verilen cümlelerdeki boşluklara gelmesi gereken kelimeyi işaretleyelim.

• Atatürk 'te doğdu.

Ankara

İstanbul

Selânik

• Atatürk'ün kız kardeşi 'dır.

Makbule Hanım

Zübeyde Hanım

Sabiha Gökçen

• Atatürk'e Kemal adını öğretmeni verdi.

tarih

türkçe

matematik

• Atatürk 23 Nisan'ı armağan etti.

askerlere

büyüklere

çocuklara

• Atatürk 'nda vefat etti.

Dolmabahçe Sarayı

Beylerbeyi Sarayı

Topkapı Sarayı

• Atatürk'ün mezarı 'dadır.

İstanbul

Ankara

Bursa