

Adı:  
Soyadı:



3/A Çalışma Kağıdı

Tarih  
...../...../2024

## TAHTA KAŞIKLAR

Yaşlı adam, elleri titrediği ve gözleri iyi görmediği için yemeğini masaya döküyordu. Bazen de cam bardağını elinden düşürüp kırıyordu. Evin babası bu duruma dayanamayıp yaşlı adama tahtadan yapılmış kaşık ve kase verdi. Aradan zaman geçti. Anne ve baba çocuklarını tahta parçalarıyla uğraşırken gördü. Baba, oğluna ne yaptığını sordu. Küçük çocuğun cevabı anne ve babayı oldukça üzmüştü. "Büyüdüğümde, kullanmanız için size tahta kaşık yapıyorum." dedi.

1, 2 ve 3. soruları metne göre cevaplayalım.

1. Yaşlı adam neden yemeğini masaya döküyordu?

- A. Elleri titrediği ve gözleri görmediği için
- B. Sakar olduğu için
- C. Yemeğini sevmediği için

2. Evin babası, yaşlı adama ne verdi?

- A. Porselen tabak
- B. Tahta kaşık ve kase
- C. Bir kase yemek

3. Anne ve baba, çocuklarını ne yaparken gördü?

- A. Dedesiyle sohbet ederken
- B. Oyuncak arabasıyla oynarken
- C. Tahta parçalarıyla uğraşırken

4.


100



"Yüz" sözcüğü aşağıdakilerin hangisinde yukarıdaki anlamlarıyla kullanılmamıştır?


- A. Yüzümde sivilce çıkmış.
- B. Yüze kadar sayabilirim.
- C. Yüzmek çok keyifli.


5.



Yukarıdaki anahtar, eş anlamlısının bulunduğu kilidi açacaktır. Buna göre anahtar hangi kilidi açar?



 Aşağıda verilen cümleler gerçek ögelerse "G" hayali ögelerse "H" yazalım.

 Balina, uçakla yarışını kazandı.


 Bardakların yarısı kırıldı.

 Bulutlar sohbet ediyordu.

 Merdivenlerden koşarak indi.


 Salıncaktan düştü.

 Deniz, dalgasına küstü.


 Aşağıda verilen kelimelerin türlerini karşlarına yazalım.

(Tekil - Çoğul - Topluluk)

KELİMELER	TÜRÜ
armut	tekil
ordu	
silgiler	
meslek	
takım	
kuşlar	

 Aşağıdaki cümlelerden doğru olanların başına (D) , yanlış olanların başına (Y) yazalım.

- Okulumuz sadece derslerde başarılı olmamızı sağlar.
- Okulumuzda yapılan etkinlikler sayesinde sosyalleşiriz.
- Okulumuz arkadaşlık ilişkilerimize zarar verir.
- Okulumuz zayıf yönlerimizin gelişmesine katkı sağlar.
- Okulumuz bize olumlu davranışları öğretir.
- Okuldaki etkinliklere katılırsak derslerde başarılı olamayız.

 Aşağıda eksik bırakılan cümleleri uygun kelimelerle tamamlayalım.

kömürün






suyun

sabunu

sıraları

duvara

elektrik

-  Gereksiz yanan lambaları kapatmak ..... tasarrufu sağlar.
-  Masaları ..... yaslamak çizilmesine ve boyanın aşınmasına neden olur.
-  Hava soğukken pencereleri açmak okuldaki ..... çabuk tükenmesine neden olur.
-  Temiz olmak için ..... gerektiği kadar kullanmalıyız.
-  Sınıftaki ..... karalarsak bizden sonra gelecek olan öğrencileri düşünmemiş oluruz.

# MATEMATİK

Aşağıdaki çıkarma işlemlerini yapalım.


$$\begin{array}{r} 386 \\ - 177 \\ \hline \end{array}$$


$$\begin{array}{r} 410 \\ - 239 \\ \hline \end{array}$$

Aşağıda verilen işlemleri sembollere dikkat ederek zihinden yapıp tabloyu dolduralım.

-	500	750	900
100	400	650	800
250			
400			

+	70	50	30
100			
300			
500			

Aşağıdaki çarpma işlemlerini yapalım.

1

$$\begin{array}{r} 25 \\ \times 29 \\ \hline \square\square\square \\ + \square\square \\ \hline \end{array}$$

2

$$\begin{array}{r} 34 \\ \times 28 \\ \hline \square\square\square \\ + \square\square \\ \hline \end{array}$$

3

$$\begin{array}{r} 91 \\ \times 13 \\ \hline \square\square\square \\ + \square\square \\ \hline \end{array}$$

4

$$\begin{array}{r} 47 \\ \times 13 \\ \hline \square\square\square \\ + \square\square \\ \hline \end{array}$$

Aşağıdaki bölme işlemlerini yapalım.

$$\begin{array}{r} 84 \quad | \quad 6 \\ \hline \end{array}$$

$$\begin{array}{r} 63 \quad | \quad 3 \\ \hline \end{array}$$

$$\begin{array}{r} 29 \quad | \quad 2 \\ \hline \end{array}$$

$$\begin{array}{r} 91 \quad | \quad 5 \\ \hline \end{array}$$

$$\begin{array}{r} 99 \quad | \quad 9 \\ \hline \end{array}$$

$$\begin{array}{r} 50 \quad | \quad 4 \\ \hline \end{array}$$

$$\begin{array}{r} 92 \quad | \quad 7 \\ \hline \end{array}$$

$$\begin{array}{r} 87 \quad | \quad 8 \\ \hline \end{array}$$



Aşağıdaki problemleri çözelim.

1 Bir bölme işleminde bölüm 18, bölen 9 kalan 7 olduğuna göre bölünen kaçtır?

2 Enes elindeki 75 bilyeyi kendisi ve 4 arkadaşına eşit bir şekilde paylaşırsa her birine kaç bilye düşer?

3 Her gün eşit miktarda sayfa sayısı okuyan Ebru 91 sayfalık kitabı bir haftada bitirdiğine göre bir günde kaç sayfa okumuştur?

4 Bir manav 134 kilogram domatesin 14 kilogramını ayırdıktan sonra geriye kalanları 10 kasaya eşit şekilde yerleştiriyor. Buna göre her kasada kaç kilogram domates olur?

### BİR BASAMAK ZOR SORULAR

1 91 öğrenci 7 servise eşit olarak binmiştir. Bilet ücreti olarak her öğrenciden 20 lira toplandığına göre bir servis kaç lira bilet parası toplamıştır?

2 Bir toplantı salonunda 17 masa vardır ve her masa 11 kişiliktir. Bu masaların 16'sı tam doludur. Son masada ise 6 kişi olduğuna göre bu toplantıya kaç kişi katılmıştır?

3 Kumbarasında 210 lira bulunan Pınar, bayramda dedesinin verdiği 90 lirayı kendisine ve iki kardeşine eşit olarak paylaşmıştır. 300 liralık bir ayakkabı almak isteyen Pınar'ın kaç liraya daha ihtiyacı vardır?

4 15 düzine gül, 17 deste lale bulunan bir çiçekçide 47 tane çiçek solmuş, 94 çiçek satılmıştır. Geriye satılabilecek kaç çiçek kalmıştır?

## Trafik İşaretleri

**Etkinlik:** Aşağıda verilen trafik işaretlerinin anlamlarını yazınız.




**Etkinlik:** Aşağıdaki ulaşım araçlarının isimlerini yazınız.



**Etkinlik:** Aşağıdaki trafik levhalarını, açıklamalarıyla eşleştiriniz.



Dur



Dikkat



Yaya giremez



Okul geçiti



Yol çalışması var



Döner kavşak



Kontrolsüz demir yolu geçidi



Bisiklet giremez



Kaygan yol



Trafiğe kapalı yol