

KAZANIM TARAMA TESTİ

1.

$$\begin{array}{r} 45752 \\ - 7534 \\ \hline \end{array}$$

Tuna yukarıda verilen çıkarma işlemini yaptıktan sonra eksilen sayının binler basamağındaki rakamı yanlışlıkla 3 fazla yazdığını fark ediyor.


Tuna doğru sonucu bulmak için aşağıdaki işlemlerden hangisini yapabilir?

- A) $38218 + 3000$ B) $38218 - 3000$
C) $28218 + 3000$ D) $38218 - 3000$

2.



13 750 gram



5 854 gram

Yukarıda bir balıkçının yakaladığı iki balığın kütleleri verilmiştir.

Bu iki balığın toplam kütlesi kaç gramdır?

- A) 18 604 B) 19 504
C) 19 704 D) 19 604

3. Dört ilde düzenlenen kitap bağışısı kampanyasına katılan kişi sayıları aşağıdaki tabloda gösterilmiştir.

Tablo: Kitap Bağışısı Yapanların Sayıları

	Kitap Bağışısı Yapanların Sayısı
İstanbul	24 658
Diyarbakır	6895
Adana	7342
Denizli	4782

Buna göre bu 4 ilden toplam kaç kişi kampanyaya katılmıştır?

- A) 42 677 B) 43 577
C) 43 677 D) 43 687

4. Mustafa Bey 85 400 TL'ye satın aldığı bir otomobili 98 700 TL'ye satmıştır.

Buna göre Mustafa Bey'in bu otomobilden yaptığı kâr kaç TL'dir?

- A) 13 300 B) 13 400
C) 14 300 D) 14 400

5. **Tablo:** İlçelerin Nüfusları

	2018 Nüfusu	2020 nüfusu
A	38 462	39 566
B	74 354	75 123
C	53 875	54 982
D	64 125	64 982

Yukarıdaki tabloda dört ilçenin 2018 ve 2020 yıllarındaki nüfusları verilmiştir.

Buna göre hangi ilçede bu yıllar arasındaki nüfus artışı daha fazladır?

- A) A B) B C) C D) D

6.

0, 2, 5, 7

Zehra yukarıda verilen rakamlarla iki sayı oluşturduktan sonra bu sayıları toplayacaktır. Bu sayılarla ilgili aşağıdaki bilgiler verilmiştir.

1. sayı: Bu rakamlardan her birini en az bir kez kullanmak şartıyla oluşturulabilecek 5 basamaklı en büyük sayı

2. sayı: Bu rakamlardan her birini en az bir kez kullanmak şartıyla oluşturulabilecek 5 basamaklı en küçük sayı

Buna göre Zehra'nın oluşturacağı sayıların farkı kaçtır?


- A) 56 445 B) 57 463
C) 58 125 D) 59132

7.
?



Bülent yukarıda verilen toplardan bazılarını yan yana dizerek bir doğal sayı oluşturduktan sonra kalanları da yan yana dizip başka bir doğal sayı oluşturmaktadır. Daha sonra da bu sayıları toplamaktadır. Oluşturduğu sayılar en fazla 5 basamaklı olmaktadır.

Aşağıda Bülent'in oluşturduğu iki sayı ve yaptığı toplama işlemi gösterilmiştir

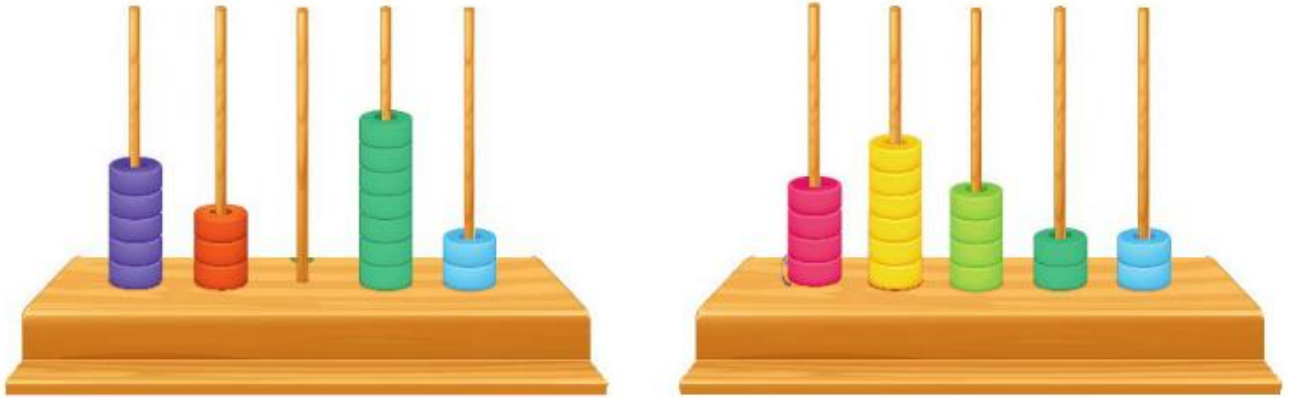


$$\begin{array}{r} 54302 \\ + \quad 850 \\ \hline 55152 \end{array}$$

Buna göre Bülent'in elde edebileceği en büyük sonuç kaçtır?

- A) 85 534 B) 85 612 C) 85 743 D) 85 950

8. Sevde iki abaküsle aşağıdaki gibi iki doğal sayı modellemiştir. Elinde bu abaküslerdeki boncukların dışında boncuk olmayan Sevde bir abaküsle yeni sayılar modelleyeceği zaman o abaküsteki boncukların yerlerini değiştirmektedir.



Buna göre Sevde'nin bu iki abaküsle modelleyeceği 5 basamaklı iki sayının farkı en fazla kaç olur?

- A) 88 921 B) 88 932 C) 89 123 D) 89 700

9. Bir otomobil bayisinin, açıldığı andan itibaren her hafta kaç kırmızı ve kaç beyaz otomobil sattığı aşağıda gösterilmiştir.



1. hafta

2. hafta

3. hafta

4. hafta

Haftalık satış sayıları bu şekilde artmaya devam ederse 9. hafta satılan kırmızı ve beyaz otomobillerin toplam sayısı kaç olur?

- A) 47 B) 48 C) 48 D) 50