

Adı:
Soyadı:



Matematik -Türkçe
3/A Çalışma Kağıdı



Tarih
...../...../2023

Aşağıdaki metinleri okuyunuz ve türlerini işaretleyiniz.

Atatürk ve Çocuk

Atatürk bir sabah bazı görevlilerle birlikte Çankaya sırtlarında yürüyüşe çıkmıştı. Karşıdan gelmekte olan küçük bir çocuk, onları görünce durdu ve kenara çekildi. Atatürk, çocuğu yanına çağırdı ve gülümseyerek sordu:

- Adın ne bakayım?
- Cemil.
- Buralarda mı oturuyorsun?
- Hayır, Ayrancı'da.
- Okula gidiyor musun?

Çocuk, başıyla "Evet!" anlamına gelen bir işaret yaptı.

(...)

Bilgilendirici metin

Şiir

Hikâye edici metin

Atatürk

Mustafa Kemal, bin sekiz yüz seksen bir yılında Selânik'te doğdu. Babası Ali Rıza Efendi, annesi ise Zübeyde Hanım'dır. Babasını erken yaşta kaybeden Mustafa Kemal, ilkokulu bitirdikten sonra Selânik Askerî Ortaokuluna devam etti. Eğitim hayatına askerî lisede devam eden Mustafa Kemal, buradan mezun olduktan sonra bin dokuz yüz dört yılında kurmay yüzbaşı olarak orduya katıldı.

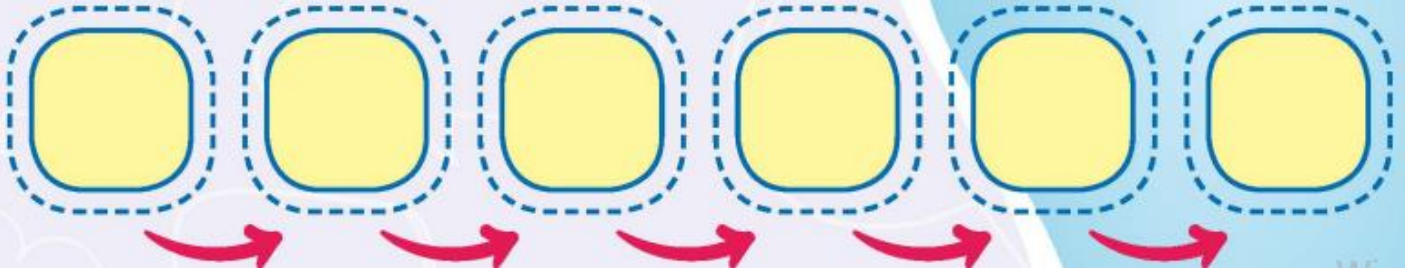
Bilgilendirici metin

Şiir

Hikâye edici metin

oluş sırası

1. Çoban, yaptığı hatayı anlamış.
2. "Yetişin, kurt var!" diyerek sürekli yalan söyleyen bir çoban varmış.
3. Ama bu sefer kimse çobana inanmamış.
4. O günden sonra hiç yalan söylememiş.
5. Bir gün kurt, gerçekten gelmiş ve çobanın sürüsüne saldırmış.
6. Köylüler de hep ona inanırmış.



Aşağıdaki sözcüklerin eş anlamlılarını yazalım.

sağlık

?

soru

?

yanıt

?

yaşam

?

hüner

?

yoksul

?

Aşağıdaki cümlelerden olumlu olanlara "✓", olumsuz olanlara "x" koyalım.

?

Miray çiçekleri kokluyor.

?

Beren havuzda yüzmüyor.

?

Babam bilgisayarı tamir edemedi.

?

Su bidonlarını eve taşıdı.

?

En güzel şiiri Ahmet okudu.

?

Meryem derse geç kaldı.

?

Ağaçlar meyve vermiş değil.

?

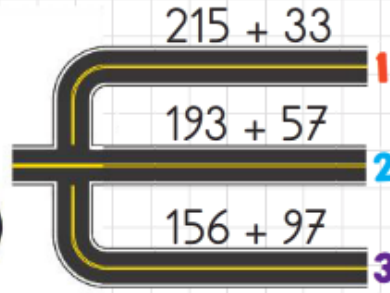
Sınıfımızın masalarında örtü yok.

Yeni Nesil Sorular

1.

?

☆



Tuncay, sonucu farklı olan işlemin bulunduğu yoldan giderek parka ulaşacaktır.

Buna göre Tuncay kaç numaralı yoldan gitmelidir? (Sayıları en yakın onluğa yuvarlayarak işlem yapınız.)

A) 1

B) 2

C) 3

2.

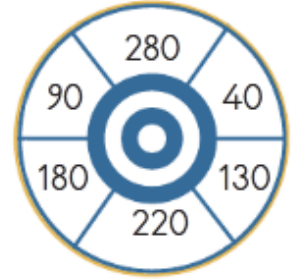
?

Tarık, Kerim ve Aslı yandaki darta 2 atış yapıyor.

Tarık : Birbirinden farklı en büyük 2 sayıyı vuruyor.

Kerim : Birbirinden farklı en küçük 2 sayıyı vuruyor.

Aslı : En yakın yüzlüğü 100 olan sayıları vuruyor.



Buna göre Tarık, Kerim ve Aslı'nın vurdukları sayıların toplamı kaçtır?

A) 950

B) 900

C) 850

3.

?

$$\begin{array}{r} 34 \star \\ + 2 \blacksquare 5 \\ \hline \blacktriangle 23 \end{array}$$

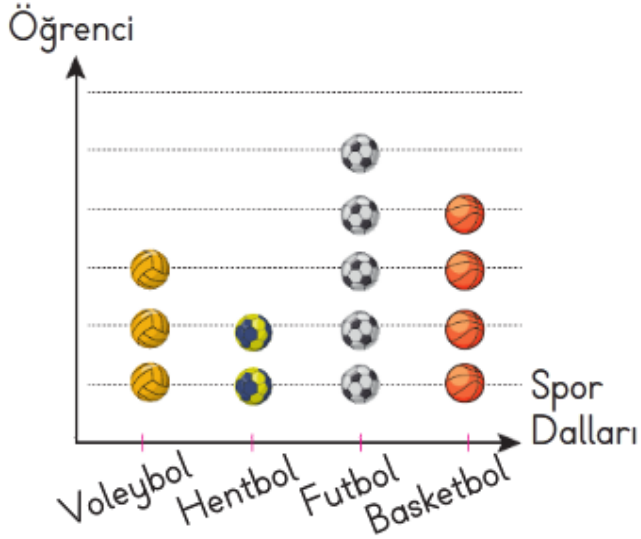
Yandaki toplama işleminde \star , \blacksquare ve \blacktriangle sembolleri yerine gelmesi gereken rakamlarla aşağıdaki 3 basamaklı sayılardan hangisi oluşturulamaz?

A) Yedi yüz altmış yedi

B) Altı yüz yetmiş sekiz

C) Yedi yüz seksen altı

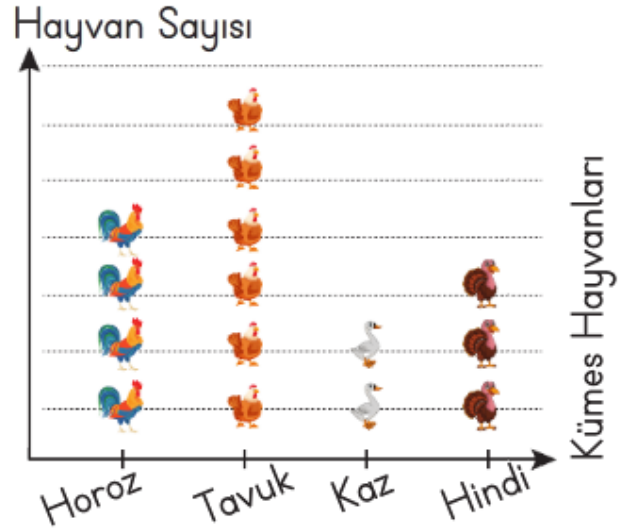
Grafik: Sevilen Spor Dalları



Not: Her şekil 5 öğrenciyi göstermektedir.

1, 2 ve 3. soruları grafiğe göre cevaplayınız.

Grafik: Kümesteki Hayvan Sayısı



Not: Her şekil 3 hayvanı göstermektedir.

4, 5 ve 6. soruları grafiğe göre cevaplayınız.

1. En çok sevilen spor dalının öğrenci sayısı ile en az sevilen spor dalının öğrenci sayısı arasındaki fark kaçtır?

- A) 3 B) 10 C) 15

2. Voleybol sevenlerin sayısı ile hentbol sevenlerin sayısının toplamı, basketbol sevenlerin sayısından kaç fazladır?

- A) 5 B) 10 C) 15

3. Verilen grafiğe göre toplam öğrenci sayısı kaçtır?

- A) 14 B) 35 C) 70

4. Verilen grafiğe göre aşağıdaki çetele tablolarından hangisi yanlıştır?

- A) Hindi B) Kaz



- C) Horoz



5. Verilen grafiğe göre tavukların sayısı, kazların sayısından kaç fazladır?

- A) 12 B) 14 C) 16


6. Kümesten kazlar çıkarıldığında geriye kaç hayvan kalır?

- A) 45 B) 39 C) 6

Aşağıdaki ifadelerden doğru olanlara "D", yanlış olanlara "Y" yazalım.

- Aile üyeleri, evdeki sorumlulukları paylaşmalıdır. Sofra hazırlanırken yardım etmeliyiz.
- Krokilerde yönler belirtilir. Krokilerde geometrik şekiller kullanılır.
- Odamızı düzenleyip toplamak annemizin görevidir. Harita ile kroki aynıdır.
- Krokilerde tüm detaylar yer alır. Para kazanmak, bizim görevlerimizden biridir.

Aşağıdaki bulmacada saklanmış olan kelimeleri bulup noktalı yerlere yazınız.



- 1 **OLD** 2 3 4
- 5 6 7 8
- 9 10 11 12

Boş bırakılan yerlere "She" ya da "He" yazalım.

