

Ad:  
Soyadı:

.....

Alfabe treninin arkasında  
Yirmi dokuz arkadaşız  
Oluşur bizden hece, kelime  
İlk vagonumuz A, sonuncumuzda Z  
Öğrenin bizleri çocuklar  
Okuma ve yazma bizle başlar

\*\*\*\*\*

Şiirde alfabe aşağıdakilerden hangisine benzetilmiştir?



\*\*\*\*\*

Şiirin başlığı aşağıdakilerden hangisi olabilir?

- A) KIRMIZI TREN  
B) VAGONLARDA KELİMELEK  
C) ALFABE TRENİ

\*\*\*\*\*


Şiirden aşağıdaki sonuçlardan hangisini çıkaramayız?

- A) Trende yirmi dokuz harf vardır.  
B) Şiire göre alfabemizde 29 tane hece vardır.  
C) Trenin vagonlarındaki ilk harf A, son harf ise Z'dir.

Kiraz ağacına ilk çıktığımda korkmuştum. Daha sekiz yaşındaydım. Babam kolumdan sıkıca tuttu. "Korkmana gerek yok. Ayaklarını sağlam basarsan hiçbir şey olmaz. Şimdi gel de sepeti beraberce dolduralım." dedi. O gün korkmadan topladığım kirazların tadını unutamam. Aynı ağaçtan sonraki yıllarda defalarca kiraz yedim. Ama babamla beraber topladığımız o kirazlar bir başkaydı.

\*\*\*\*\*

Çocuğun kiraz ağacına ilk çıktığında hissettiği duygu aşağıdaki yüz ifadelerinden hangisi gibidir?



\*\*\*\*\*

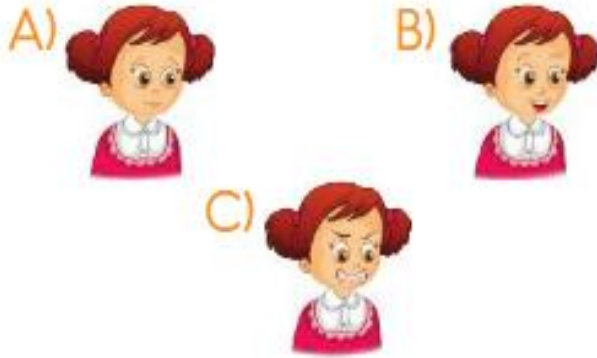
Çocuk ve babası niçin kiraz ağacına çıkmışlar?

- A) Kiraz toplamak ve yemek için çıkmışlar.  
B) Pazarda kiraz satmak için kiraz toplamaya çıkmışlar.  
C) Kiraz dallarını budamak ve ilaçlamak için ağaca çıkmışlar.



"Denizleri ve okyanusları anlatan bir kitap istiyorum." dedi çocuk. Kitapçı şaşır-mıştı. Bilmiyordu çocuğun babasının gemici olduğunu. Bilmiyordu dört ay sonra eve döneceğini. "İstersen bir atlas vereyim." dedi kitapçı. Çocuğun gözleri sulandı. Kitapçıdan çıkarken mırıldandı. — "Bana denizler lazım!"  
(1, 2 ve 3. soruyu okuduğumuz metne göre cevaplayalım.)

Çocuk kitapçıdan çıkarken yüz ifadesi nasıldır?



2. Metinde aşağıdaki sonuçlardan hangisine ulaşamayız?

- A) Çocuğun babası gemicilik ile ilgili bir mesleğe sahiptir.
- B) Çocuğun babası uzun süreli yolculuklara çıkmaktadır.
- C) Çocuk macera kitaplarını okumayı sevmektedir.

3. Çocuğun kitapçıya gitmesinin sebebi aşağıdakilerden hangisi olabilir?

- A) Çocuğun kitap okumayı çok sevmesi
- B) Çocuğun babasını özlemesi ve hasret çekmesi
- C) Çocuğun derslerine çalışmak için araştırma yapmak istemesi

\*\*\*\*\*

Aşağıdaki görsellerden hangisinin ismi tek hecelidir?



\*\*\*\*\*

Tren iki kere fren yaptı.

- 1
- 2
- 3

Yukarıdaki cümlede kaç numaralı sözcük iki hecelidir?

- A) 1
- B) 2
- C) 3

\*\*\*\*\*

Aşağıdaki sözcüklerden hangisi satır sonunda hecesine yanlış ayrılmıştır?

A) .....ilkba-  
har

B) .....yumur-  
taçlık

C) .....ayakkab-  
ıcı

1.

?



Yandaki kalemlikteki kalemlerin sayısı aşağıdakilerden hangisidir?

A)

8

B)

7


C)

6

2. Aşağıdaki seçeneklerin hangisinde 14 tane boncuk vardır?

?

A)



B)

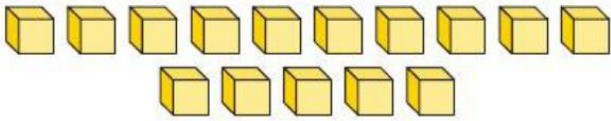


C)



3.

?



Yukarıdaki kutuları onluk ve birlik olarak gruplandırırsak kaç birlik oluşur?

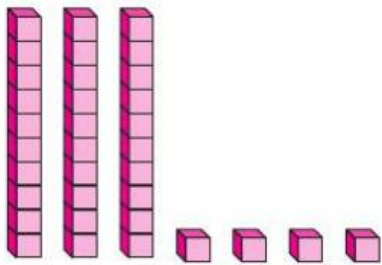
A) 1

B) 3

C) 5

4.

?



Yukarıda sayı bloklarıyla gösterilen sayıda kaç tane onluk vardır?

A)

3

B)

4

C)

7

5.

?



Bu çileklerin sayısı için aşağıdakilerden hangisi söylenebilir?

A)



1 onluk ve 4 birliğe eşittir.

B)



1 onluk ve 5 birliğe eşittir.

C)



1 onluk ve 6 birliğe eşittir.

6.

?

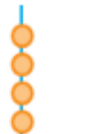


Evimizin kapı numarası 6 birlik ve 4 onluktan oluşan sayıya eşittir.

Özgür

Özgür'ün verdiği bilgiye göre kapı numaraları hangi seçenekte doğru olarak gösterilmiştir?

A)



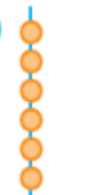
onluk birlik

B)



onluk birlik

C)



onluk birlik

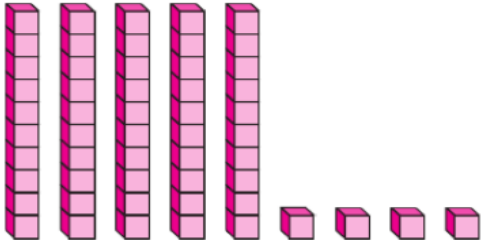
7. Ozan, bir kalemlikteki kalemlerin sayısını 12 olarak tahmin ediyor. Sonra kalemleri sayarak tahmini ile karşılaştırıyor. Arada 2 fark olduğunu görüyor.

Buna göre Ozan hangi kalemlikteki kalemlerin sayısını tahmin etmiştir?



8.

?



Yukarıda modellenen sayının onlar basamağında hangi rakam vardır?

A) 4 B) 5 C) 9

9.

?



Yukarıdaki sayının oklarla gösterilen basamaklarının isimleri hangi seçenekte verilmiştir?

A)  Onlar Basamağı  
Birler Basamağı

B)  Birler Basamağı  
Onlar Basamağı

C)  Onluk Basamağı  
Birlik Basamağı

10.....



Yukarıdaki rakamlardan iki tanesini kullanarak yazılabilecek iki basamaklı en küçük sayı kaçtır?

A) 20 B) 23 C) 30


11.....

**82** sayısının onlar basamağındaki rakamı bir arttırıp, birler basamağındaki rakamı bir azaltırsak yeni sayı kaç olur?



12.....

Aşağıdaki sayıların hangisinde 6'nın basamak değeri 60'tır?



13.....

42 doğal sayısında onlar basamağındaki rakamın basamak değeri kaçtır?

A) 40 B) 20 C) 4