




Adı Soyadı : .....

Ödev Kontrol : .....



Şiiri sesli ve sessiz 3 defa okuyalım.

Her çocuk bir yıldız gibi,  
Parlar kendi yolunda,  
Kimi çizer, kimi söyler,  
Kimi koşar oyunda.

Kimisi sayı dostudur,  
Kimisi çözümler şiiiri,  
Kimisi resim yaparken  
Düşler canlı renkleri.



Kimisi sessizce güler,  
Ama kalbi çok zengindir.  
Her çocuk bir hazine.  
Her biri eşsiz bir dildir.

Şiire en uygun başlığı işaretleyelim.

Çocuk oyunları

Can Dostum

Renkli Hayatım

Her çocuk Özeldir

Aşağıdaki soruları şiire göre cevaplayalım.

1 Şiire göre her çocuk nelere benzetilmiştir?

2 Şiire göre çocuklar neler yapabiliyorlar?

3 Şiirin konusu nedir?

→ Aşağıda verilen sözcüklerle ilgili cümle yazalım.

şenlik

bilgi

yıldız

→ Bilmecelerin cevaplarını boşluklara yazalım.

Yaz gelince sararırım,  
Dalda güneş ararım.  
İçim sulu, çok tatlıym,  
Soyulunca çıkarım.

?

Dışım yeşil, içim kırmızı,  
Çekirdeklerim var sıralı.  
Yazın herkesi serinletirim,  
En güzel piknikte yenirim.

Küçüğüm ama çok tatlıym,  
Salkım salkım daldayım.  
Bazen siyah, bazen beyaz,  
Seversin beni her yaz.

?

Dalda durur al yanaklı,  
Hem ekşidir, hem de tatlı.  
Kimi yeşil, kimi aldır,  
Isırınca ne de baldır!

→ Aşağıdaki cümlelerin sonuna uygun noktalama işaretlerini koyalım.

● Kerim annesini gördü ( )      ? ● Cem, kalemını düşürdü ( )

● Ahmet amcam orada mı ( )      ? ● İki kilo portakal aldım ( )

→ Yan yana ve alt alta verilen çıkarma işlemlerini yapalım.

?

$9 - 3 = \dots\dots\dots$



?

$$\begin{array}{r} 9 \\ - 3 \\ \hline \end{array}$$

.....

?

$8 - 4 = \dots\dots\dots$



?

$$\begin{array}{r} 8 \\ - 4 \\ \hline \end{array}$$

.....

?

$10 - 5 = \dots\dots\dots$



?

$$\begin{array}{r} 10 \\ - 5 \\ \hline \end{array}$$

.....

?

$16 - 2 = \dots\dots\dots$



?

$$\begin{array}{r} 16 \\ - 2 \\ \hline \end{array}$$

.....

?

$18 - 3 = \dots\dots\dots$



?

$$\begin{array}{r} 18 \\ - 3 \\ \hline \end{array}$$

.....

?

$19 - 6 = \dots\dots\dots$



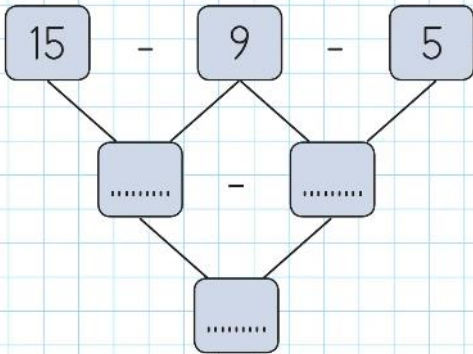
?

$$\begin{array}{r} 19 \\ - 6 \\ \hline \end{array}$$

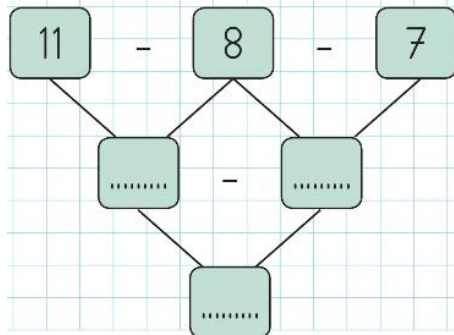
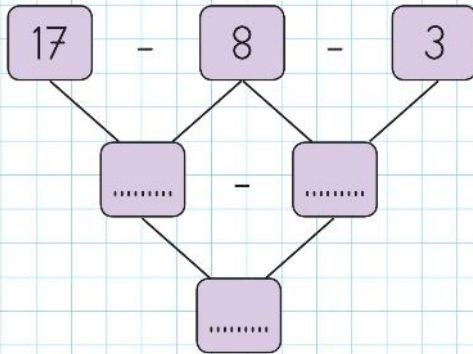
.....

→ Şemalarda verilen çıkarma işlemlerini yapalım.

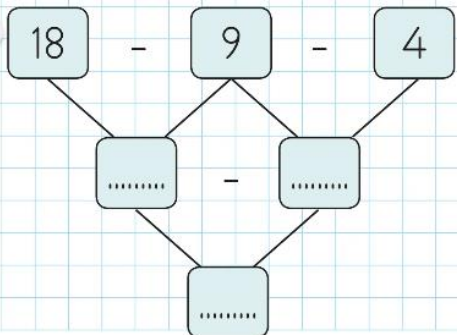
?



?




?




## Eşitlik


→ Aşağıda gösterilen farklı renkteki görsellerin sayılarını örneklerdeki gibi yazalım.



$$\begin{array}{c} 7 \\ \swarrow \quad \searrow \\ 5 \quad + \quad 2 \end{array}$$




$$\begin{array}{c} 7 \\ \swarrow \quad \searrow \\ 4 \quad + \quad 3 \end{array}$$




?

$$\begin{array}{c} \text{.....} \\ \swarrow \quad \searrow \\ \text{.....} \quad + \quad \text{.....} \end{array}$$



?

$$\begin{array}{c} \text{.....} \\ \swarrow \quad \searrow \\ \text{.....} \quad + \quad \text{.....} \end{array}$$




?

$$\begin{array}{c} \text{.....} \\ \swarrow \quad \searrow \\ \text{.....} \quad + \quad \text{.....} \end{array}$$




?

$$\begin{array}{c} \text{.....} \\ \swarrow \quad \searrow \\ \text{.....} \quad + \quad \text{.....} \end{array}$$




?

$$\begin{array}{c} \text{.....} \\ \swarrow \quad \searrow \\ \text{.....} \quad + \quad \text{.....} \end{array}$$



?

$$\begin{array}{c} \text{.....} \\ \swarrow \quad \searrow \\ \text{.....} \quad + \quad \text{.....} \end{array}$$



?

$$\begin{array}{c} \text{.....} \\ \swarrow \quad \searrow \\ \text{.....} \quad + \quad \text{.....} \end{array}$$

# Atatürk'ü Tanıyalım

→ Aşağıdaki görsellerle ilgili örnekteki gibi kısa bilgiler yazalım.



Atatürk'ün Selânik'te doğduğu evdir.



?



?





## Ev Etkinliđi



Problemleri zihnimizden çözüp cevabını üstteki bölüme yazalım

Otobüste 6 yolcu var. Durakta otobüse 4 yolcu daha bindi.



Otobüste kaç yolcu oldu?

Biz 2 kardeşiz. Ben 8 yaşındayım. Kardeşim 4 yaşındadır. İkimizin yaş-



ları toplamı kaçtır?

6 arkadaş birlikte futbol oynadık. Bizim takımımız 4 gol attı. Diğer



takım 3 gol attı. Maçta toplam kaç gol oldu?

İlkay sağlığı için dün 7 bardak, bugün 6 bardak su içti. İlkay toplam



kaç bardak su içmiştir?

Bakkaldan 3 paket fındık, 4 pakette fıstık aldım. Bakkaldan kaç



paket yiyecek aldım?

Fırınımızda sabah 8 pide, akşam 9 pide satılmıştır. Fırınımızda toplam



kaç pide satılmıştır?

Cumartesi günü 7 sayfa kitap okudum. Pazar günü 8 sayfa kitap



okudum. Toplam kaç sayfa kitap okudum?

Akşam evimizde meyve yedik. Ben 4 şeftali yedim. Babam ise 3 şeftali



yedi. Evimizde akşam kaç şeftali yenmiştir?

İşlemleri zihinden yapmalarını sağlayalım. Parmak Kullanmadan yapalım.