



Adı:

Soyadı:

2/A Sınıfı Çalışmaları

1 Sefa, ailesiyle beraber ormanlık bir alanda piknik yapmaktaydı. Pikniğe gelen başka bir ailenin yaramaz çocuğu kibritle oynuyordu. Kibritle oyun oynayayım derken birden etrafı bir alev aldı. Aileler ateşi söndürmeye çalıştıkça ateş daha da alevlenerek ağaçlara sıçradı. Sefa, hemen telefona sarıldı.

Sefa, yangının kısa sürede söndürülmesi için hangi kurumu aramıştır?

- A. Polisi aramıştır.
- B. İtfaiyeyi aramıştır.
- C. Jandarmayı aramıştır.

2 Aşağıdakilerden hangisi güvenliğimizi sağlamakla görevlidir?

- A. Polis
- B. Doktor
- C. Müdür

3 Deprem, sel gibi doğal afetlerde aşağıdakilerden hangisinden yardım isteriz?

- A. Polis
- B. AFAD
- C. Jandarma

4 Ali, okulda oyun oynarken yere düşer ve ayağı kırılır. Bunu gören nöbetçi öğretmen hemen yanına koşar.

Yukarıdaki durum için nöbetçi öğretmen ilk önce hangi numarayı aramalıdır?

- A. 155
- B. 112
- C. 156

5 Mustafa, aşağıdaki mesleklerden hangisi için çabalamıştır?

- A. Subay
- B. Öğretmen
- C. Çiftçi

6 Mustafa, babasını kaybettikten sonra ailesiyle beraber nereye yerleşmiştir?

- A. İstanbul'a yerleşmiştir.
- B. Dayısının çiftliğine yerleşmiştir.
- C. Selânik'e yerleşmiştir.

7 Mustafa'nın doğduğu yer aşağıdakilerden hangisidir?

- A. Ankara
- B. İstanbul
- C. Selânik

Aşağıdaki ulaşım araçlarının hangi yollarda kullandıklarını bulalım ve tablodaki yerlerine yazalım.



Hava Yolu	Deniz Yolu	Demir Yolu	Kara Yolu



Adı:

Soyadı:

1



Kilosu 15 TL olan undan 6 kilo un aldım.

Kaç lira ödemem gerekir?

ÇÖZÜM:

2

Günde 4 kilo yoğurt tüketen bir aile, bir haftada kaç kilo yoğurt tüketir?

ÇÖZÜM:

3

Kilosu 2 TL olan portakaldan 5 kilo aldım. Kilosu 3 TL'den olan elmadan 6 kilo aldım.

Manava kaç TL ödemem gerekir?

ÇÖZÜM:

4

Bilal ve 2 arkadaşı elma toplamaya gittiler. Her biri dörder elma topladı.

Çocuklar kaç elma toplamış oldu?

ÇÖZÜM:

5

Kardeşim 8 yaşındadır. Benim yaşı, kardeşimin yaşının 3 katından 5 yaş eksiktir.

Benim yaşı ile kardeşimin yaşının toplamı kaçtır?

ÇÖZÜM:

6

Ağabeyim 7 yaşındadır. Babamın yaşı, ağabeyimin yaşının 4 katından 4 fazladır.

Babamın yaşı kaçtır?

ÇÖZÜM:

Aşağıdaki bölme işlemlerini yapınız.

$$\begin{array}{r} 16 \overline{)4} \\ \underline{\quad} \\ \dots \end{array}$$

$$\begin{array}{r} 9 \overline{)3} \\ \underline{\quad} \\ \dots \end{array}$$

$$\begin{array}{r} 20 \overline{)5} \\ \underline{\quad} \\ \dots \end{array}$$


$$\begin{array}{r} 14 \overline{)2} \\ \underline{\quad} \\ \dots \end{array}$$

$$\begin{array}{r} 18 \overline{)3} \\ \underline{\quad} \\ \dots \end{array}$$



Bölme İşleminde Gruplama ve Paylaştırma


1 Aşağıdaki varlıkları, ikişerli gruplandırarak grup sayısını bulalım.



Kaç tane ekmek vardır?

Kaç grup oluştu?


2 Aşağıdaki varlıkları, dörderli gruplandırarak grup sayısını bulalım?



Kaç yumurta vardır?

Toplam kaç grup oluştu?


3 Aşağıdaki varlıkları, üçerli gruplandırarak grup sayısını bulalım.



Kaç tane simit vardır?

Toplam kaç grup oluştu?

4 Aşağıdaki varlıkları birerli gruplandırarak grup sayısını bulalım.



Kaç kalem vardır?


Toplam kaç grup oluştu?

5 Aşağıda verilen 8 elmayı, 2 tabağa eşit olarak koydum.



1 tabağa kaç elma düşer?

6 Aşağıda verilen 10 şekerini, 5 çocuğa eşit olarak paylaştıralım.



Her çocuğa kaç şeker düşer?



Bölme İşlemi Gerektiren Problemler

1 16 kurabiye, 4 çocuğa eşit sayıda paylaştırılırsa her çocuğa kaç kurabiye düşer?

ÇÖZÜM:

2 Merve'nin yaşının 3 katı 21'dir. Merve, 4 yıl sonra kaç yaşında olur?

ÇÖZÜM:

3 18 kalemin yarısının 5 eksiği kaçtır?

ÇÖZÜM:

4 15 gül, 3 vazoya eşit olarak konulursa her vazoya kaç gül düşer?

ÇÖZÜM:

5 Bir kova 18 bardak su almaktadır. Kovadaki suyun yarısını kullandık. Geriye kalan suyun 2 bardağıyla çiçeğimi suladım.

Kovada kaç bardak su kaldı?

ÇÖZÜM:

6 Beren, günde 4 bardak ayran içiyor.

Beren 20 bardak ayranı kaç günde içer?

ÇÖZÜM:

Aşağıdaki bölme işlemlerini yapalım.

$$\begin{array}{r} 15 \overline{) 3} \\ \underline{\quad} \\ \dots \end{array}$$

$$\begin{array}{r} 12 \overline{) 4} \\ \underline{\quad} \\ \dots \end{array}$$

$$\begin{array}{r} 16 \overline{) 4} \\ \underline{\quad} \\ \dots \end{array}$$

$$\begin{array}{r} 18 \overline{) 3} \\ \underline{\quad} \\ \dots \end{array}$$



VAKVAK YÜZME ÖĞRENİYOR

Minik ördek yavrusu Vakvak, annesi ve beş kardeşiyle çalıkların arasından geçip gölete ulaştı. Gölete önce anne ördek girdi. Ardından kardeşleri sırasıyla girmeye başladılar. Beş kardeşi de girdikten sonra sıra Vakvak'a gelmişti. Fakat Vakvak sudan korkuyordu. Biraz yaklaştı, ayağını değdirdi. "Su çok soğuk ben gelmeyeyim, siz gidin." dedi. Onları izleyen tavuklar ve hindiler gülmeye başladı. "Yüzmekten korkan ördeğe bakın." dediler. Vakvak utanmıştı. Kardeşleri ve annesi gibi yüzmek istiyordu. Cesaretini topladı ve suya doğru paytak adımlarla ilerledi. Gölete girdiğinde çok gergindi. Fakat yüzebildiğini anlayınca rahatladı. Tavuklar ve hindiler de onu alkışladılar. Vakvak gururla yüzerek ailesine katıldı.

Ördek ailesi kaç kişiden oluşuyordu?

- A. beş B. altı C. yedi

Vakvak, yüzmekten korktuğunu gizlemek için hangi bahaneyi uydurdu?

- A. suyun çok soğuk olduğunu
B. göletin kirli olduğunu
C. yüzmek istemediğini

Vakvak suya girdikten sonra nasıl rahatladı?

- A. tavuklar ve hindiler onu alkışlayınca
B. yüzebildiğini anlayınca
C. suyun sıcak olduğunu anlayınca

Aşağıdaki cümlelerin hangisinde "yüz" sözcüğü sayı anlamıyla kullanılmıştır?









- A. Böyle güzel bir yüz asla unutulmaz.
B. Gel hadi sen de bizimle yüz.
C. Sana yüz kere söyledim ama dinlemedin.

Aşağıdaki cümlelerin hangisinde "fayda" sözcüğünün eş anlamlısı kullanılmıştır?

- A. Bu çalışmaların bana yarar sağlamaz.
B. Artık benden yardım bekleme.
C. Doğaya zarar vermemeliyiz.



Aşağıdaki cümlelerin sonuna uygun noktalama işaretini koyalım.

-  Annem gazete okuyor ()
-  Nereye gidiyorsun ()
-  Bu defter senin mi ()
-  Bize gelecek misin ()
-  Ay, elime iğne battı ()
-  16. Sokak'ta oturuyor ()
-  Parkta otomobil, taksi, kamyon var()
-  Burcu'dan mektup geldi ()

Aşağıdaki bilgiler doğru ise başına "D", yanlış ise "Y" yazalım.

- "cad." "sok." gibi kısaltmalardan sonra nokta konur.
- Biten cümlelerin sonuna kısa çizgi konur.
- Soru bildiren her cümlenin sonuna soru işareti konur.
- Her kısaltmanın sonuna nokta konur.

Yandaki soruları şiire göre cevaplandıralım.



23 NİSAN

Bugün sen de bayrağım,
Daha şanlı dalgalan.
Bugün büyük bayramım,
Bugün Yirmi Üç Nisan.

Bugün bana Ata'ımdan,
En büyük bir armağan.
Bugün büyük bayramım,
Bugün Yirmi Üç Nisan.

İ. Hakkı TALAS

Şiirin birinci dizesinde kaç hece vardır?

- A) 8 B) 7 C) 6

Şiirin birinci kıtasında kaç kelime vardır?

- A) 11 B) 12 C) 14

"Bu yıl sonbahar çok soğuk geçeceğe benziyor." cümlesindeki altı çizili sözcüklerin eş anlamlıları hangi seçenekte verilmiştir?

- A) sene - güz
B) asır - kış
C) ay - yaz