

Adı:
Soyadı:




3/A Çalışma Kağıdı

Tarih
...../...../2024

YUMURTA

Yumurthanın birçok yararı vardır. İnsan sağlığı için çok önemli bir yere sahiptir. Yumurtadaki protein, kas gelişimine etki eder. Ayrıca bağışıklık sistemimizi güçlendirir. Yapılan araştırmalara göre yumurta kalp sağlığını da olumlu etkilemektedir. Tabii ki kararında yediğimiz sürece. Biliyoruz ki her şeyin fazlası zarardır. Yumurta'yı da gerektiğinden çok tüketmek sağlığımızı olumsuz etkileyebilir.



1, 2 ve 3. soruları metne göre cevaplayalım.

1. Yumurtada bulunan protein ne işe yarar?

- A. Kas gelişimine
- B. Terlemeye
- C. Çiçeklerin çimlenmesine

2. Aşağıdakilerden hangisi yumurtanın faydalarındandır?

- A. Bağışıklık sistemimizi güçlendirir.
- B. Tüm vitaminlerin vücudumuza girmesini sağlar.
- C. Daha rahat nefes almamızı sağlar.

3. Yumurthanın kalp sağlığına nasıl bir etkisi vardır

- A. Olumsuz etkisi vardır.
- B. Olumlu etkisi vardır.
- C. Etkisi yoktur.

4.

	Özel Ad	Tür Adı
1	Arı	Mesut
2	Kemal	Cüzdan
3	İngilizce	Köpek

Yukarıdaki tabloda hangi satırdaki adlar yanlış gruplanmıştır?

- A. 1
- B. 2
- C. 3

5.

altında	kara	rahatça
uyudu	ağacın	kedi

Yukarıdaki kelimelerle anlamlı ve kurallı bir cümle oluşturmak istenirse sıralama aşağıdakilerden hangisi gibi olmalıdır?

A.

3	5	4
6	2	1

B.

5	1	4
3	6	2

C.

4	1	5
6	3	2

Aşağıdaki sözcükler satır sonunda doğru ayrılmışsa (D), yanlış ayrılmışsa (Y) koyalım.

..... kal-
em

(D) (Y)

.....ekmek-
çi

(D) (Y)

..... ke-
mik

(D) (Y)

..... a-
kın

(D) (Y)

..... ge-
lincik

(D) (Y)

.....hızl
ıca

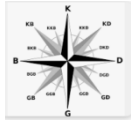
(D) (Y)

.....spor-
cu

(D) (Y)

.....ger-
ekli

(D) (Y)



Aşağıda verilen cümlelerden krokiye göre doğru olanları işaretleyelim.



- Bankanın batısında market vardır.
- Okul, manavin kuzeyindedir.
- Hastane parkın doğusundadır.
- Marketin kuzeyinde hastane vardır.
- Okul hastanenin doğusundadır.
- Park ve banka doğudadır.

Aşağıdaki cümlelerden olumlu olanların başına (+) , olumsuz olanların başına (-) koyalım.

Seni üzmeyi hiç istemezdim.

Hırsızlar polisten kaçmayı başarmış.

Kaybolan anahtarımı buldum.

Sınavdaki kolay soruyu yapamadım.

Doğum günüm yarın değil.

Sana haber vermeyi unuttum.

Aşağıda verilen sözcükler özel isimse başına (Ö), cins isimse başına (C) harfi koyalım.

hala

()

Van Gölü

()

Tunceli

()

çilek

()

köpek

()

Rusça

()

MATEMATİK

Aşağıdaki işlemlerdeki verilmeyen rakamları bulalım.

$$\begin{array}{r} 195 \\ + \square\square0 \\ \hline 37\square \end{array}$$

$$\begin{array}{r} 246 \\ + 6\square\square \\ \hline 919 \end{array}$$

$$\begin{array}{r} 4\square\square \\ + 276 \\ \hline 700 \end{array}$$

$$\begin{array}{r} 10\square \\ + 219 \\ \hline \square22 \end{array}$$

Aşağıdaki işlemlerdeki verilmeyen sayıları bulalım.

$$\begin{array}{r} 310 \\ + \square \\ \hline 751 \end{array}$$

$$\begin{array}{r} \square \\ + 157 \\ \hline 642 \end{array}$$

Aşağıdaki problemleri çözelim.

1 Üç basamaklı rakamları farklı en küçük sayının 459 fazlası kaçtır?

2 Bir pazarcı 1. gün 124 kg meyve, 2. gün 236 kg meyve, 3. gün ise 198 kg meyve sattığına göre üç günde toplam kaç kg meyve satmıştır?

$$\begin{array}{r} 86 \\ \times 12 \\ \hline \square\square\square \\ + \square\square \\ \hline \end{array}$$

$$\begin{array}{r} 25 \\ \times 25 \\ \hline \square\square\square \\ + \square\square \\ \hline \end{array}$$

$$\begin{array}{r} 17 \\ \times 46 \\ \hline \square\square\square \\ + \square\square \\ \hline \end{array}$$

$$\begin{array}{r} 32 \\ \times 18 \\ \hline \square\square\square \\ + \square\square \\ \hline \end{array}$$

$$\begin{array}{r} \square \\ 28 \mid 2 \\ - \square \\ \hline \end{array}$$

$$\begin{array}{r} \square \\ 61 \mid 7 \\ - \square \\ \hline \end{array}$$

$$\begin{array}{r} \square \\ 47 \mid 4 \\ - \square \\ \hline \end{array}$$

$$\begin{array}{r} \square \\ 77 \mid 2 \\ - \square \\ \hline \end{array}$$

Aşağıdaki bölme işlemlerini yapalım.

1 $80 \div 10 =$

2 $90 \div 10 =$

3 $70 \div 10 =$

4 $60 \div 10 =$

$$\begin{array}{r|l} 38 & 2 \\ \hline - & \end{array}$$

$$\begin{array}{r|l} 36 & 9 \\ \hline - & \end{array}$$

$$\begin{array}{r|l} 83 & 9 \\ \hline - & \end{array}$$

$$\begin{array}{r|l} 46 & 6 \\ \hline - & \end{array}$$

$$\begin{array}{r|l} 81 & 9 \\ \hline - & \end{array}$$

$$\begin{array}{r|l} 75 & 8 \\ \hline - & \end{array}$$

$$\begin{array}{r|l} 29 & 2 \\ \hline - & \end{array}$$

$$\begin{array}{r|l} 76 & 4 \\ \hline - & \end{array}$$

$$\begin{array}{r|l} 46 & 4 \\ \hline - & \end{array}$$

$$\begin{array}{r|l} 39 & 3 \\ \hline - & \end{array}$$

1 63 liraya 9 tane ekmek alınabildiğine göre bir ekmeğin fiyatı kaç liradır?

2 Bir fırıncı ekmeğin tanesini 5 liraya satmaktadır. Her gün eşit sayıda ekmek alan Ali bir haftada 70 lira ödediğine göre günlük kaç ekmek almıştır?

+

3 Her gün eşit sayıda soru çözen Elif 4 günde 92 soru çözmüştür. Buna göre Elif ilk üç günde kaç soru çözmüştür?

4 51 sayısının 4'e bölümünden kalan sayı ile 48 sayısının 3'e bölümünden kalan sayının çarpımı kaçtır?

5 Ferdi 3 kardeşine paylaşmak için iki paket bisküvi almıştır. Her pakette 24 tane bisküvi olduğuna göre her bir kardeş kaç tane bisküvi alır?

Etkinlik: Aşağıdaki problemleri çözünüz.

➤ 36 öğrenci her sıraya üçerli oturtulacaktır. Bunun için kaç sıra gerekir?

Çözüm:

➤ 65 elmayı 4 çocuğa eşit olarak paylaşırsak geriye kaç elma kalır?

Çözüm:

➤ 4 deste çilek, 7 tabağa eşit olarak paylaşılıyor. Geriye kaç çilek kalır?

Çözüm:

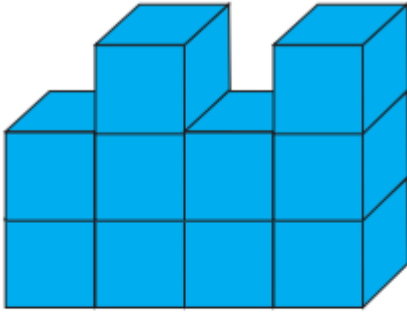
➤ Bir haftada 21 ekmek tüketen bir aile, 12 günde kaç ekmek tüketir?

Çözüm:

➤ Çantamda 3 düzine kalem vardır. Kalemlerimi 5 arkadaşıma eşit olarak dağıttım. Kaç kalemim kalır?

Çözüm:

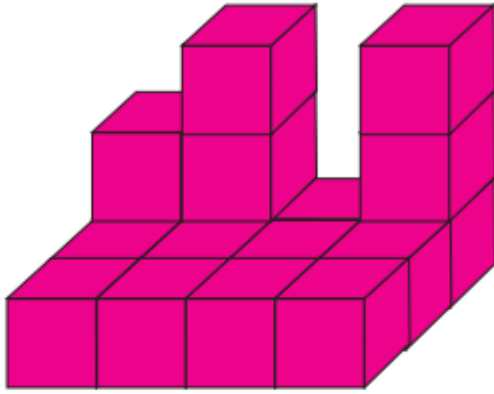
1.



Görselde kaç tane küp vardır?

- A.10 B.9 C.8

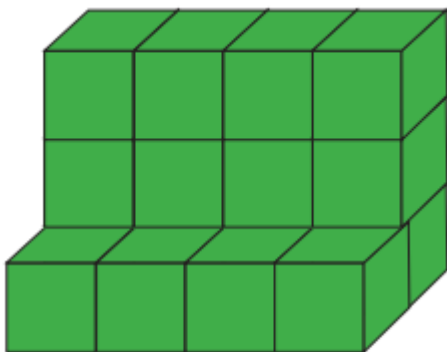
2.



Görselde kaç tane küp vardır?

- A.16 B.17 C.18

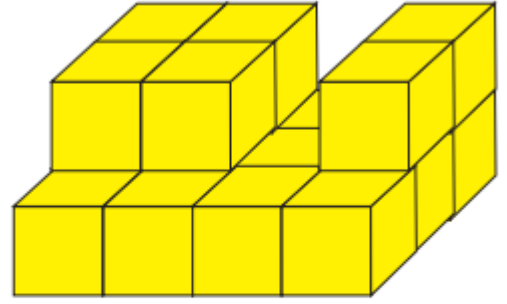
3.



Görselde kaç tane küp vardır?

- A.13 B.12 C.16

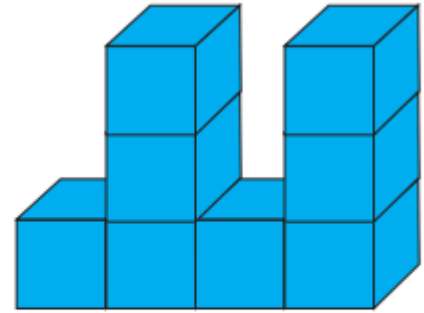
4.



Görselde kaç tane küp vardır?

- A.18 B.17 C.16

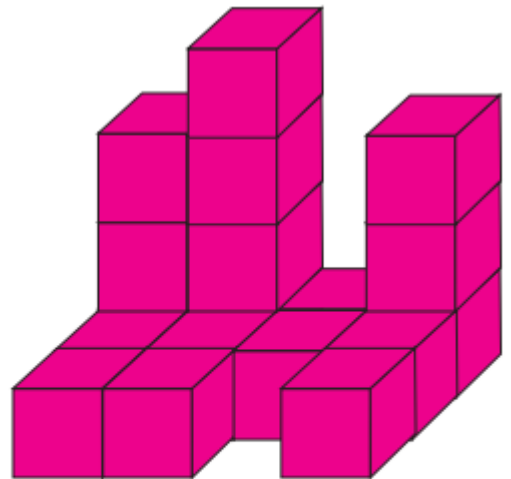
5.



Görselde kaç tane küp vardır?

- A.9 B.8 C.7

6.



Görselde kaç tane küp vardır?

- A.18 B.16 C.20

1.



Görsellerde boş bırakılan yerlere en uygun seçenek hangisidir?

A) happy / unhappy

B) energetic / tired

C) angry / tired

2.

A: Is it slow
B:



Boşluğa hangisi gelmelidir?

A) Yes, she is.

B) No, it isn't.

C) Yes, it is.

3.

A: Is she slim?
B:



Boşluğa hangisi gelmelidir?

A) Yes, she is.

B) No, she isn't

C) She is young.

4.



Görsele göre aşağıdakilerden hangisi söylenebilir?

A) He is strong.

B) He is fast

C) He is weak.

5.



Görseli ifade eden seçenek hangisidir?

A) Let's read

B) Let's walk

C) Let's sleep.