

Adı:  
Soyadı:



Matematik Çalışma Kağıdı  
Problemler

Tarih  
...../...../2023

1) Yandaki sayının 288 fazlası kaçtır?

İşlem:

Sayı : □□□

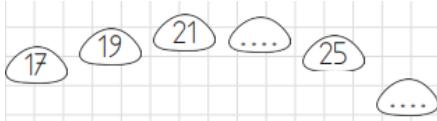
2) Aşağıdaki E – K sayılarını bulunuz.

756

en yakın onluk → E

en yakın yüzlük → K

3) Noktalı yere hangi sayılar gelmelidir?



Cevap: □□□ - □□□



4) Ağaçların her birinde 9 kuş yuvası vardır. Buna göre ağaçlarda kaç kuş vardır?

İşlem:

5) Aşağıda B yerine gelecek sayının 13 eksiği kaçtır?

18

6'sar

□□□□ B.

İşlem:

6) Armut 8 sayısını ifade ediyor. Buna göre toplam kaç armut vardır?

8

İşlem:

82R

7) Yukarıdaki sayı rakamları farklı en büyük üç basamaklı bir çift sayıdır. Bu sayının rakamları toplamı kaçtır?

İşlem:

$$VIII + IV = \dots\dots$$

8) Romen rakamları ile yapılmış olan toplama işleminin sonucu kaçtır?

İşlem:

9) Arda aşağıdaki işlemin sonucunu kaç bulmuştur?



4 yüzlük + 6 onluk + 8 birlik

+ 5 birlik

... yüzlük + ... onluk + ... birlik

İşlem:

10) Aşağıda verilmeyen rakamı bulunuz.

$$\begin{array}{r} \triangle 75 \\ + \quad 62 \\ \hline 837 \end{array}$$

" $\triangle$ " rakamı kaçtır?

11) Aşağıdaki işlemin tahmini sonucu kaçtır?





$$468 - 73$$

İşlem:

Adı:  
Soyadı:

Matematik Çalışma Kağıdı  
Problemler

Tarih  
...../...../2023

Hayvanlar	Hayvanların Sayısı
Kedi	
Köpek	
Kuzu	
Ördek	

Not: Her resim 3 hayvanı göstermektedir.

12) Köpek ile ördeklerin toplamı kaçtır?

İşlem:

13) Farkları 9 olan hayvanlar hangileridir?

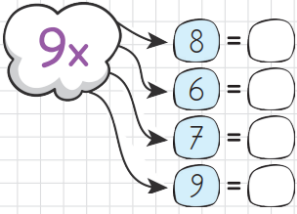
İşlem:



14) Yukarıda ağaçlar arası mesafe eşit ve 36 metredir. Buna göre ilk ağaç ile son ağaç arasındaki mesafe kaç metredir?

İşlem:

15) Serdar aşağıdaki çarpma işlemini tamamlamak istemektedir. Serdar'a yardımcı olalım mı ?



16) Aşağıdaki verilmeyen toplananı bulurken Özgü'ye yardımcı olalım işlemi tamamlayalım.



$$87 + \dots = 140$$

İşlem:

Tablo: Spor Kursları Çetele Tablosu

Spor Dalı	Kursiyer Sayısı
Basketbol	
Futbol	
Voleybol	
Voleybol	
Hentbol	

17) En fazla katılım hangi kura olmuştur?

İşlem:

18) Yüzme kursuna katılanlar hentbola katılanlardan kaç fazladır?

İşlem:



19) Her sepette 20 yumurta vardır. Her sepetten 4 yumurta kırılmıştır. Sepetlerde toplam kaç yumurta kalmıştır?

İşlem:

20) Aşağıdaki işlemlerden hangisi ;  
" Hangi sayının 17 fazlası 40'tır " ifadesinin matematik cümlesidir?

- A.  $\square - 17 = 40$   
B.  $40 - \square = 17$   
C.  $\square + 17 = 40$

Sorular **beşer** puandır. Dikkatli oku.  
Sınavda başarılar dilerim. Sınav süresi **60** dakikadır.

ENES SERT  
3/A SINIF ÖĞRETMENİ

