

Aşağıdaki çarpma işlemlerini yapınız.

$4 \times 5 = \underline{\quad}$

$? \quad 5 \times 2 = \underline{\quad}$

$? \quad 4 \times 6 = \underline{\quad}$

$? \quad 3 \times 4 = \underline{\quad}$

$4 \times 8 = \underline{\quad}$

$? \quad 3 \times 7 = \underline{\quad}$

$? \quad 3 \times 6 = \underline{\quad}$

$? \quad 3 \times 2 = \underline{\quad}$

$3 \times 3 = \underline{\quad}$

$? \quad 4 \times 2 = \underline{\quad}$

$? \quad 5 \times 3 = \underline{\quad}$

$? \quad 5 \times 7 = \underline{\quad}$

$$\begin{array}{r} 7 \\ \times 4 \\ \hline \end{array}$$

?

$$\begin{array}{r} 8 \\ \times 3 \\ \hline \end{array}$$

?

$$\begin{array}{r} 9 \\ \times 2 \\ \hline \end{array}$$

?

$$\begin{array}{r} 5 \\ \times 3 \\ \hline \end{array}$$

?

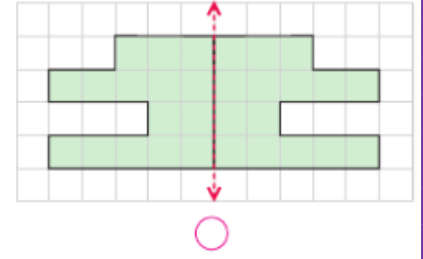
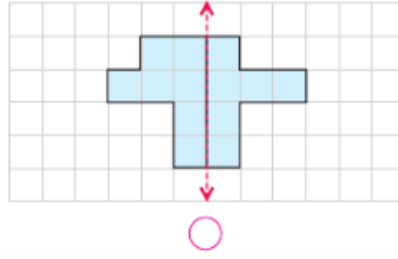
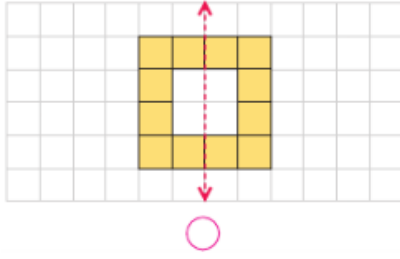
$$\begin{array}{r} 4 \\ \times 4 \\ \hline \end{array}$$

?

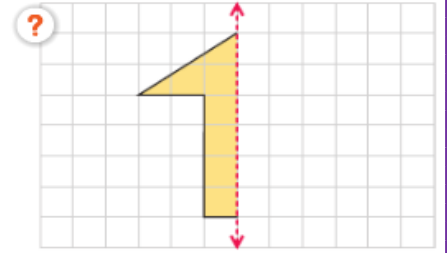
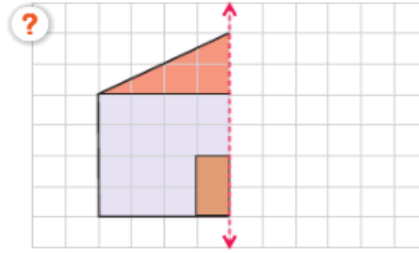
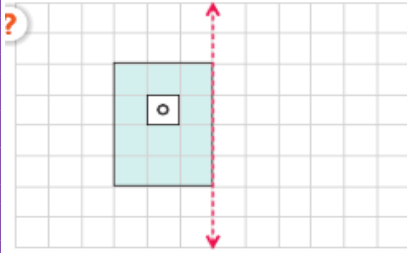
$$\begin{array}{r} 3 \\ \times 3 \\ \hline \end{array}$$

## Simetri

Aşağıdaki şekillerden simetrik olanları işaretleyiniz.



Aşağıdaki şekillerin doğruya göre simetriklerini çiziniz.



## Geometrik Örüntüler

Örüntülerde eksik bırakılan şekilleri çiziniz.



Aşağıdaki taşıtları, kullanıcı adlarıyla eşleştiriniz.



Şoför



Makinist



Vatman



Pilot

Kaptan



Aşağıdaki taşıtları türlerine göre eşleştiriniz.



Kara  
Taşıtları



Hava  
Taşıtları



Deniz  
Taşıtları



Demiryolu  
Taşıtları



## Doğal Sayılarla Çarpma İşlemi

Gruplardaki nesnelerin sayılarını örnekteki gibi bulunuz.



$$4 + 4 + 4 = 12$$

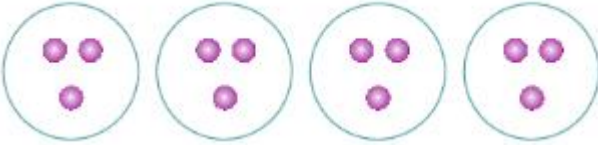
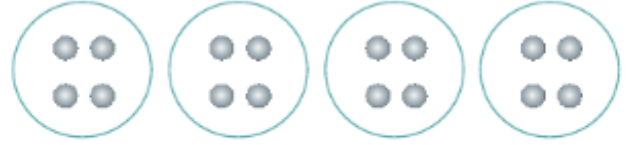
$$3 \times 4 = 12$$



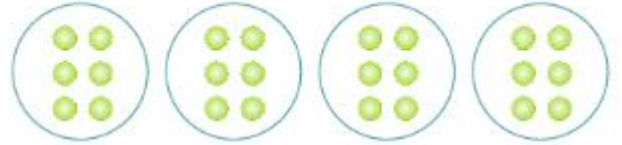
?



?



?



Aşağıdaki toplama işlemlerini, çarpma işlemi şeklinde yazınız.

$$2 + 2 + 2 + 2 = 8$$

$$4 \times 2 = 8$$

?

$$4 + 4 + 4 + 4 = \underline{\quad}$$

$$\underline{\quad} \times \underline{\quad} = \underline{\quad}$$

$$3 + 3 + 3 + 3 + 3 + 3 = \underline{\quad}$$

$$\underline{\quad} \times \underline{\quad} = \underline{\quad}$$

?

$$5 + 5 + 5 + 5 = \underline{\quad}$$

$$\underline{\quad} \times \underline{\quad} = \underline{\quad}$$

$$2 + 2 + 2 + 2 + 2 + 2 = \underline{\quad}$$

$$\underline{\quad} \times \underline{\quad} = \underline{\quad}$$

?

$$4 + 4 + 4 + 4 + 4 = \underline{\quad}$$

$$\underline{\quad} \times \underline{\quad} = \underline{\quad}$$

Sonuçları aynı olan işlemleri eşleştiriniz.

$2 + 2 + 2 + 2 + 2$

$3 \times 2$

$2 + 2 + 2 + 2$

$4 \times 3$

$2 + 2 + 2$

$5 \times 2$

$3 + 3 + 3 + 3$

$3 \times 4$

$4 \times 2$

$4 + 4 + 4$

$5 \times 3$

$3 + 3 + 3 + 3 + 3$

Acil durumlarda aramamız gerekenleri telefon numaraları ile eşleştiriniz.

Jandarma

155

Sosyal Destek Hattı



156



İtfaiye

110

Ambulans



112



AFAD

122

Polis İmdat



183





## Güvenli Yolculuk

Aşağıdaki cümlelerden doğru olanlarında D, yanlış olanlarında Y harfini işaretleyiniz. İşaretlediğiniz harfleri sırasıyla yazarak şifreli sözü bulunuz.

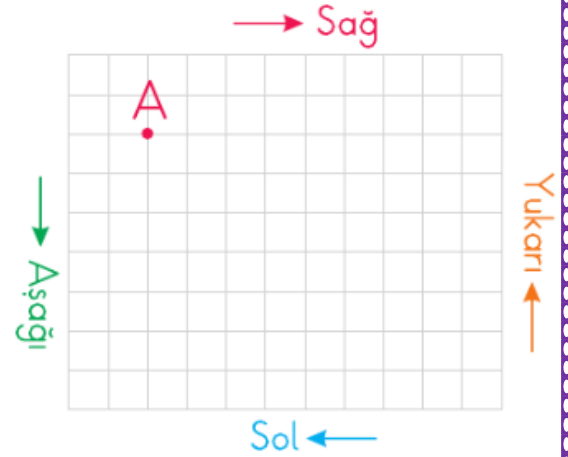
D	Y	Cümleler
G	Y	Araçla yolculuk yaparken emniyet kemerini takmalıyız.
O	Ü	Araçlarla yolculuk yaparken telefonla konuşabiliriz.
L	V	Serviste yolculuk yaparken şoförle konuşabiliriz.
E	C	Araç içerisinde sakın bir şekilde yolculuk etmeliyiz.
U	N	Üstü açık araçlarla yolculuk daha güvenlidir.
L	F	Küçük çocuklar arka koltukta oturmalıdır.
İ	Ü	Taşıt içerisinde kabuklu yiyecekler yememeliyiz.
K	R	Hareket hâlindeki taşıtın içerisinde ayakta durmamalıyız.

? **Şifreli Söz:**

## Yer, Yön, Hareket

Kareli zeminde verilen A noktasından başlayınız. Komutları izleyerek bir şekil oluşturunuz.

- a. 3 birim sağa      ç. 1 birim aşağıya  
b. 2 birim aşağıya      d. 5 birim sola  
c. 2 birim sağa      e. 3 birim yukarı



Görsellerdeki kişilerin mesleklerini yazınız.



?



?

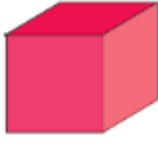


?

Aşağıdaki geometrik cisimlerin adlarını yazınız.



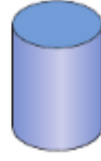
?



?



?



?



?



Aşağıdaki nesnelere benzedikleri geometrik cismin adıyla eşleştiriniz.



Küp

Kare prizma



Dikdörtgenler  
prizması



Üçgen prizma



Silindir



Küre

Aşağıda bir bölümü verilen öykü nasıl devam edebilir? İşaretleyiniz.

### SAHİLDEKİ DENİZYILDIZLARI

Çocuk, sahile vuran denizyıldızlarını tekrar denize atıyordu. Onu gören yaşlı bir adam, ne yaptığını sordu. Çocuk:

— Dün gece fırtına vardı. Dalgalar, denizyıldızlarını karaya savurmuş. Onları kurtarmak için denize atıyorum.

Yaşlı adam gülümseyerek:


— Sahil uzun, denizyıldızları ise sayısız denecek kadar çok. Birkaç tanesini kurtarsan ne fark edecek.

Çocuk, denize bıraktığı bir denizyıldızını işaret ederek ...

- Haklısınız denizyıldızlarını kurtaramadık.
- Bunun için çok şey fark edecek.
- Denizyıldızlarının sayısı çok fazladır.

## Bayrađımız ve İstiklâl Marşı'mız

Bayrađımızı renklerine uygun olarak boyayınız.



Aşağıdaki ifadelerde boş bırakılan yerleri verilenlerden uygun olanı ile tamamlayınız.

**bağımsızlık**

**İstiklâl Marşı**

**kırmızı**

**Mehmet Akif Ersoy**

- Bayrađımızın rengi \_\_\_\_\_ ve beyazdır.
- Bayrađımız ve marşıımız \_\_\_\_\_ sembolümüzdür.
- Ülkemizin millî marşı \_\_\_\_\_'dir.
- Millî marşıımızın yazarı \_\_\_\_\_'dur.

Aşağıda İstiklâl Marşı'mızın son bölümü verilmiştir. Boş bırakılan yerleri tamamlayınız.

- ⓪ Dalgalan sen de \_\_\_\_\_ gibi ey şanlı hilal!
- ⓪ Olsun artık \_\_\_\_\_ kanlarımın hepsi helal.
- ⓪ Ebediyen \_\_\_\_\_ yok, ırkıma yok izmihlal:
- ⓪ Hakkıdır, hür yaşamış, bayrađımın \_\_\_\_\_ ;
- ⓪ Hakkıdır, Hakk'a \_\_\_\_\_ , milletimin istiklal!



Aşağıda İstiklâl Marşı'mızın ilk iki kıtasındaki dizeler eksik yazılmıştır. Eksik olan kısımlarını tamamlayınız.

- ? Korkma, sönmez bu şafaklarda \_\_\_\_\_ al sancak;  
? Sönmeden \_\_\_\_\_ üstünde tüten en son ocak.  
? O benim milletimin yıldızıdır, \_\_\_\_\_;  
? O benimdir, o \_\_\_\_\_ milletimindir ancak.  
? Çatma, \_\_\_\_\_ olayım, çehreni ey nazlı hilal!  
? Kahraman ırkıma bir gül! Ne bu \_\_\_\_\_ bu celal?  
? Sana olmaz \_\_\_\_\_ kanlarımız sonra helal...  
? Hakkıdır, Hakk'a tapan, \_\_\_\_\_ istiklal!

### Oku - Anla - Yorumlama

Aşağıdaki metni okuyarak, soruları yanıtlayınız.

### BİZ UYURKEN

Bazı insanlar var ki çoğumuzun uyuduğu saatlerde yani geceleri çalışır. Gece çalışmak zor olsa da bazı durumlarda gereklidir. Her gün ve her saat çalışanların bulunduğu iş yerleri vardır. Böyle yerlerde genellikle bir gün belirli saatlere ayrılarak "vardiya" adı verilen çalışma bölümleri oluşturulur. Her vardiyada farklı kişiler çalışır. Gece çalışanlar genellikle ertesi gün dinlenirler.

Bilim Çocuk Dergisi



Metnin ana düşüncesini işaretleyiniz.

- Bazı insanlar 24 saat çalışır.  
 Bazı durumlarda iş yerleri 24 saat çalışır.  
 Bazı fabrikalar sadece gece çalışır.