




Adı Soyadı :

Ödev Kontrol :



Parçayı sesli ve sessiz 3 defa oku

Pazartesi ve cuma günleri okuldaki en sevdiğim günlerdir. Pazartesi günü derse girmeden hepimiz sıraya gireriz. Türk bayrağının önünde hazır olda dururuz. İstiklâl Marşımızı coşkuyla söyleriz. Cuma günleri de okuldan ayrılmadan önce bayrak töreni yaparız.



1. Yazarın okuldaki en sevdiği günler **hangileri**ymiş?
.....
2. Pazartesi günü öğrenciler derse girmeden **ne** yapıyorlarmış?
.....
3. Cuma günleri öğrenciler okuldan ayrılmadan önce **ne** yapıyorlarmış?
.....
4. Öğrenciler **nerede** hazır olda duruyorlarmış?
.....
5. İstiklâl Marşımızı **nasıl** söylüyorlarmış?
.....

Metni okuyalım.



Ülkemizin adı Türkiye Cumhuriyeti'dir. Başkentimiz Ankara'dır. Bayrağımızın adı Türk bayrağı, millî marşımız İstiklâl Marşı'dır. Bayrağımıza ve İstiklâl Marşımıza saygı duyarız. Ülkemizi çok severiz.

Soruları okuyalım, cevapların yazılı olduğu kutucukları boyayalım.

? Ülkemizin adı nedir?

Türkçe

Türkiye Cumhuriyeti

? Başkentimiz neresidir?

Ankara

İstanbul

? Millî marşımızın adı nedir?

Türk Marşı

İstiklâl Marşı

? Bayrağımızın adı nedir?

Kırmızı bayrak


Türk bayrağı

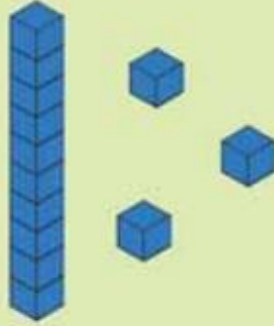



Aşağıdaki tablolarda verilen boşlukları dolduralım.


	
ONLUK	BİRLİK

	
ONLUK	BİRLİK

	ONLUK	BİRLİK
	1	5
	15	

	ONLUK	BİRLİK

	ONLUK	BİRLİK

	ONLUK	BİRLİK

Aşağıdaki toplama işlemlerini yapalım.

1	2
+	4
<hr/>	
	6
+	

2	5
+	3
<hr/>	

3	8
+	8
<hr/>	

4	1
+	1
<hr/>	

5	9
+	6
<hr/>	

6	6
+	7
<hr/>	

Sayıları aşağıya doğru toplayarak görsellere karşılık gelen sayıyı bulalım. Görsellerin altındaki kutucuğa sayıları yazalım.

$2 + 6 + 1$

+



$6 + 2 + 3$

+



$9 + 0 + 5$

+



$2 + 7 + 1$

+



Aşağıdaki toplama işlemlerini yapalım.

$$\begin{array}{r} 12 \\ + 3 \\ \hline 15 \end{array}$$

$$\begin{array}{r} 14 \\ + 4 \\ \hline \end{array}$$

$$\begin{array}{r} 18 \\ + 2 \\ \hline \end{array}$$

$$\begin{array}{r} 12 \\ + 5 \\ \hline \end{array}$$

$$\begin{array}{r} 11 \\ + 6 \\ \hline \end{array}$$

$$\begin{array}{r} 14 \\ + 5 \\ \hline \end{array}$$

$$\begin{array}{r} 16 \\ + 1 \\ \hline \end{array}$$

$$\begin{array}{r} 15 \\ + 3 \\ \hline \end{array}$$

$$\begin{array}{r} 13 \\ + 6 \\ \hline \end{array}$$

$$\begin{array}{r} 10 \\ + 7 \\ \hline \end{array}$$

$$\begin{array}{r} 13 \\ + 4 \\ \hline \end{array}$$

$$\begin{array}{r} 18 \\ + 1 \\ \hline \end{array}$$

Aşağıdaki çıkarma işlemlerini yapalım.

$$\begin{array}{r} 4 \\ - 1 \\ \hline 3 \end{array}$$

$$\begin{array}{r} 8 \\ - 4 \\ \hline \end{array}$$

$$\begin{array}{r} 9 \\ - 6 \\ \hline \end{array}$$

$$\begin{array}{r} 2 \\ - 2 \\ \hline \end{array}$$

$$\begin{array}{r} 3 \\ - 2 \\ \hline \end{array}$$

$$\begin{array}{r} 5 \\ - 3 \\ \hline \end{array}$$

$$\begin{array}{r} 7 \\ - 5 \\ \hline \end{array}$$

$$\begin{array}{r} 6 \\ - 3 \\ \hline \end{array}$$

$$\begin{array}{r} 8 \\ - 2 \\ \hline \end{array}$$

$$\begin{array}{r} 9 \\ - 9 \\ \hline \end{array}$$

$$\begin{array}{r} 6 \\ - 0 \\ \hline \end{array}$$

$$\begin{array}{r} 9 \\ - 8 \\ \hline \end{array}$$

Problemleri çözelim.

1



Oyun parkında 6 çocuk vardı. Az sonra 3 çocuk daha geldi. Oyun parkında toplam kaç çocuk oldu?

2



Ali'nin 5 bilyesi vardı. Babası 4 bilye daha verdi. Ali'nin toplam kaç bilyesi oldu?

3



Ağaçta 7 kuş vardı. Biraz zaman geçince ağaca 5 kuş daha kondu. Ağaçta toplam kaç kuş olmuştur?

4



Sevim teyzenin dün 5 çiçeği soldu. Bugün ise 13 çiçeği soldu. Acaba Sevim teyzenin iki günde toplam kaç çiçeği solmuştur?