

ADI SOYADI: ..... TÜRKÇE



İstanbul'da öğretmen olan halam, yaz tatilinde Bursa'ya geldi. Halam ve kuzenlerimle birlikte Uludağ'a gitmeye karar verdik. Sabah erkenden kalkıp, hazırlıklarımızı yaptık. Uludağ'a varınca kahvaltımızı

yaptık. Sonra kuzenlerimle hamağı kurduk. Hep beraber oyunlar oynayarak, sallanarak çok eğlendik.

Gitmeye yakın acıkınca, annem bana kurabiye verdi. Kurabiyeleri yerken bir köpeğin üzerime geldiğini görünce çok korktum. Heyecandan elimdeki kurabiyeleri düşürdüm. Köpek, elimden düşen kurabiyeleri yemeye başladı. Yedikten sonra etrafımda şirinlikler yapmaya başladı. O zaman anladım ki saldırmak için değil, karnını doyurmak için yanıma geliyormuş.

Kübra ERTEM

(İlk üç soruyu metne göre cevaplandırınız.)

1-Uludağ'a ne zaman gitmişler?

- A) sabah erkenden B) hafta sonunda  
C) İstanbul'dan gelince

2-Aşağıdakilerden hangisi kuzenlerle beraber Uludağ'da yapılmamıştır?

- A) Hamak kurup, sallanmışlar.  
B) Uludağ'ı her yerini gezmişler.  
C) Oyunlar oynamışlar.

3-Köpek neden üzerlerine doğru yürümüştü?

- A) Sevindirmek için yürümüştü.  
B) Korkutmak için yürümüştü.  
C) Yemek yemek için yürümüştü.

4-Zehra'nın elinde tuttuğu kağıtta yazılan kelimeler için aşağıdakilerden hangisi doğrudur?

- A) zıt anlamlı kelimeler  
B) eş anlamlı kelimeler  
C) anlamı olmayan kelimeler



5-Benim adımları geçen sene öğrenmiştim ama adımları rahat söyleyemediğim için pek sevmezdim. Bu yüzden arkadaşım A harfi kadar ünlü değilim. Yani ben ünsüzüm... Alfabemizde benim gibi kaç tane ünsüz harf olduğunu söyler misiniz?

- A)21 B)25 C)18

6-Aşağıdaki cümlelerin hangisinde kelime sayısı en azdır?

- A) Akralalık ilişkilerinde vefa, dayanışma olmalı.  
B) Yeni arkadaşımız Zeynep geldi.  
C) Anlamak için her zaman dikkatli dinlemeli.

saat	silgi	.....	sözcük
------	-------	-------	--------

7-Yukarıdaki kelimeler alfabetik sıraya göre sıralandığına göre noktalı yere aşağıdaki kelimelerden hangisi gelebilir?

- A)ses B)soru C) sucuk

8-Aşağıdaki kelimelerden hangisinin hece sayısı doğru verilmiştir?

- A) aile 3 B) dört 4 C) plan 3

9-Aşağıdaki kelime çiftlerinden hangisi, anlam ilişkisi yönünden diğerlerinden farklıdır?

- A) kuzey - güney B) giysi - kıyafet  
C) gülünç - komik



10- Aşağıdaki cümlelerden hangisi soru cümlesidir?

- A) Ne yaptığından haberim yok  
B) Ne zaman geleceğini söylemedi  
C) Yağız'ın nereye gittiğini gören var mı

11-Aşağıdaki kelimelerden hangisi yanlış yazılmıştır?

- A) traktör B) öğretmen C) sovak

12-Aşağıdaki cümlelerin hangisinde eş anlamlı kelimeler bir arada kullanılmamıştır?

- A) Yaşlı veya ihtiyar ayrımı yapmadan yardımcı olmalıyız.  
B) Babamın maçtan dolayı öfkeli duruşu annemi sinirlendirdi.  
C) Sabah okulda, akşam evde olmak beni mutlu ediyor.

13-Aşağıdaki cümlelerin hangisinde anlamı olmayan bir sözcük vardır?

- A) Mete, hasta olunca okula gelemedi  
B) Yağmur yağında bedene çıkamadık.  
C) İyi şarkı söyleyemez fakat sporda çok iyi.



Bir kardeşi olacağını bilen Güneş, merakla o günü bekliyordu. Çünkü ailenin tek çocuğu olarak, ablanın hangi anlama geldiğini bilmiyordu. Beklenen gün geldi. Küçük beyefendi doğdu. Kardeşi eve geldiği zaman ablalığın, her şeyi paylaşmak anlamına geldiğini anlamış. Her şeyi paylaşmak güzelde, biri hariç...

14-Yukarıdaki metnin başlığı aşağıdakilerden hangisi **olamaz**?

- A) Güneş Abla      B)Güneş'in Kardeşi  
C) Kıskaç Abla

- 1-Annesini gelmeyince tek başına eve gitti.  
2-Ömer, zil çalınca çantasını topladı.  
3-Annesi Ömer'i bulamayınca çok telaşlandı.  
4-Okulun kapısında annesini bekledi.

15-Yukarıdaki ifadeler, olayların oluş sırasına göre sıralaması aşağıdakilerden hangisidir?

- A)1-3-2-4      B)3-2-1-4      C)2-4-1-3

## MATEMATİK

5 onluk + 7 birlik

+ 2 onluk + 3 birlik

1-Yukarıda verilen toplama işleminin sonucu kaçtır?

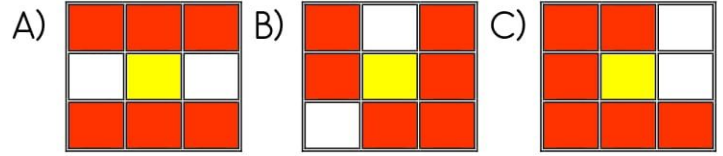
- A) 88      B)80      C) 79

2-Ağaçtan topladığımız elmaların, 45 kg sattık. Geriye 36 kg kaldığına göre ağaçtan topladığımız elma miktarı kaç kg'dır?

- A)75  
B)81  
C)66

56	62	64
54	60	66
63	59	58

3-Tabloda bulunan sayılardan 60'a yuvarlanabilen sayılar boyandığı zaman aşağıdaki şekillerden hangisi ortaya çıkmaktadır?



4-Görseldeki kelebeklerin sayısı ile ilgili aşağıdaki ifadelerden hangisi **yanlıştır**?

- A)Dört kelebek daha gelirse bir deste eder.  
B)Altı kelebek daha eklenirse 2 deste eder.

C) Kelebeklerden 2 tanesi giderse bir düzinesi kalır.

5- Aşağıdaki sayılardan hangisinin basamak değerleri doğru gösterilmiştir?

- A) B) C)

6-Ayaz özet çalışmalarında, sırasıyla 95, 88, 75 ve 96 puan almıştır. Ayaz'ın özet çalışmalarından aldığı puanların küçükten büyüğe doğru sıralaması hangi seçenekte verilmiştir?


- A) 95-96-88-75      B) 75-96-95-88  
C) 75-88-95-96

$$28+12 = 60-A$$

12-Yukarıda eşitliği sağlayan A sayısı aşağıdakilerden hangisidir?

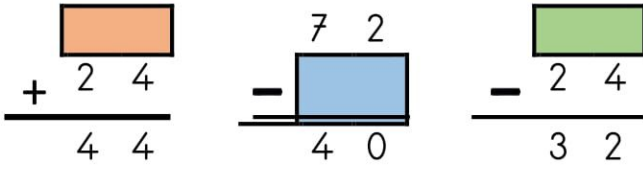
- A)30      B)20      C)40





7-Mira, tahtada zihinden toplama işlemini yapıyor. Yukarıdaki işleme göre aşağıdakilerden hangisini zihinden toplamıştır?

- A)  $62 + 35$                       B)  $41 + 28$   
C)  $38 + 42$



8-Yukarıdaki işlemlerde verilmeyen sayılar renklerine göre aşağıdakilerden hangisidir?

- A) 

20
56
32

      B) 

20
32
56

      C) 

32
20
56



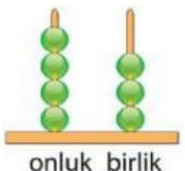
9-Otobüse birinci durakta 22 yolcu bindi. İkinci durakta ise 12 yolcu binip 14'ü indi. Otobüs duraktan hareket edince kaç yolcusu vardı?

- A)50  
B)45  
C)20



10-Yanda onluk taban bloğuyla gösterilen sayıyla ilgili bilgilerden hangisi yanlıştır?

- A)3onluk 5 birlikten oluşmaktadır.  
B)Sayıdaki rakamların, basamak değerleri 3 ve 5'tir.  
C) Sayının okunuşu otuz beştir.



11-Aşağıdaki sayılardan hangisi modelle gösterilen sayıdan küçüktür?  
A)70                      B)62                      C)35

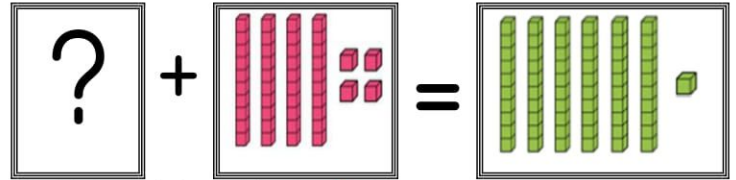


13-Ben kardeşimden 10 yaş büyüğüm. Ben 18 yaşında olduğuma göre benle kardeşimin yaşları toplamı kaçtır?

- A)22  
B)24  
C)26

14-Babam bayramda 35 TL, annemde 25 TL harçlık verdi. Harçlığımın 34 TL'sini harcıyınca geriye kaç TL kalmıştır?

- A)30  
B)26  
C)20



15-Yukarıdaki tabloda ? ile gösterilen yere aşağıdaki sayılardan hangisi gelmelidir?

- A)17  
B)21  
C)36

### HAYAT BİLGİSİ

Yıldırım Ailesi		Taş Ailesi	
su	60TL	su	60TL
elektrik	60TL	elektrik	70TL
doğalgaz	75TL	doğalgaz	100TL

Aslan Ailesi	
su	80TL
elektrik	90TL
doğalgaz	95TL

1-Yukarıda üç farklı ailenin bir ayda harcadıkları kaynakların tutarları gösterilmektedir.

Buna göre hangi aile daha tasarrufludur?

- A)Yıldırım Ailesi                      B)Çiçek Ailesi  
C)Aslan Ailesi

2-Sınıftaki bazı arkadaşımızla birlikte yaptığımız çalışmaya ne denir?

- A) Grup çalışması B) kalabalık çalışması  
C) mahalle çalışması



3-Yukarıdaki çocuklara bakarak hangi özelliklerinin aynı olduğunu söyleyebiliriz?

- A) cinsiyetleri B) bilgileri C) yetenekleri



Ara tatilde amcam ve dayımın çocuklarıyla bir araya gelip, gezdik, eğlendik.

4-Annem ve babamın kardeş çocukları bizim neyiz olur?

- A) yeğen B) kuzen C) arkadaş

Yatağımı düzeltmek annemin görevidir.  
Evde işbölümü yeteneklere göre yapılmalı.  
Çocuklar bazı işleri yapabilir.

Anneler bütün işleri çok rahat yapar.

5-Yukarıdaki ifadeleri doğru (D) ve yanlış (Y) olarak işaretlediğimizde tablo nasıl oluşur?

- A) Y D Y Y  
D D D Y  
Y D Y D  
Y D Y D

İsteklerimize öncelik vermeliyiz.



Taha

Barınma, giyinme, ihtiyaçtır.



Berra

Dondurma, oyuncak, ihtiyaçtır.



Miraç

6-Yukarıdaki öğrencilerden hangisinin ifadesi doğrudur?

- A) Taha B) Berra C) Miraç

7-Aşağıdakilerden hangisi duyarlı bir davranış ifade **etmez**?

- A) Yaşlılara yardım etmemeye özen göstermeliyiz.  
B) Otobüste hamilelere yer vermeliyim.  
C) Komşumuz yardıma ihtiyaç duyduğunda yardımcı olurum.

8-Adresim ile velimin telefon numarasını ezbere bilmenin faydalarından bahseden biri, aşağıdakilerden hangisini **söyleyemez**?

- A) Kaybolduğumda adresimi kolay bulmama yarar.  
B) İnternette tanıştıklarıma yerimi bildirmeye yarar.  
C) Güvenlik olayı olduğunda, polisler adresimi kolayca bulmalarını sağlar.

9-"Biz aile üyeleri olarak, birbirimizin fikirlerine saygı duyan bir aileyiz." diyen biri, aşağıdakilerden hangisi yapar?

- A) En büyüğümüz olan babam ne dese o olur.  
B) Annem ve babam, çocuklarının her düşüncesini kabul eder.  
C) Ailemizde her üyenin söz hakkı vardır.

görevini	ortak
mutlu	planlı

Sorumluluklarımızı yapmak bizi .....**1**..... eder.

Ailede herkes .....**2**..... yapmalıdır.

Evdeki kararları .....**3**..... almalıyız.

10-Yukarıdaki ifadelerde numaralı yerlere, tablodaki kelimelerden hangileri sırasıyla gelmelidir?

- |             |          |          |
|-------------|----------|----------|
| <b>1</b>    | <b>2</b> | <b>3</b> |
| A) mutlu    | görevini | ortak    |
| B) görevini | planlı   | görevini |
| C) ortak    | mutlu    | planlı   |