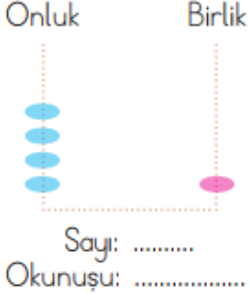





1- 2 onluk 6 birlik sayısının 4 fazlası kaçtır?



2- Yukarıdaki sayı abaküsündeki pulları sayıp sayıyı bulunuz.



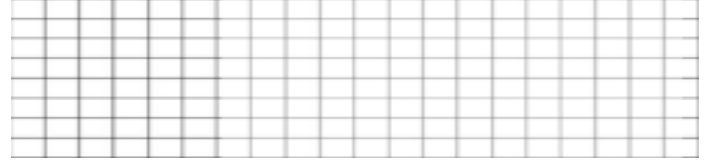
3- Canan '75' sayısını okuyamamıştır. Canana yardımcı olup yukarıdaki sayının okunuşunu yazar mısınız.



4- -----
Necati üçer ritmik sayarken yukarıdaki bulutları boş bırakmıştır. Bulutları doldurup Necati'ye yardım eder misin?



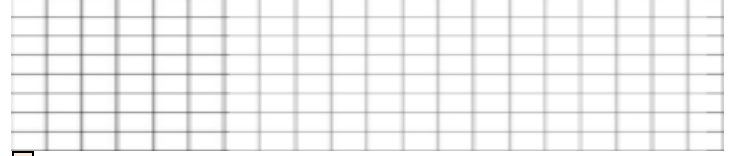
5- Aşağıda ritmik sayma yapılmıştır. Fakat iki renk yer değiştirilmelidir. Hangi iki renk yer değiştirirse sıralama doğru olur?



7-




Bu tavuklara kaç tavuk daha eklersek bir düzine olur?



8

20

sayısından başlayarak ileriye ikişer ritmik saydığımızda 6. Söyleyeceğimiz sayı kaçtır?



9- 10'dan başlayarak beşer ritmik sayma yaptığımızda aşağıdaki sayılardan hangisini söylemeyiz?

A)15

B)20

C) 24

10- Aşağıdaki sayının okunuşunu yaz ve basamak değerlerini gösteriniz.

