

ADI SOYADI:

TÜRKÇE

Sizlere çok sevdiğim anneannemin çocukluğuyla ilgili anılarından bahsetmek istiyorum.

Anneannem köyde bulduğu tahta parçalarıyla bebek yapar, bebeğin saçlarını rengarenk iplerle donatırdı. Yaptığı güzel bebekleri sevdiği arkadaşlarına hediye ederdi.

Yaptığı bebeklerle şakalar yaparak

hem ailesini hem de arkadaşlarını çok eğlendirirdi.

Bu yüzden köyde anneanneme, Bebekçi Hanım derlermiş. Köyde sevilen biri olması, onu çok mutlu edermiş. Ayrıca yemek yapmayı, çikolata kağıtlarıyla çerçeve yapmayı, bir şeyler üretmeyi de çok severdi. Bu yönüyle beni kendisine benzettiği için "Bana çekmişsin güzel kuzum." derdi.

Süveyda Hanım AKDAĞ

(İlk dört soruyu metne göre cevaplayınız.)

1-Anneanne, bebekleri hangi malzemeyle yaparmış?

- A) Tahta B) kumaş C) hamur

2- Anneanne, yaptığı oyuncak bebekleri ne yaparmış?

- A) Köye gelen turistlere satarmış.
B) Arkadaşlarına hediye edermiş.
C) Ailesine verirmiş.

3- Aşağıdakilerden hangisi metne göre anneannenin bir özelliği **değildir**?

- A) Kendi oyuncağını yapabiliyormuş.
B) Köyde sevilen iyi bir çocukmuş.
C) Evde iş yapmayı sevmiyormuş.

4- Aşağıdakilerden hangisi, metne uygun bir başlık olabilir?

- A) Bebekçi Hanım B) Anneannemin Köyü
C) Çalışkan Çocuk

S	cevap	konuk
L	siyah	yanıt
A	misafir	kara
İ	okul	mektep

5-Yukarıdaki eş anlamlı kelimeler, harfler kullanılarak doğru eşleştirildiğinde hangi kelime ortaya çıkar?

- A)ASLI B)SALI C)SILA

veya	aslan	çorba
ile	ve	fakat

6-Yukarıdaki kelimelerden kaç tanesi, tek başına anlamı olmadığı halde kelime olarak kabul edilmektedir?

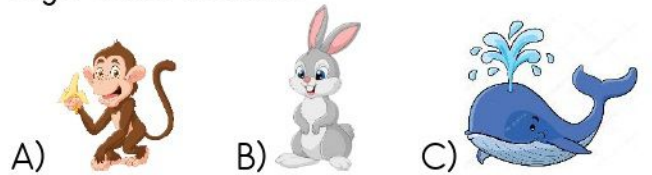
- A)2 B)4 C)6

- 1- Yatağımı düzeltip, kıyafetlerimi giydim.
- 2- Uyanınca elimi yüzümü yıkadım.
- 3- Çantamı hazırlayıp, kahvaltıya gittim.
- 4- Havluyla elimi ve yüzümü sildim.

7-Yukarıdaki ifadeler olayların oluş sırasına göre sıralaması aşağıdakilerden hangisidir?

- A)2-1-3-4 B)2-4-1-3 C)3-1-4-2

8-Aşağıdaki görsellerden hangisinin **ünlü** harf sayısı daha fazladır?



9-Aşağıdaki cümlelerden hangisinin hece sayısı farklıdır?

- A) Ali ile Miraç yeniden barıştılar.
B) Zehra ve Zahide konuşarak anlaştilar.
C) Başarılı olmak için çalışıyoruz.



- 10-Yandaki görselin anlamına göre aşağıdaki kelime çiftlerinden hangisini noktalı yere **yazamayız**?
- A) ağır-hafif
B) zayıf-şişman
C) tembel-çalışkan

11-"Arabayı hızlı kullanmamak gerekir."

- Yukarıdaki altı çizili kelimenin yerine hangi kelimeyi kullanabiliriz?
- A) kötü B) süratli C) özenli

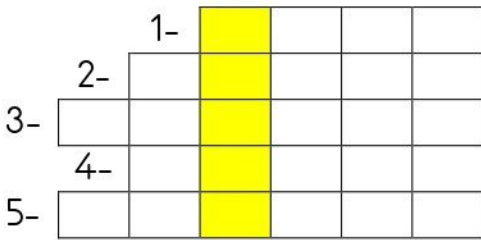
12-Hangisi anlamlı ve kurallı bir cümle **değildir**?

- A) Çantamdan çıkardım kitap ve defteri.
B) Başarılı öğrencilere hediye verdiler.
C) İsmail bu sıralar okula geç geliyor.

Duru:"Öğretmenim biz tekrardan Bursa'(...) ya geri dönüyoruz." dedi.

- 13-Yukarıdaki cümlede (...) yerine hangi noktalama işareti kullanılmalıdır?
- A) Nokta B) Satır çizgisi C) Kesme İşareti

1-cevap 2-küçük 3-açık 4-eski 5-güzel



- 14-Yukarıdaki kelimelerin zıt anlamı, bulmacadaki numaralara soldan sağa doğru yazılıyor. Buna göre renkli bölümde hangi kelime oluşmaktadır?
- A)SEVGİ B)SÜPER C)SAYGI


a l b k ı

- 15-Yukarıdaki harflerle, aşağıdaki kelimelerden hangisini oluşturabiliriz?
- A) balık B) kablo C) bakla

MATEMATİK

1Aşağıdaki ifadelerden hangisi **yanlıştır**?

- A) 35 büyüktür 42'den
B) 84 büyüktür 65'ten
C) 60 küçüktür 98'den



2-Tablodaki muzların toplam sayısı aşağıdakilerden hangisine eşit **değildir**?

- A) 2 deste + 1 düzine B) 3 düzine
C) 3 onluk + 6 birlik

83 kar-
tim var.

42 kar-
tim var.

70 kar-
tim var.

64 kar-
tim var.



3-Görseldeki ifadelerle göre spor kartlarını küçükten büyüğe doğru sıralaması nasıl olur?

- A) 83 - 64 - 42 - 70
B) 42 - 64 - 70 - 83
C) 64 - 70 - 83 - 42

4- Aşağıdaki örüntülerden hangisinin kuralı **farklıdır**?

- A) 6-9-12-15-18-21
B) 37-40-43-46-49
C) 36-33-30-27-24

$$\begin{array}{r} 50 + 20 = \blacksquare \\ 40 - 10 = \blacktriangle \end{array}$$

5- Yukarıdaki işlemlere göre $\blacktriangle + \blacksquare$ işleminin cevabı aşağıdakilerden hangisidir?

- A)60
B)100
C)80

6- $34 + 45 = 79$ işleminin zihinden yapılma aşamaları aşağıdakilerin hangisinde doğru gösterilmiştir?

A)
$$\begin{array}{r} 30 + 40 = 70 \\ 4 + 5 = + 9 \\ \hline 79 \end{array}$$
 B)
$$\begin{array}{r} 30 + 45 = 75 \\ 4 + 5 = + 9 \\ \hline 84 \end{array}$$

C)
$$\begin{array}{r} 34 + 40 = 74 \\ 5 + 4 = + 9 \\ \hline 83 \end{array}$$

7-Taha, annesine arkadaşları için börek yapmasını rica eder. Annesinin yaptığı 55 böreğin 34'ünü arkadaşlarına götürür. Geriye tahmini kaç tane börek kalır?

- A)30
B)50
C)40

8-Basamak değerleri karışık verilen sayılardan hangisinin okunuşu **yanlıştır**?

- A) 40 ve 4
Kırk dört
- B) 2 ve 70
Yirmi yedi
- C) 5 ve 50
Elli beş

9-Öğretmenim 40 dakikalık dersin 32 dakikasını anlattığına göre geriye kaç dakikalık dersi kalmıştır?

- A)6
B)8
C)10

10- 66 sayısının onluk ve birliklerini paralarla gösteren tablo aşağıdakilerden hangisidir?



11-Manavcı cumartesi 54 kg Pazar günü 38 kg meyve sattığına göre iki günde kaç kg meyve satmıştır?

- A)72
B)92
C)89

$$\begin{array}{r} 47 \\ + 32 \\ \hline \end{array}$$

$$\begin{array}{r} 64 \\ + 25 \\ \hline \end{array}$$

$$\begin{array}{r} 16 \\ + 53 \\ \hline \end{array}$$

12- Yukarıdaki işlemlerin sonuçlarını, büyükten küçüğe doğru sıralandığında, renklerin görünümü aşağıdakilerden hangisidir?

- A)  B)  C) 

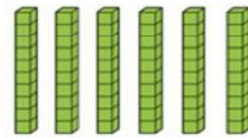
13- Onluğa yuvarlandığında 30 olan en küçük sayı aşağıdakilerden hangisidir?

- A) 25 B) 29 C) 33

62+15		
Gerçek Sonuç	Tahmini Sonuç	Fark
$\begin{array}{r} + \\ \hline \end{array}$	$\begin{array}{r} + \\ \hline \end{array}$	$\begin{array}{r} - \\ \hline \end{array}$

14-Tablodaki toplama işleminin gerçek ve tahmini sonuçlar arasındaki fark kaçtır?

- A) 1 B) 2 C) 3



15- Yandaki model sayısıyla ilgili aşağıdakilerden hangisi **yanlıştır**?

- A) Onlar basamağında 6 rakamı vardır.
B) Sayının okunuşu yetmiştir.
C) Birler basamağında 0 vardır.

HAYAT BİLGİSİ

1-Aşağıdakilerden hangisi tek başına yapabilirim?

- A) Okul kıyafetlerini ütülemek.
B) Çantamı hazırlamak.
C) Pazar alışverişini yapmak.

2-Aşağıdakilerden hangisi dinleme kurallarından **değildir**?

- A) Arkadaşım konuşurken tahtaya bakarım.
- B) Konuşmamı işitilebilir tonda yaparım.
- C) Konuşma bitmeden soru sormam.

1 Okul numarası	2 Sokak adı	3 Telefon numarası
4 Mahalle adı	5 Bina adı	6 Ev numarası

3-Ev adresini yazmak isteyen Ayşe, tablodaki kaç numaralı bilgileri alması gerekir?

- A) 1 3 5 6
- B) 2 3 4 6
- C) 4 2 5 6

4-Ödevlerini bitiren Emine, kitap ve defterlerini çantasına koydu.Ayrıca çalıştığı masayı da düzeltti. Metindeki Emine için ne söylenebilir?

- A) Vefalı biri
- B) Sorumluluk sahibi
- C)Ailesine bağlı

5-Aşağıdakilerden hangisi 2/H sınıfı öğrencilerinden İsmail'in görevi olabilir?

- A) Çamaşır makinesini tamir etmek.
- B) Patatesli börek yapmak.
- C) Kardeşine kitap okumak.

6-Aşağıdakilerden hangisi **yanlıştır**?

- A) Akrabalarımızın iyi günlerinde yanında olmak yeterlidir.
- B) Anne ve babamın kardeşlerinin çocukları, bizim kuzenimiz olur.
- C) Sevgi ve saygı, akrabalık bağlarımızın güçlenmesini sağlar.

7-Alışverişe çıkmadan önce ihtiyaç ve isteklerimizi bütçemize göre yapmamız gerektiğini söyleyen atasözü aşağıdakilerden hangisidir?

- A) Ne ekersen onu biçersin.
- B) Ayağını yorganına göre uzat.
- C) Ev alma komşu al.



8-Görseldeki resim için aşağıdakilerden hangisi söylenebilir?

- A) Yaşına göre tehlikeli bir iş yapıyor.
- B) 2.sınıf öğrencisinin yapabileceği sorumluluk.
- C) Yemek yaparak ailemize yardım edebiliriz.

9-Kübra, açık muslukları kapatan, boşa yanan lambaları söndüren bir öğrencidir. Kübra için aşağıdakilerden hangisi söylenebilir?

- A) Beslenmesine dikkat etmektedir.
- B) Kaynakları tasarruflu kullanmaktadır.
- C) Arkadaşları ile uyum içindedir.

Babaannemin kızı halam olur.
Dayımın eşine yenge derim.
Annemin ablası halam olur.
Babam teyzemin eniştesi olur.

10-Tabloda bulunan ifadelerden doğru olanlara paraf atan Ali, aşağıdaki tablolardan hangisini yapmıştır?

- A)

✓
✓
✓
- B)

✓
✓
✓
- C)

✓
✓
✓