

Adı:
Soyadı:

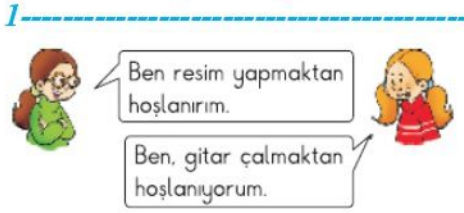


Hayat Bilgisi
Tema Değerlendirme



Tarih

Hayat Bilgisi



Yukarıdaki öğrencilerin söylediklerinden hangi sonuç **çıkartılamaz**?

- A. Arkadaşlarımızla özelliklerimiz benzemeyebilir.
- B. Bizimle aynı şeyleri yapmaktan hoşlanmayan arkadaşlarımızla anlaşamayız.
- C. Arkadaşlarımız arasındaki benzerlik ve farklılıklar doğaldır.

2-----

Güvenilir	Kararsız	Anlayışlı
Saygılı	Dürüst	Yardımsaver

Tabloda verilen özelliklerden kaç arkadaşlarımızda olmasını **istemediğimiz** özelliklerdir?

- A. 3
- B. 2
- C. 1

3-----

- İletişim becerisi
- Planlama
- Meraklı ve araştırmacı

Yukarıdakilerden kaç bir bireyde bulunması gereken güçlü yanlardır?

- A. 3
- B. 2
- C. 1

4-----

Okul	Hastane	Kütüphane	
Otobüs durağı	Eczane	Market	Tiyatro

Kütüphane okula göre hangi yöndedir?

- A. Doğusundadır.
- B. Batısındadır.
- C. Kuzeyindedir

5-----

Okul tarihçesi ile ilgili bilgi toplayan Emel, aşağıdaki sorulardan hangisine yanıt **aramaz**?

- A. Okuldaki öğretmen sayısı
- B. Okulun hangi yılda açıldığı
- C. Okulun adını nereden aldığı

6-----

Selin, matematik dersinde zorlandığı bir konuda Efe'den yardım aldı.

Bu durumda Selin'in Efe'ye hangisini söylemesi uygundur?

- A. Yardım edebilir miyim?
- B. Özür dilerim.
- C. Teşekkür ederim.

7-----

Emir, seçmek istediği meslek ile ilgili sahip olunması gereken aşağıdaki becerileri araştırıyor.

- I. Dil bilgisi
- II. Okuma alışkanlığı
- III. Yaratıcı düşünme

Buna göre Emir, hangi mesleği seçmek istemektedir?

- A. Mimar
- B. Yazar
- C. Pilot

8-----

Merdivenden düşmüş ve yerde yatan bir arkadaşımızı gördüğümüzde hangisini yapmak **yanlıştır**?

- A. Olay yerinden uzaklaşmak
- B. Yardım istemek için bağırarak
- C. En yakındaki bir yetişkine haber vermek

9-----

Aşağıdakilerden hangisi aile büyüklerimizin çocukken oyunlarda kullandığı araç gereçlerden **değildir**?



10-----

Aile büyüklerimizin çocukluğu ile ilgili bilgileri hangisinden öğreniriz?

- A. Gazetelerden
- B. Fotoğraf albümünden
- C. İnternet sitelerinden

11-----

- I. Muslukları Açık Bırakma!
- II. Lüzumsuzsa söndür!
- III. Terli iken su içme!

Yukarıdaki sloganlardan hangisi tasarrufla ilgili **değildir**?

- A. I
- B. II
- C. III

12-----

Sosyal ihtiyaçlar

Giyinme ihtiyaçları

Barınma ihtiyaçları

Hangi renk kutudaki diğerlerinden sonra karşılanmalıdır?

- A. Yeşil
- B. Mavi
- C. Kırmızı

13-----

Aile içerisinde yaşanan bir sorunu çözmek kimin görevidir?

- A. Annenin
- B. Babanın
- C. Aile bireylerinin

14-----

Aşağıdaki atasözlerinden hangisi tasarruf yapmayı öğütlemektedir?

- A. Bugünün işini yarına bırakma.
- B. Damlaya damlaya göl olur.
- C. İşleyen demir pas tutmaz.

15-----

Sağlıklı ve dengeli beslenmemizde aşağıdaki davranışlardan **en doğru** olanı hangisidir?

- A. Okul kantinindeki yiyeceklerle beslenme
- B. Açıkta satılan yiyeceklerle beslenme
- C. Annemizin hazırladığı yiyeceklerle beslenme

Hayat Bilgisi soruları bitmiştir.

Fen Bilimlerine geçiniz

Fen Bilimleri

1-----
Hareket hâlindeki bir uçak düz bir çizgide gidiyormuş gibi görünür.


Bunun sebebi aşağıdakilerden hangisi ile açıklanır?

- A. Dünya'nın şeklinin yuvarlak olması
- B. Dünya'nın şeklinin düz olması
- C. Uçakların çok yüksekte uçması

2-----
Deniz kenarında oturan bir kişi denizden karaya doğru gelen geminin ilk önce direğinin ucunu, daha sonra gövdesini görür.

Bunun nedeni aşağıdakilerden hangisi ile açıklanır?

- A. Dünya'nın üçgen şeklinde olduğu
- B. Dünya'nın küre şeklinde olduğu
- C. Dünya'nın silindirik şeklinde olduğu


3-----


Yukarıda verilen görsellerden kaç duyu organımızdır?

- A. 3
- B. 2
- C. 1

4-----
Sınıfın çok sıcak olduğunu söyleyen bir öğrenci hangi duyu organını kullanmıştır?

- A. Deri
- B. Kulak
- C. Burun

5-----


Görseldeki hareket türleri ile aşağıda verilenler eşleştirildiğinde hangisi dışarıda kalır?

- A. Hızlanma
- B. Sallanma
- C. Yavaşlama

6-----
Yandaki saatin sarkacının yaptığı hareket hangi seçenekte verilmiştir?



- A. Dönen
- B. Hızlanan
- C. Sallanan


7-----
I. Şeklini değiştirme
II. Yönünü değiştirme
III. Hızını değiştirme

Yukarıda verilenlerden hangileri kuvvetin cisimler üzerindeki etkilerindendir?

- A. I ve II
- B. II ve III
- C. I, II ve III

8-----
Aşağıdaki olaylardan hangisi hareketli cisimlerin sebep olduğu tehlikeli bir olaya örnek verilebilir?

- A. Çiğ düşmesi
- B. Kar yağması
- C. Yağmur yağması

9-----


Yukarıdaki kutuları gruplandırmak isteyen Özge kutuları hangi özelliğine göre ayırt eder?

- A. Sertlik
- B. Yumuşaklık
- C. Renk

10-----


Yukarıdaki maddelerden kaç tanesi sıvı maddelere örnektir?

- A. 1
- B. 2
- C. 3

11-----
_____ maddelerin belirli bir şekli varken _____ ve _____ maddelerin belirli bir şekli yoktur.

Yukarıdaki cümlede boş bırakılan yerlere sırasıyla hangileri yazılmalıdır?

- A. Gaz - sıvı - katı
- B. Sıvı - katı - gaz
- C. Katı - sıvı - gaz

12-----

Yukarıdaki maddelerin ortak özelliği hangi seçenekte verilmiştir?

- A. Esnek
- B. Kırılgan
- C. Sert

13-----
Aşağıdaki maddelerden hangisi görseldeki madde ile benzer özellik taşır?

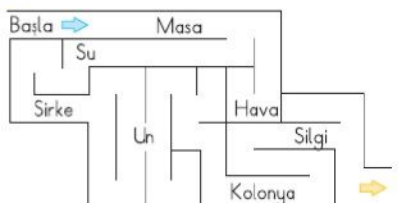


- A. Paket lastiği
- B. Tahta kaşık
- C. Ayna

14-----

Yukarıdaki maddelerin ortak özelliği hangisidir?

- A. Parlaklık
- B. Saydamlık
- C. Sertlik

15-----


Yukarıdaki labirentin başlangıç noktasından çıkış noktasına giden yol üzerinde kaç tane sıvı madde vardır?

- A. 1
- B. 2
- C. 3