

2. Sınıflar Haftalık Değerlendirme Sınavı-2

Adım ve Soyadım : D:..... Y:..... Puan:.....

1) Okula hazırlıklı gitmenin faydaları arasında aşağıdakilerden hangisi yer almaz?

- A) Derslerdeki başarımız artar.
- B) Derse her zaman hazırlıklı oluruz.
- C) Çantamız çok ağır olur.

2) Sınıf kurallarını belirleyecek olan aşağıdakilerden hangisidir?

- A) Tüm öğrenciler
- B) Veliler
- C) Hizmetliler

3) Aşağıdakilerden hangisi yanlış bir davranıştır?

- A) İlgi ve yetenekleri farklı olan kişiler arkadaş olabilir.
- B) Fiziksel engelli arkadaşlarımızla birlikte oynayacağımız oyunlar seçmeliyiz.
- C) Fiziksel ve kişisel özellikleri bizimle aynı olan kişilerle arkadaş olmalıyız.

4) Salı günü resim dersi olan Elif, çantasına aşağıdakilerden hangisini koymalıdır?

- A) Eşofman
- B) Boya kalemleri
- C) Abaküs

5) Aşağıdakilerden hangisi zamanla değişen fiziksel özelliklerimizden biridir?

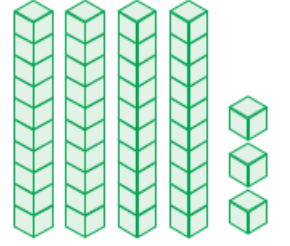
- A) Boyumuzun uzunluğu
- B) Göz rengimiz
- C) Ten rengimiz

6) Aşağıdaki davranışlardan hangisi okul kurallarına uymaz?

- A) Derslerde izin alarak konuşmak
- B) Koridorlarda koşmak
- C) Derse zamanında girmek

7) Yanda verilen sayı aşağıdakilerden hangisidir?

- A) 43
- B) 33
- C) 45



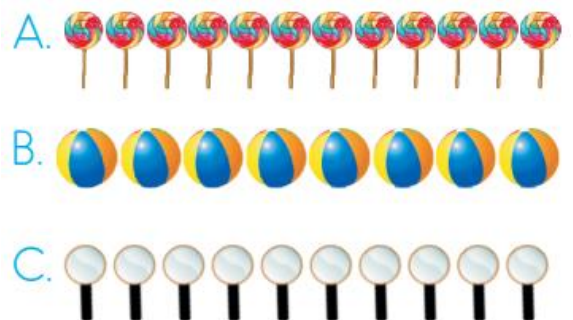
8) Aşağıdakilerden hangisi sayıca diğerlerinden daha fazladır?

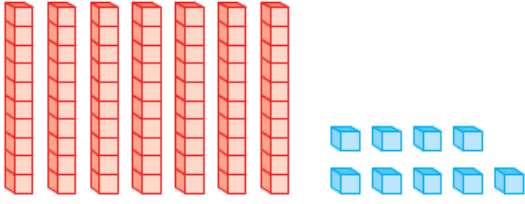


9) En büyük rakam ile en küçük rakam arasındaki fark kaçtır?

- A) 5
- B) 7
- C) 9

10) Aşağıdaki nesne gruplarından hangisi bir destedir?

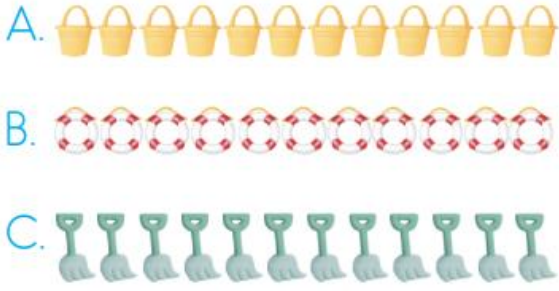




11) Onluk taban bloklarıyla modellenen sayıdan bir sonra gelen sayı kaçtır?

- A) 79 B) 80 C) 78

12) Nesne gruplarından hangisinin sayısı bir düzineden azdır?



13) 1 deste kaleme bir düzine kalem eklenirse kaç tane kalem olur?

- A) 22 B) 23 C) 20

14) Aşağıdakilerden hangisinin isminde daha çok harf vardır?



15) Aşağıdakilerden hangisinin adını yazdığımızda harfler alfabetik sıraya göre sıralanmış olur?



16) Aşağıdakilerden hangisinin adında diğerlerinde daha fazla ünlü harf vardır?



17) Görsellerde verilen hayvanların özellikleri dikkate alındığında noktalı yerlere sırayla aşağıdaki sözcük çiftlerinden hangisinin getirilmesi gerekir?

- A) uzun - kısa
B) büyük - küçük
C) hızlı - yavaş

18) Aşağıda verilen satır sonuna sığmayan kelimelerden hangisi **yanlış** ayrılmıştır?



19) Yandaki görsele göre aşağıdaki cümlelerden hangisi **kurulamaz**?

- A) Oyun oynamayı seviyorum.
B) Annem yemek yapıyor.
C) Ben, anneme yardım ediyorum.



20) Yandaki ağacın özelliklerini öğrenebilmek için hangi soruyu sormalıyız?

- A) Nerede?
B) Nasıl?
C) Neden?

