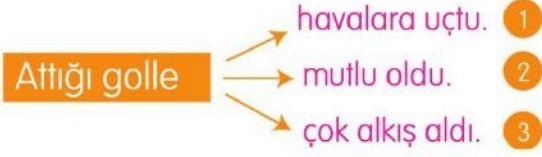


ADI SOYADI :

PUAN: Çok iyi İyi Geliştirilmeli



1. Cümle hangisiyle tamamlanırsa abartılı bir ifade kullanılmış olur?

- A) 1 B) 2 C) 3

2. Aşağıdaki cümlelerin hangisinde hayali olmayan ifadelere yer verilmiştir?

- A) Gece yıldızlara dokundum.
B) Kedilerin neşeli konuşmaları kulağıma geldi.
C) Annem kırmızı kazağımı yıkamış.

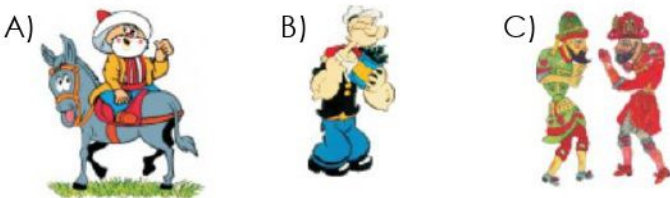
3. Hangi çocuk kardeşi ile ilgili duygusal bir ifade kullanmıştır?

- A) **Emel:** Kardeşimin saçları kıvrıktır.
B) **Ahmet:** Kardeşimin ağlamasına hiç dayanmıyorum.
C) **Furkan:** Kardeşim ilk adımını attı.

4. Aşağıdakilerden hangisi gerçek anlatım olan bir metnin başlığı olabilir?

- A) Başarının Yolları B) Uçan Halı C) Deniz Kızı

5. Aşağıdakilerden hangisi hayali bir kahramandır?



6. Aşağıdaki trafik kuralları ile ilgili verilen bilgilerden hangisi yanlıştır?

- A) Karşıdan karşıya geçerken zikzaklar çizmemeliyiz.
B) Yaya kaldırımında her zaman soldan yürümeliyiz.
C) Taşıtlara hiçbir nedenle asılmamalıyız.

7. Aşağıda verilen eşleştirmelerden hangisi yanlıştır?

- A) 110 → İtfaiye
B) 112 → Ambulans
C) 155 → Jandarma

8. Aşağıdakilerden hangisi okula giderken karşıdan karşıya geçmek için yapılan yanlış bir davranıştır?

- A) Park etmiş ya da duran araçların arasından geçmek
B) Alt ve üst geçitleri kullanmak
C) Yaya kaldırımından yürümek

9. Evde, aile bireylerinden biri aniden bayıldı. Ne yapmalıyız?

- A) Hemen komşuya haber vermeliyiz.
B) Su içirmeye çalışmalıyız.
C) Sakin olup ambulansı aramalıyız.

1. Üst geçitler	3. Araçların arası
2. Yaya geçidi	4. Trafik ışıkları

10. Yukarıdaki tablodan trafikte karşıdan karşıya geçilmemesi gereken yerin bulunduğu parça hangisidir?

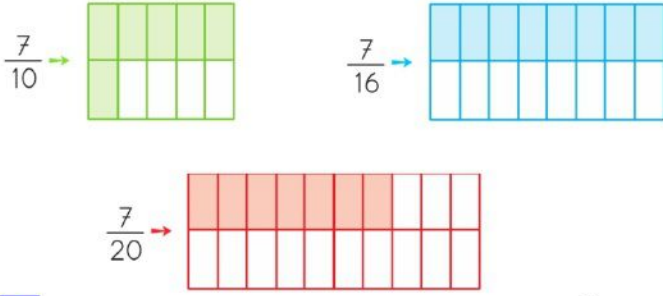
- A) 2 B) 3 C) 4



Bir bütünü 10 eş parçaya böldüm. 2 eş parçasını boyadım.

11. Gülay'ın yaptığı işlemi gösteren kesir hangisidir?

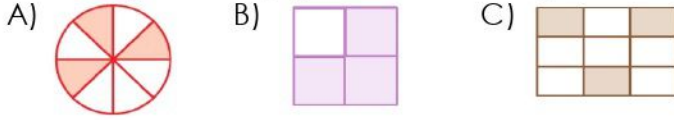
- A) $\frac{10}{2}$ B) $\frac{2}{10}$ C) $\frac{10}{10}$



12. Yukarıdaki kesirlerden kaç tanesi doğru modellenmiştir?

- A) 3 B) 2 C) 1

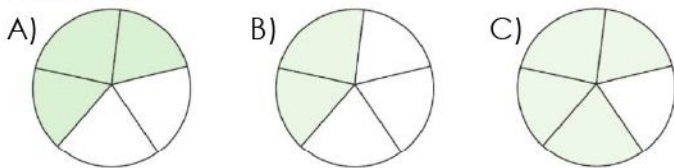
13. Okunuşu "sekizde üç" olan eş parçalara bölünmüş bütün aşağıdakilerden hangisidir?



14. Yukarıdaki sayı doğrusunda "M" noktasına karşılık gelen kesir aşağıdakilerden hangisidir?

- A) $\frac{2}{5}$ B) $\frac{3}{5}$ C) $\frac{4}{5}$

15. Aşağıdaki şekillerden hangisinin $\frac{3}{5}$ 'ü boyalıdır?



16. 3/C sınıfının bir köşesinde balon patlamış ve herkes balonun patladığı yöne dönmüştür. Aşağıdakilerden hangisi herkesin balonun patladığı yöne dönmesinin sebebidir?

- A) Ayşe balonu patlattığını söylemiştir.
B) Herkes sesin kaynağının olduğu yöne dönmüştür.
C) Bütün öğrenciler daha sonra ne olacağını merak etmiştir.

Ali'nin yaşadığı mahallede o gün bir düğün vardı. Ali davulun sesini duyuyor fakat düğünü göremiyordu.

17. Bu olayın nedeni aşağıdakilerden hangisi ile açıklanabilir?

- A) Her sesin kaynağının olması
B) Davulun yapay ses kaynağı olması
C) Sesin her yönde dağılması

Annesi odasında ders çalışan Efe'ye seslenerek yanına gelmesini istiyor. Efe, annesinin hangi odada olduğunu bilmiyor. Sırasıyla yatak odasına, salona ve mutfaka doğru yürümeye başlıyor. Bu sırada sesin yakınlaştığını duyuyor.

18. Buna göre annesinin Efe'ye seslendiği yer neresidir?

- A) Yatak odası
B) Salon
C) Mutfak

19. Ayça sınıfın ortasında yüzü tahtaya dönük olarak bağırdığı halde arka sırada oturan arkadaşları da onu duymuştur. Bu durumun nedeni nedir?

- A) Ses her yönde yayılır.
B) Ayça çok şiddetli ses çıkarmıştır.
C) Ayça'nın sesi yankı yapmıştır.

İşitme duyumuzla ses kaynağının yerini belirleyebiliriz.

Ses yüksekse ses kaynağı bizden uzaktır.

Ses gittikçe azalıyorsa ses kaynağı bize yaklaşıyor demektir.

20. Yukarıda verilen bilgilerden doğru olanları maviye, yanlış olanları kırmızıya boyamamız isteniyor. Buna göre sıralama nasıl olur?

- A) kırmızı – mavi – kırmızı
B) mavi – kırmızı – kırmızı
C) mavi – mavi – kırmızı

Enes SERT 3/A Sınıfı

© **KONTROL ETMEYİ UNUTMAYALIM** ©

NOT: Her soru 5 puandır.