

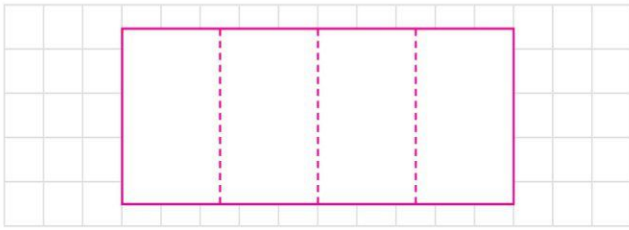


Aşağıdaki soruları çizerek cevaplayınız.


1. 12 tane misketin yarısı kaç misket eder?




2. 8 tane ekmeğin çeyreği kaç tane ekmek eder?



3. 16 tane kirazın yarısı kaç tane kiraz eder?




4. 20 tane eriğin çeyreği kaç tane erik eder?




5. 18 tane mandalınanın yarısı kaç tane mandalina eder?




6. Yarısı 4 tane olan karpuzların tamamı kaç tanedir?



7. Çeyreği 6 tane olan kalemlerin tamamı kaç tanedir?



8. Yarısı 7 tane olan domateslerin tamamı kaç tanedir?



9. Yarısı 6 olan sayının tamamının 4 fazlası kaçtır?



10. Çeyreği 8 olan sayının 7 eksiği kaçtır?



3. Aşağıdaki problemleri çözelim.

a. 1 deste kalemin yarısı kaç kalem eder?

d. 4 çeyrek simit ile 2 yarım simit kaç bütün simit eder?

b. Annem dolaptaki 20 yumurtanın yarısını kullandı. Geriye kaç yumurta kaldı?

e. 14 çeyrek simidin 2 çeyreğini yedim. Kalan simitler kaç bütün simit eder?

c. Sınıfımızdaki öğrencilerin yarısı 10'dur. Sınıfımızda toplam kaç öğrenci vardır?

f. 8 bütün karpuzu ikiye böldük. 6 yarımını yedik. Geriye kaç yarım karpuz kalır?

ç. 6 yarım limon ve 8 çeyrek limon kaç bütün limon eder?

g. Bilal 20 TL'sinin çeyreği kadarını kardeşine verdi. Geriye kaç TL'si kaldı?
