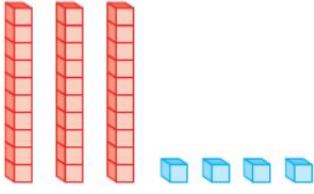


1.



Onluk taban bloklarıyla modellenen sayı kaçtır?

- A. 33      B. 34      C. 35

2. Aşağıdaki doğal sayılardan hangisinin okunuşu yanlış verilmiştir?

A. 39 → otuz üç

B. 74 → yetmiş dört

C. 55 → elli beş

3.

kırk üç

kırk bir

kırk sekiz

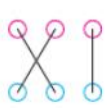
41

43

48

Yukarıdaki sayılarla okunuşları hangisinde doğru verilmiştir?

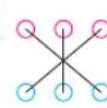
A.



B.



C.



4. 16 - 20 - 24 - 28 - 32 - .....

Bu ritmik saymada sıradaki sayı aşağıdakilerden hangisidir?

A)

40

B)

38

C)

36

5.

- ▲ 2 düzine 18 tanedir.
- ★ 2 deste 20 tanedir.
- 3 düzine 36 tanedir.

Hangi sembole verilen ifade yanlıştır?

A. ▲

B. ★

C. ●

6.

58 sayısında kaç onluk kaç birlik vardır?

A) 5 birlik, 8 onluk

B) 8 birlik, 5 birlik

C) 5 onluk, 8 birlik

7.

67 sayısının onlar basamağındaki rakamın basamak değeri kaçtır?

A) 6

B) 7

C) 60

8.


	Basamak Adı	Basamak Değeri
82	Birler basamağı	●
	★	80

Yukarıdaki gösterimde sembollerle verilen yerlere hangi sayılar yazılmalıdır?




- A. Birler basamağı      10
- B. Onlar basamağı      2
- C. Birler basamağı      20

9. 21'den başlayıp ileriye doğru üçer ritmik sayarken 4. saymada hangi sayıyı söyleriz? (21 dahil)

- A)  B)  C) 

10.  Kenan, yukarıdaki örüntüyü devam ettirirse en sonda hangi sayı yer alır?

12 - 16 - 20 - 24 - .....  
- ..... - .....

- A)  B)   
C) 

11. 

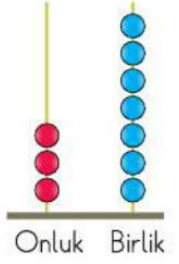
Yukarıdaki ritmik saymayı yaparken boş bırakılan balonlara hangi sayı yazılamaz?

- A. 44 B. 46 C. 52


12. Hangi seçenekte okunuşu verilen sayının onlar ve birler basamağındaki rakamlar aynıdır?


- A. Altmış altı  
B. Doksan dört  
C. Kırk

13. Abaküste gösterilen sayıyla ilgili hangisi yanlıştır?



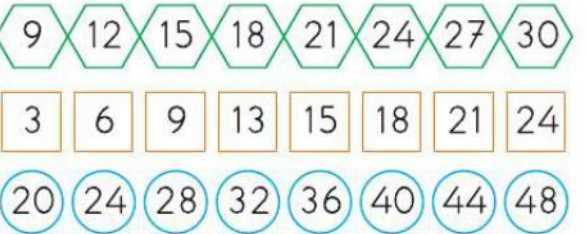
- A. 3 birlik 7 onluktan oluşur.  
B. 3 onluk 7 birlikten oluşur.  
C. Oluşan sayı 37'dir.

14.  Birler basamağında 2 rakamı var.

 Onlar basamağında bir basamaklı en büyük sayı var.

Yukarıdaki çocukların özelliklerini söylediği sayı kaçtır?

- A. 92 B. 90 C. 29

15. 

Hangi şekille verilen ritmik sayma yanlıştır?

- A.  B.  C. 

16. 

Yukarıdaki saymada boş bırakılan yapraklara sırasıyla hangi sayılar gelmelidir?

- A. 9 - 18 B. 11 - 18 C. 9 - 16