




Adı Soyadı : .....

Sonuç : .....




1. Aşağıdaki rakamlardan hangisinin yazılışı **yanlıştır**?

- A) beş → 3                      B) dört → 4  
C) altı → 6

2. Aşağıdaki varlıklardan hangisinin sayısı **yanlış** yazılmıştır?

- A)  5                      B)  8                      C)  11

3.  Aşağıdaki meyve sayılarından hangisi yandaki limon sayılarından **azdır**?

- A)                       B)                       C) 

4. Birer ileriye ritmik saymada 18'den sonra hangi sayı gelir?

- A) 17                      B) 19                      C) 20

5. Beşer ileriye ritmik saymada "otuz"dan sonra hangi sayıyı söyleriz?

- A) yirmi                      B) otuz beş                      C) kırk


6. 12'den başlayarak ileriye doğru ikişer ritmik saymada aşağıdaki sayılardan hangisi **söylenmez**?

- A) 14                      B) 16                      C) 17

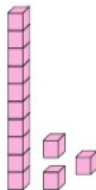
7.   
→

Baştan 4. yıldız hangisidir?

- A)                       B)                       C) 

8.  14 sayısında kaç birlik vardır?

- A) 1                      B) 4                      C) 7

9.  Yanda taban bloklarıyla gösterilen sayı aşağıdakilerden hangisidir?

- A) 18                      B) 15                      C) 13

10.  $10 + 2 = \dots$

Yukarıdaki toplama işleminde toplamın 5 fazlası kaçtır?

- A) 13                      B) 17                      C) 20

11.  Yandaki saat kaç göstermektedir?

- A) 09.00                      B) 10.00                      C) 12.00

12. Aşağıdaki çıkarma işlemlerinden hangisinin sonucu 9'dur?

A) 
$$\begin{array}{r} 15 \\ - 4 \\ \hline \end{array}$$

B) 
$$\begin{array}{r} 12 \\ - 6 \\ \hline \end{array}$$

C) 
$$\begin{array}{r} 10 \\ - 1 \\ \hline \end{array}$$

13. Aşağıdaki seçeneklerin hangisinde çıkarma işleminde kullanılan terimler doğru belirtilmiştir?

A) 
$$\begin{array}{r} 13 \\ - 1 \\ \hline 12 \end{array}$$
 → Eksilen → Çıkan → Fark

B) 
$$\begin{array}{r} 13 \\ - 1 \\ \hline 12 \end{array}$$
 → Çıkan → Eksilen → Fark

C) 
$$\begin{array}{r} 13 \\ - 1 \\ \hline 12 \end{array}$$
 → Fark → Eksilen → Çıkan

14.



Ağaçtaki elmalardan 4 tanesi düştü. Ağaçta kaç elma kaldı?

- A) 8      B) 7      C) 6

15.



Yukarıdaki paraların toplam değeri aşağıdakilerden hangisidir?

- A) 5 TL      B) 3 TL      C) 2 TL

16. Öznur'un 20 TL'si vardır. 5 TL'si ile kalem alırsa kaç TL'si kalır?



17.



Bir miktar cevizim vardı.  
3 ceviz de dayım verdi.  
Toplam 14 cevizim oldu.

Fikri

Dayısı cevizleri vermeden önce Fikri'nin kaç cevizini vardı?

- A) 10      B) 11      C) 12

18. Hatice 16 sayfalık hikâye kitabının 11 sayfasını okudu. Buna göre okunmayan sayfa sayısı kaçtır?

- A) 5      B) 6      C) 7

19.



Yukarıdaki armutlardan kaç yarım armut elde edilir?

- A) 6      B) 5      C) 4

20.



Yukarıdaki limonlar kaç bütün limona eşittir?

- A) 1      B) 2      C) 3