

1. $8 + 7 = ?$

Yukarıdaki işlemin sonucu aşağıdakilerden hangisidir?

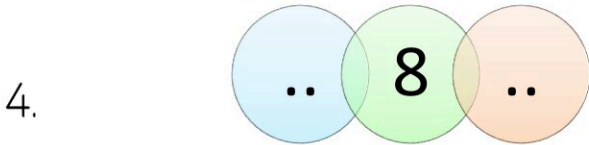
- A. 15 B. 14 C. 16



- A. 7 B. 8 C. 6



- A. 16 B. 14 C. 15



Verilen sayının sağındaki ve solundaki sayıların toplamı kaç olur?

- A. 17 B. 16 C. 15



- A. yanındadır B. üstündedir
C. altındadır

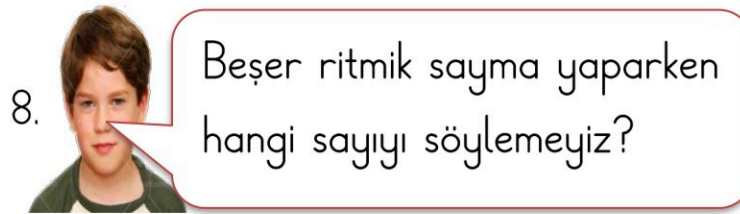


- A. $\begin{array}{r} 15 \\ - 8 \\ \hline \end{array}$ B. $\begin{array}{r} 12 \\ - 4 \\ \hline \end{array}$ C. $\begin{array}{r} 13 \\ - 6 \\ \hline \end{array}$



Hangi çocuk "14 + 5" işleminin sonucunu öylemiştir?

- A. Selim B. Azra C. Merve

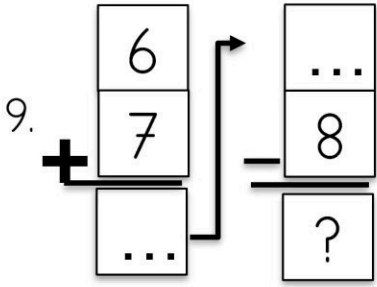


- A. 15 B. 35 C. 62

8. Eksilen: 9 Fark: 5 Çıkan: 4

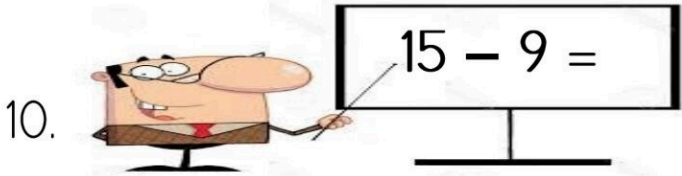
Yukarıda elemanları verilen işlem hangisidir?

- A. $9 - 5 = 4$ B. $9 - 4 = 5$
C. $5 + 4 = 9$



Yukarıdaki işlemlere göre ? kaç olur?

- A. 5 B. 4 C. 6



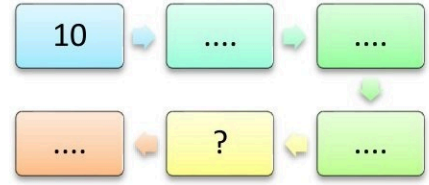
Tahtadaki işlemin sonucu kaçtır?

- A. 6 B. 5 C. 7

$12 - 5 = 7$

11. Verilen işleme göre hangisi doğrudur?

- A. 5 eksilendir. B. 12 çıkandır
C. 7 farktır.



Onar ritmik sayma yaptığımızda soru işareti olan yere hangi sayı gelmelidir?

- A. 40 B. 50 C. 60

13. Hangi yapraktaki işlemin sonucu daha küçüktür?

- A. $\begin{array}{r} 11 \\ -4 \\ \hline \end{array}$ B. $\begin{array}{r} 16 \\ -9 \\ \hline \end{array}$ C. $\begin{array}{r} 13 \\ -7 \\ \hline \end{array}$

14. Akvaryumdaki 15 balıktan 9 tanesi beyaz, diğerleri mavidir.

Akvaryumda kaç mavi balık vardır?

- A. 6 B. 7 C. 5

15. $\text{.....} - \text{.....} = 7$

Yukarıdaki işlem hangisi olamaz?

- A. $12 - 5$ B. $14 - 7$ C. $11 - 5$