

ADI SOYADI: TÜRKÇE



Ben Tesnim Hasani. Sizler gibi bende 2.sınıfa gitmekteyim. Yıllar önce ülkemde kötü olaylar yaşandığı için Türkiye'ye geldik. Ailemle beraber Bursa'da otur-maktayız. Burada olmak bizi çok mutlu etti. Çünkü duyarlı insanlar her zaman bize yardımcı oldular.

Öğretmenimiz sınıfa geldikten sonra " Çocuklar biliyorsunuz, Maraş merkezli büyük bir deprem yaşadık. Maalesef deprem sonucu istemediğimiz kayıplar oldu. Milletimiz ve devletimiz el ele verip yaraları sarmaya, yardımcı olmaya çalışıyor. Ayrıca orada sizin gibi çocuklar var. Onlarında oyuncağa ihtiyacı var. Sizlerden bu konuda yardım istiyorum." dedi. Benim aklıma hemen evdeki tek oyuncağım olan ayıcık geldi. Ayıcık evdeki arkadaşım olsa da hiç düşünmeden paketleyip öğretmenime götürdüm. Çünkü zor zamanımızda herkes bize yardım etmişti. Sıra bendeydi...

(İlk üç soruyu metne göre cevaplandınız.)

1-Tesnim, neden Türkiye'ye gelmiş?

- A) Ülkesinde kötü olaylar yaşandığı için gelmiş.
- B) Türkiye'ye turistik yerleri görmek için gelmiş.
- C) Bursa'daki akrabalarını ziyarete gelmiş.

2- Öğretmen, depremzedeler için hangi konuda yardım istemiş?

- A) Para yardımı istemiş.
- B) Çocuklara oyuncak yardımı istemiş.
- C) Gıda ve giyecek yardımı istemiş.

3-Tesnim, oyuncağını depremzede çocuklara yollayarak nasıl bir çocuk olduğunu göstermiş?

- A) bencil
- B) saygılı
- C) vefalı

kaşık

4-Yukarıdaki kelimenin hece sayısıyla, aşağıdaki kelimelerden hangisinin hece sayısı aynıdır?

- A) traktör
- B) kral
- C) otobüs



5-Benim adım cins isim olarak tavşan. Benim isimle ilgili aşağıdaki bilgilerden hangisi doğrudur?

- A) Ünlü ve ünsüz harf sayıları aynıdır.
- B) Ünlü harfler, ünsüz harflerden fazladır.
- C) Ünlü harfler, ünsüz harflerden azdır.

1.

mandalina

2.

.....

3.

park

6-Yukarıdaki kelimeler sözlük sırasına göre sıralanabilmesi için aşağıdaki kelimelerden hangisi 2.sıraya yazılmalıdır?

- A) hamam
- B) orman
- C) resim

7-Aşağıdaki cümlelerden hangisi **beş** sözcükten oluşmuştur?

- A) Öğretmenim bazı arkadaşlarımı uyardı.
- B) Ali, annesinin sözünden hiç çıkmaz.
- C) Okuldan gelince önce elini yüzünü yıkar.

Mira'nın yanında oturabilir miyim?



AYŞE

Nisa ile Ayşe'nin arasında durmaktayım.



EYLÜL

Eylül, benim en iyi arkadaşım.



NİSA

8-Yukarıdaki öğrencilerden hangisi, ifadesinde tek başına anlamı olmayan bir kelime kullanmıştır?

- A) AYŞE
- B)EYLÜL
- C)NİSA

9-Aşağıdaki cümlelerin hangisinde **yazım yanlışı** vardır?

- A) Oğuzlar çalışmayı seven bir ailedir.
- B) Sınıfımıza Erzurumlu bir arkadaş geldi.
- C) Semanın kalemını gördünüz mü?

10-Hangi cümlede eş anlamlı kelimeler bir arada kullanılmıştır?

- A) Fayda ve yararlı yiyecekler yemeliyiz.
- B) Yağız, teneffüste bir yukarı bir aşağı çıktık.
- C) Derslerini daha dikkatli dinlemeli Zehra.

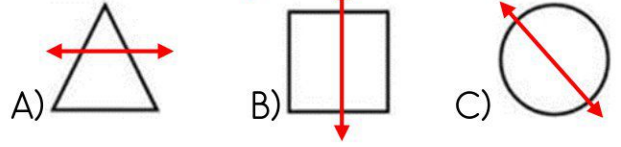


15-Yukarıdaki görsellerin üzerine olayların oluş sırası, sırasıyla doğru yazılışı aşağıdakilerden hangisidir?

- A)2-4-3-1
- B)2-3-1-4
- C)1-4-2-3

MATEMATİK

1-Aşağıdakilerden hangisi simetri doğrusuna göre simetrik değildir?




2-Öğretmenim sınıfı için 6 deste kalem aldı. Aldığı kalemlerin 29 tanesini öğrencilerine dağıttığına göre geriye kaç tane kalem kaldı?

- A) 27
- B) 22
- C) 31



3-Dedemin çiftliğinde 4 inek, 9 tanede ördek vardı.

Çiftlikteki hayvanların ayak sayıları toplamı kaç tanedir?



- A) 34
- B) 41
- C) 28



4-Yukarıdaki kutular 30'dan geriye doğru üçer ritmik sayımlar yazılarak tamamlandığında aşağıdaki sayılardan hangisi bu kutulara yazılamaz?

- A)27
- B)16
- C)12

5-Aşağıdaki çarpma işlemlerinden hangisinin sonucu diğerlerinden farklıdır?

- A) 8X3
- B) 6X4
- C) 5X6

Hareket (eylem) anlamı ifade eden kelime, cümlenin sonunda yer alıyorsa bu cümleyle kurallı cümle denir. Cümlenin başında veya ortasında bulunuyorsa devrik cümle denir.

11-Yukarıdaki açıklamaya göre aşağıdakilerden hangisi anlamlı ve kurallı bir cümledir?

- A) Çok hızlı koştu birinci olmak için.
- B) Emine kitabını hızlı okumaya başladı.
- C)Tasarruf için kapattı lambayı.

Kurallı cümlelerle olayın anlatıldığı, masal ve hikaye gibi metinlere düzyazı denir.

12-Yukarıdaki açıklamaya göre aşağıdakilerden hangisi düzyazıdır?

- A)İmrenirim arıya Petek petek balı var. Konduğu çiçeklerin Pembesi var alı var.
- B)İşkısın yolumda, Kuvvetsin kolumda. Açtın hepimize kucak, Canımsın öğretmenim.

C) Anne keçi, yavrularına "Ben yokken dikkatli olun." dedi. Kurt sinsi planlarıyla keçi yavrularını kandırmaya çalışıyordu.

13-Aşağıdaki sözcüklerden hangisinin zıt anlamı yoktur?

- A) çiçek
- B) hızlı
- C) doğru

14-Aşağıdaki cümlelerden hangisi, "Kim" sorusuna yanıt verir?

- A) Evin duvarlarında çizik var.
- B) Zahide ödevini sınıfta yaptı.
- C) Dolaptaki pasta bayatlamış.

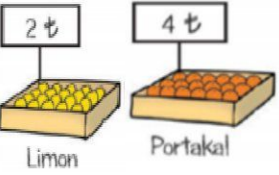
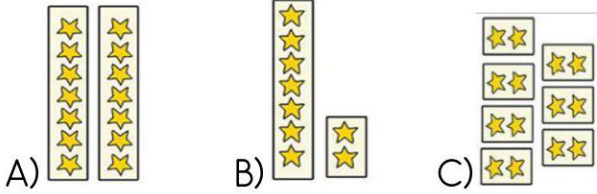
$$68 - 33 = \square \times 5$$

6-Yukarıdaki eşitlikte, işlemlerin sonucuna göre

\square yerine hangi sayı yazılmalıdır?

- A) 5 B) 7 C) 9

7-Aşağıdaki şekillerden hangisi 2×7 işlemini ifade eder?



8-Babam pazardan 2 kilo limon, 3 kiloda portakal alıdı. Babam pazarcıya kaç lira vermelidir?

- A)16
B)20
C) 8

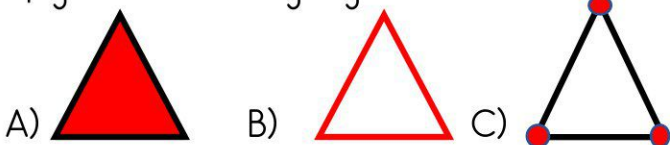
$$52-21=31$$

$$31-19=12$$

9-Aşağıdaki problemlerin hangisinde, cevabı bulmak için yukarıdaki işlemler yapılmalıdır?

- A) Zeynep'in 52 tane boncuğu vardı. Sema 21 tane Zahide'de 19 tane boncuk Zeynep'e verince kaç boncuğu oldu?
B) Alı'nın 52 tane oyun kartı vardı. Kartların 21 tanesini Poyraz'a, 19 tanesini de Tahya'ya verince kaç kartı kaldı?
C) Metroda 52 yolcu vardı. Durakta 21 yolcu binip 19 yolcu indiğine göre metroda kaç yolcu var?

10-Eyüp, kırmızı kalemle arkadaşlarına üçgenin kenarlarını göstermek istiyor. Buna göre Eyüp aşağıdakilerden hangisi göstermelidir?




Bir sayının ile çarpımı, sayının kendisine eşittir.

11-Yukarıdaki ifadenin doğru olabilmesi için aşağıdaki kelimelerden hangisi noktalı yere yazılmalıdır?

- A) bir B) sıfır C) çarpı



12-Annem misafirler için 1 sürahide 10 kişilik limonata hazırladı. Gelen misafirlerin daha çok olduğunu gören annem, limonatanın herkese yetmesi için hangi bardakları kullanmalıdır?





13-Yandaki tabloda renkli yerlere gelmesi gereken sayıların toplamı kaçtır?
A)40 B)35 C)20

X	2	3	4
5		15	20
1	2	3	4
10	20		40



14-Aşağıdaki örüntülerden hangisinin kuralı yukarıdaki örüntüyle aynıdır?



 - 20 = 20
 + 32 = \square
A)55
B)68
C)72

15-Yandaki çıkarma ve toplama işlemlerinde, verilen sayılara göre \square kaçtır?


HAYAT BİLGİSİ

1-Aşağıdaki ifadelerden hangisi **yanlıştır**?

- A) Okul servislerinde emniyet kemeri takmalıyız.
B) Arabalara sağdan binip, soldan inmeliyiz.
C) Toplu taşıma araçlarına sırayla binmeliyiz.

2-Çevremizde yardıma muhtaç canlılara yardımcı olmaya duyarlılık diyoruz.

Yukarıdaki açıklamaya göre aşağıdaki görsellerden hangisi bir duyarlılığı **göstermemektedir**?

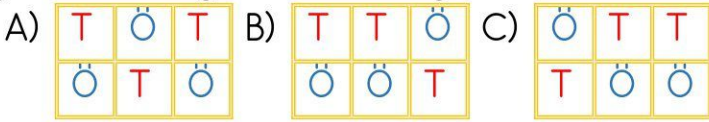


3-Aşağıdakilerden hangisi çocukların aile içinde yapması gereken bir sorumluluktur?

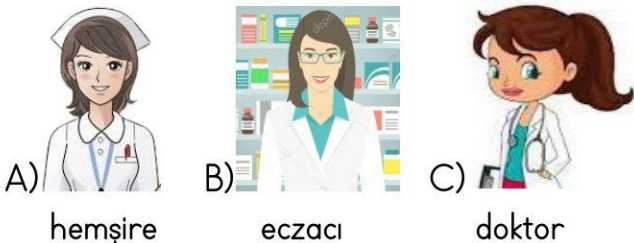
- A) Para kazanmak. B) Tamir etmek.
C) Temizlik yapmak.

otobüs	araba	metro
bisiklet	servis aracı	motorsiklet

4-Muhammed Ali, yukarıdaki ulaşım araçlarından toplu ulaşımında kullanılanlara "T", özel kullanılanlara "Ö" harfi yazdığı zaman tablonun görünümünü aşağıdakilerden hangisidir?



5-Reçetede yazılan ilaçları aşağıdaki kişilerin hangisinden satın almalıyız?



- Trafik levhalarına sadece sürücüler uymalıdır.
-Emniyet kemeri arka koltukta takmamalıyız.
-Karşıya geçerken önce sola sonra sağa bakmalıyız
-Camdan kolumuzu ve elimizi çıkarmamalıyız.
6-Yukarıdaki ifadelerden kaç tanesi doğrudur?
A) 2 B) 3 C) 4

7-Toplu taşıma aracında seyahat eden Kübra, öncelik sırasına göre aşağıdakilerden hangisine **en son**da yer vermelidir?

- A) Hamilelere B) Yaşlılara
C) Tanıdıklarına



Beytullah

Genel ağda özel bilgileri paylaşmam.



Eyüp

İnternette herkesle konuşabilirim.



Mete

İstedğim her yere izinsiz gidebilirim.

8-Yukarıdaki çocuklardan hangisinin ifadesi doğrudur?

- A)Beytullah B)Eyüp C)Mete

9-Sağlıklı bir vücuda sahip olmak için neler yapmalıyız?

- A) Spor yapmalıyız. B) Sürekli uyumalıyız.
C) Durmadan çalışmalıyız.

10-Yangın, kaza, yaralanma ve afetlerde acil olarak hangi numarayı aramalıyız?

- A)123 B)112 C)183

Başarılar...