

Adım Soyadım:



3. SINIF / MİNİ DENEME SINAVI - 3

Bir gün ormanda korkunç bir fırtına başladı. Rüzgar çok güçlü, yağmur çok şiddetliydi. Pamuk ve Pofuduk, korku içinde yuvalarına sığındılar. Fırtına gece boyunca sürdü ve ormanda büyük bir karmaşa oldu.

Fırtına sona erdiğinde Pamuk ve Pofuduk'un yuvaları zarar görmüştü. Pamuk ve Pofuduk birlikte ağaç dallarını kaldırmaya, yaprakları süpürmeye ve yuvalarını onarmaya başladılar. Diğer hayvanlar da bu durumu gördüler. Bazıları Pamuk ve Pofuduk'un yardımına koştu, bazıları ise sadece izlemekle yetindi.

(1. 2 ve 3. soruları yukarıdaki metne göre cevaplayalım.)

1. Fırtına başladığında Pamuk ve Pofuduk ne yapmış?

- a) Korku içinde yuvalarına sığınmışlar.
- b) Ormanı temizlemeye başlamışlar.
- c) Dışarıda oynamışlar.

2. Hangisi doğru bir bilgi değildir?

- a) Rüzgar çok güçlü, yağmur çok şiddetliymiş.
- b) Pamuk ve Pofuduk'un yuvaları zarar görmüş.
- c) Tüm hayvanlar birbirine yardım etmiş.

3. Bu metne en uygun atasözümüz hangisidir?

- a) Damlaya damlaya göl olur.
- b) Dost kara günde belli olur.
- c) Üzüm üzümüne baka baka kararır.

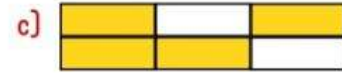
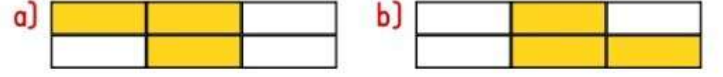
Belli bir yerde, belli bir bölgede yaşayan insanların hepsini birlikte söylerken kullanılır.

4. Yukarıda tanımı verilen kelime hangisidir?

- a) dost
- b) ahali
- c) aile

kırk	dört	konu
trafik	göz	gölge

5. Tabloda tek heceli sözcükler boyandığında görüntü nasıl olur ?



6. Hangi seçenekteki kelimenin eş anlamlısı yanlış verilmiştir?

- a) ilave ----> ek
- b) icat ----> buluş
- c) özlem ----> sevgi



Ben 300 yaşından büyüğüm.

7. Yukarıdaki ağacın yaşı hangisi olamaz?

- a) 589
- b) 410
- c) 295

8. Aşağıdaki sıralamalardan hangisi doğrudur?

- a) 546 > 453 > 655
- b) 239 < 356 < 412
- c) 100 < 320 < 278

9. Hangi öğrenci altışar ritmik saymayı doğru yapmıştır?

- a) Tuğba: 12 - 18 - 24 - 31 - 37
- b) Cenk: 14 - 20 - 25 - 32 - 38
- c) Hale: 9 - 15 - 21 - 27 - 33



10. Yukarıdaki örüntünün kuralına göre 5. adımda kaç yıldız olmalıdır?

- a) 8 b) 9 c) 10

11. İleriye doğru sekizer ritmik sayma yaparken 48'den önce söylediğim sayı kaçtır?

- a) 40 b) 45 c) 47

$$13 - 20 - 27 - ? - 41$$

12. Yukarıdaki ritmik saymada ? yerine hangi sayı yazılmalıdır?

- a) 30 b) 34 c) 39

- Deniz, okyanus, yer altı suları, dereler bu katmandadır.
- Pek çok canlıya ve bitkiye ev sahipliği yapar.
- Karalardan daha çok alanı kaplar.

13. Yukarıda özellikleri verilen katman hangisidir?

- a) Kara Katmanı b) Su Katmanı
 c) Hava Katmanı

14. "Dünya yüzeyinin sularla kaplı olmayan yerlerine denir." Bu cümledeki noktalı yere aşağıdakilerden hangisi yazılmalıdır?

- a) katman b) manto c) kara

Dünya'nın dörtte üçü sularla kaplıdır.


15. Yukarıdaki bilgiye göre Dünya'mızın kara ve su katmanı hangi seçenekte doğru modellenmiştir?



16. Aşağıda verilen bilgilerden hangisi doğrudur?

- a) Dünya'mızın yüzeyinde karalar daha çok yer kaplar.
 b) Dünya'mızın yüzeyinde sular daha çok yer kaplar.
 c) Kıtalar, dağlar, ovalar, topraklar, taşlar hava katmanında bulunur.

17. Hangi canlı Dünya'nın kara katmanında yaşar?



18. Hangisi arkadaşımızda olmasını istemediğimiz bir özelliktir?

- a) Nazik b) Dürüst c) Alaycı

19. Koşma becerisi zayıf olduğu için oyuna alınmayan bir öğrenci hangi duyguyu hisseder?

- a) Dışlanma b) Sevinç c) Gurur

20. Hangi davranış arkadaşlık bağlarımızı güçlendirir?

- a) Yardımsever olmak b) Bencil olmak
 c) Hataları abartmak