

1- Yazın sıcak günlerde çevremizde bulunan hayvanlar için aşağıdakilerden hangisini yapmalıyız?



- A) Dışarıya su dolu kaplar bırakmalıyız.
B) Tüm hayvanları evimize götürmeliyiz.
C) Onları görmezden gelmeliyiz, umursamamalıyız.

2- Güneş, Eminelerin evinde mutfağın bulunduğu taraftan doğmaktadır.



Buna göre Eminelerin mutfağı hangi yöndedir?
A) doğu B) batı C) kuzey

3- Aşağıdakilerden hangisi çevremizi kirliletecek bir davranış değildir?



- A) Çöpleri denize atmak.
B) Kurumuş ağaçları kesmek.
C) Atık pilleri toprağa gömmek.

4- Kış uykusuna yatan hayvanlar uyandığına göre mevsimi gelmiştir.



Yukarıdaki ifadede boş bırakılan yere hangisi yazılmalıdır?

- A) sonbahar
B) ilkbahar
C) yaz

5- Aşağıdaki doğal afetlerden hangisi ülkemizde daha az görülür?

- A) deprem B) sel C) hortum

- 6- * Binalar sağlam yapılmalıdır.
* Tatbikatlar yapılmalıdır.
* Özel bir çanta hazırlanmalıdır.

Yukarıdaki önlemler hangi doğal afet içindir?

- A) heyelan
B) kasırga
C) deprem

7- Yandakilerden hangileri kalıcı kirliliğe neden olur?
A) II - IV
B) I - III
C) III - IV

- I. Meyve kabukları
II. Pet şişe
III. Ağaç yaprakları
IV. Naylon poşet



Görseldeki çocuklar için hangisi söylenebilir?

- A) Doğal çevreye zarar veriyorlar.
B) Ormandaki canlı yaşamına önem veriyorlar.
C) Arkadaşlık sevgisini güçlendiriyorlar.

9- terli - su - içince - terli - soğuk - hastalandı

Yukarıdaki kelimelerle kurallı ve anlamlı bir cümle kurduğumuzda baştan üçüncü kelime hangisi olur?

- A) içince B) hastalandı C) soğuk


10- Yanda kendisini tanıtan renk hangisidir?

- A) siyah
B) pembe
C) beyaz

Kâğıt gibi lekesiz, pamuk gibi temizim ben, çok çabuk kirlenirim, karla birlikte anılırım.

11- Yaşasın! Babam lunaparka gitmeme izin verdi.

Yukarıdaki cümleyi söyleyen bir çocuğun yüz ifadesi nasıldır?



- 12- ● Dün gece ben de sahura kalktım.
■ Her akşam mutlaka dişlerimi fırçalarım.
★ Kardeşim her gün erkenden uyanır.

Yukarıdaki cümlelerin hangisinde "sabah" sözcüğünün zıt anlamlısı kullanılmıştır?

- A) ● B) ■ C) ★

13- Yandaki dördlügen ana duygusu hangisidir?

- A) Barış ve dostluk
B) Hayvan sevgisi
C) Okula kavuşmanın sevinci

Daha bir ballanır uyku,
Çocuklar kardeş oldu mu.
Barışır artık kurt kuzu,
Çocuklar kardeş oldu mu.

14- Yanda konusu verilen öykünün başlığı hangisi olabilir?

- A) Balıkçı Tezgâhı
B) Vedalaşma
C) Yüzmeyi Çok Seviyorum

Bir yaz günü akvaryumundaki balığını denize bırakmaya karar veren Ekin'in balığıyla geçirdiği son günü.

15- Aşağıdaki olayları oluş sırasına göre sıralarsak son cümle hangisi olur?

- A) Evde mayolarımızı ve şortlarımızı giydik.
B) Kumsalın yanına kadar bisikletlerimizle gittik.
C) Denize girmek için ailelerimizden izin aldık.

16- Eve döndüğümüzde oldukça yorgunduk. Valizlerimizi açmadan kenara koyduk.

Yukarıdaki metin hangi cümle ile devam etmelidir?

- A) Taksiye binip yola çıktık.
B) Neşeyle kahvaltı ettik.
C) Duş alıp hemen uyuduk.

17- Aşağıdaki cümlelerin hangisinde özel ad yoktur?

- A) Tatilde Bursa'ya gideceğiz.
B) Dedemin ismi Yusuf'tur.
C) Köpeğim için küçük bir kulübe yapacağız.

18- 3 - 8 - 13 - 18 - 23 - ?

Yukarıdaki sayı örüntüsü hangi sayı ile devam etmelidir?

- A) 28 B) 29 C) 30

19- 4 + 10 = ☆ + 8

Yukarıdaki işlemde eşitliğin sağlanması için ☆ yerine hangi sayı yazılmalıdır?




- A) 6 B) 7 C) 10


20- Ercan 8 yaşındadır. Annesi Ercan'dan 24 yaş büyüktür. İkisinin yaşları toplamı kaçtır?

Yukarıdaki problemi çözmek için hangi işlemler yapılmalıdır?

- A) $24 - 8 = 16$ $16 + 20 = 36$
B) $24 + 8 = 32$ $32 + 8 = 40$
C) $24 : 8 = 3$ $24 + 3 = 27$

21- Hangi öğrencinin yaptığı ölçüm kişiden kişiye değişmez?

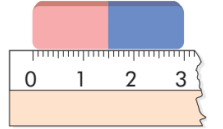
- A)  Sınıfımızdaki yazı tahtasının boyunu karışla ölçtüm.
B)  Odamdaki halının uzunluğunu adım ile ölçtüm.
C)  Çalışma masamın boyunu cetvel ile ölçtüm.

22- 

Birinci kalemın boyu 12 cm olduğuna göre ikinci kalemın boyu kaç cm'dir?

- A) 10 cm B) 9 cm C) 6 cm

23- Burak defterinin boyunu silgi ile 7 seferde ölçüyor. Defterin boyu kaç cm'dir?



- A) 21 cm B) 17 cm C) 10 cm

24- Sokağımızdaki elektrik direğinin boyu tahminen ne kadardır?

- A) 90 cm B) 2 m C) 6 m

25- Yandaki cümle hangi görseli ifade etmektedir?

Cut the apple.



***** BAŞARILAR *****

Her soru 4 (dört) puandır.
Cevaplarınızı kontrol ediniz.