

ADI SOYADI: TÜRKÇE



Dedenin elleri titremeye başladığı günden beri yemeği üstüne döküyor, porselen tabakları yere düşürüp, kırıyordu. Bu olayların azalması için dedeye yerde, tahta tabakta yemek vermeye başladılar. Bu duruma dede de torunu da çok üzülüyordu.

Bir gün torun eline aldığı tahta parçalarını, oymaya çalışıyordu. Bunu gören anne ve babası merakla : " Bu tahtalarla ne yapıyorsun?" diye sordular. Çocukları: " Sizin için tahta çanaklar yapıyorum. Sizde yaşlanınca bu tabaklarda yemek vereceğim." deyince bir anda yaptıkları hatayı anlayıp mahcup oldular. Yaptıklarının büyüklüklerine karşı vefasızlık, oğluna da kötü bir örnek olduğunu anlayıp, özür dilediler. Tekrardan eski günlerdeki gibi masada yemek yemeye başlayıp, mutlu yaşadılar.

(İlk üç soruyu metne göre cevaplayınız.)

1- Dede neden yemekleri üstüne döküyormuş?

- A) Elleri titrediği için döküyormuş.
- B) Dikkati dağınık olduğu için döküyormuş.
- C) Hasta olduğu için döküyormuş.

2-Anne ve baba tabaklar kırılmasın diye nasıl çözüm bulmuşlar?

- A) Dedeyi hastaneye götürmüşler.
- B) Dedeye tahta tabaklar almışlar.
- C) Dedeye yardımcı olmaya başlamışlar.

3-Çocuk, anne ve babasına hatasını nasıl göstermiş?

- A) Anne ve babasına karşı gelerek.
- B) Yaptıklarından dolayı anne ve babasına küserek.
- C) Büyüyünce anne ve babası gibi yapacağını söyleyerek.

	Eş Anlam	Zıt Anlam
Vatan - Yurt	H	S
Hafif - Ağır	I	A
Temiz - Kirli	Y	R
Giyisi - Kıyafet	F	L

4-Tablodaki kelimeleri anlam ilişkisine göre işaretlediğimizde, şifre olan kelime aşağıdakilerden hangisidir?

- A) HARF
- B) SIRA
- C) SAYI

5-Aşağıdaki cümlelerden hangisinin kelime sayısı diğerlerinden daha azdır?

- A) Abim gelmeyince oyuncaklarımla oynadım.
- B) Işıl, Ayşe ve Esmâ ip atladılar.
- C) Babamın erkek kardeşine amca diyoruz.

....	mandalina
....	market
....	makas
....	matematik

6-Tablodaki kelimeleri, sözlük sırasına göre noktalı yerlere yazarak sıraladığımız-da tablo nasıl oluşur?

- A)

2
3
1
4
- B)

4
2
1
3
- C)

1
3
2
4

7-Aşağıdaki cümlelerin hangisinde zıt anlamlı kelimeler yoktur?

- A) Hatamız olunca özür dilemeliyiz.
- B) Hava sıcak olunca soğuk su içmemeliyiz.
- C) Otobüste gençler yaşlılara yer vermelidir.



8-Arkadaşlar benim adımda kaç tane harf var?

- A)3
- B)4
- C)5

9-Aşağıdaki cümlelerin hangisinde yazım yanlışı yoktur?

- A) Cumhuriyet bayramını 29 ekimde kutladık.
- B) Taha, Ramazan Bayramı anısını anlattı.
- C) Hediyeler hazırlıyoruz anneler günü için.

Ağızımızdan bir seferde çıkan harf veya harf gruplarına hece denir. Her hecede mutlaka ünlü bir harf vardır.



10-Buna göre aşağıdakilerden hangisi hece **olamaz**?

- A) kez B) ba C) tr

Eyvah, binanın 6 (...) katında yangın çıkmış (...) İtfaiyeyi arayan var mı(...)

11-Yukarıdaki cümlede, noktalı yerlere sırasıyla hangi noktalama işaretleri gelmelidir?

- A) • ! ? B) , ! • C) • ? ,

Şort	Plan	Nisa
Okul	Elma	kral

12-Yukarıdaki kelimelerden kaç tanesi tek hecelidir?

- A)3 B)4 C)5

Elif, sınıfta yerinde duramayan, neşesini derste bile etrafına saçan, dünyalar tatlısı bir öğrenciydi. Bu durumlar, dersteki dikkatini dağıtmakta, onu seven büyüklerini üzmekteydi. Öğretmeni Elifle konuşunca yaptığı hatayı anladı ve daha dikkatli olacağına söz verdi.

13-Yukarıdaki metnin konusu aşağıdakilerden hangisidir?

- A) Elifin neşesi B)Elifin dikkatsizliği
C) Elifin öğretmeni

1.	2.	3.	4.	5.
çalışma	öğretmenim	dağıttı	kitaplarını	sırayla

14-Yukarıdaki kelimelerle anlamlı ve kurallı bir cümle oluşturmak için kelime numaraları nasıl sıralanmalıdır?

- A)2-1-4-5-3 B)2-4-1-3-5 C)1-4-3-5-2

O - T - K - U - P

15- Yukarıdaki harfleri, alfabeye göre sıralandığımızda hangi kelime oluşmaktadır?

- A)TOPUK B) KOPTU C) UKTOP

MATEMATİK



1- 4 destede kaç tane onluk vardır?

- A) 4 B) 5 C) 6

2- 10'dan başlayıp ileriye doğru dörder ritmik sayma yaparken aşağıdaki sayılardan hangisini **söylemeyiz**?

- A)18 B)19 C)22



3-Yukarıdaki paralarla onluk ve birlik konusunu anlatan öğretmenimiz kaç onluk ve birlik olduğunu söylemiştir?

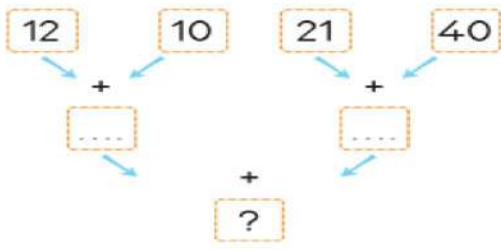
- A) 42 B)47 C)72

4- 4onluk 8 birlikten oluşan sayı ile 3 onluk 2 birlikten oluşan sayının toplamı kaçtır?

- A)80 B)88 C)85

5-Aşağıdaki ifadelerden hangisi **yanlıştır**?

- A) 1 düzine 1 desteden fazladır.
B) 1 düzinenin 2 eksiği bir desteye eşittir.
C) 1 destenin 2 eksiği bir düzineye eşittir.



6-Yukarıdaki toplama işlemlerini, okları takip ederek yaptığımızda ? yerine hangi sayı yazılmalıdır?

- A)67 B)75 C)83

7-Onlar basamağı yedi, birler basamağı dört olan sayının okunuşu aşağıdakilerden hangisidir?

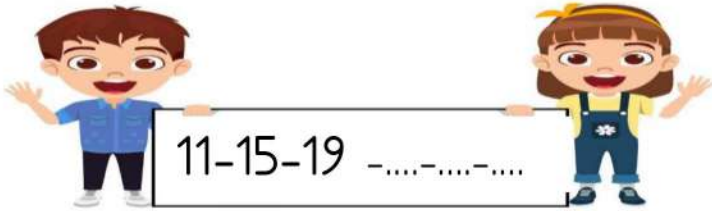
- A) Yetmiş dört B) Yirmi yedi
C) Kırk yedi

Aşağıdaki çıkarma işlemlerinden hangisinin sonucu farklıdır?

A) $\begin{array}{r} 56 \\ - 24 \\ \hline \end{array}$ B) $\begin{array}{r} 72 \\ - 65 \\ \hline \end{array}$ C) $\begin{array}{r} 61 \\ - 54 \\ \hline \end{array}$

8-Aşağıdaki örüntülerden hangisinin kuralı farklıdır?

- A) 6 - 10 - 12 - 14 - 16
B) 12 - 15 - 18 - 21 - 24
C) 11 - 14 - 17 - 20 - 23



9-Yukarıdaki örüntünün devamında en son da yazılması gereken sayı kaçtır?

- A)31 B)30 C)29

10- 83 sayısının onlar basamağındaki rakamın basamak değeri kaçtır?

- A)80 B)3 C)8

5 onluk	7 birlik	→	57
6 onluk	3 birlik	→	69
4 onluk	4 birlik	→	44

11- Hangi sayının onluk ve birlik sayısı yanlış yazılmıştır?

- A)57 B)69 C)44

67	50
55	60
49	70

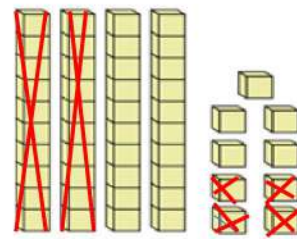
12-Yukarıdaki sayılar en yakın onluğa yuvarlanarak, eşleştirildiğinde nasıl bir görünüm oluşur?

- A) B) C)

16	64	48	92
----	----	----	----

13-Yukarıdaki sayılar küçükten büyüğe doğru sıralandığında 3. sıradaki aşağıdakilerden hangisidir?

- A)16 B)64 C)92



14-Yanıda onluk taban bloklarıyla gösterilen çıkarma işlemi aşağıdakilerden hangisidir?

A) $\begin{array}{r} 56 \\ - 14 \\ \hline 42 \end{array}$ B) $\begin{array}{r} 49 \\ - 24 \\ \hline 25 \end{array}$ C) $\begin{array}{r} 61 \\ - 54 \\ \hline 07 \end{array}$

$24 + 35 + 40 = \dots\dots$

15-Yukarıdaki toplama işleminin sonucu kaçtır?

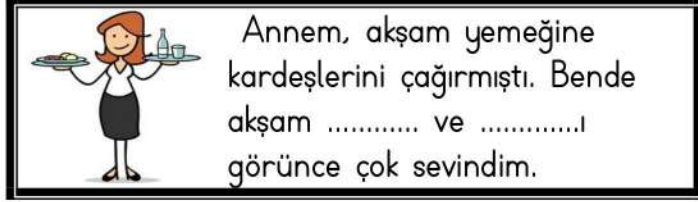
- A)99 B)87 C)95

HAYAT BİLGİSİ

Bütün arkadaşlarımızın ilgi ve yeteneklerinin olması doğaldır.

1-Yukarıdaki ifadenin doğru olması için aşağıdaki kelimelerden hangisi yazılmalıdır?

- A) aynı B) farklı C) eşit



2-Buna göre aşağıdakilerden hangisi akşam yemeğine **gelmemiştir**?

- A) amcam B) teyzem C) dayım

3-"Oyundayken arkadaşımıza sözler söylememeliyiz." cümlesindeki boşluğa aşağıdakilerden hangisi gelmelidir?

- A) güzel B) kırıcı C) nazik



İlk kez duyduğum şarkıları hemen çalabiliyorum. Çünkü ben birisiyim.

4-Görseldeki çocuğun ifadesine en uygun kelime aşağıdakilerden hangisidir?

- A) yetenekli B) ilgili C) karakterli



5-Ali, ihtiyacı olan kalemi satın almak için kırtasiyeye gitmesi gerekiyor. Sırasıyla hangi yolları kullanması gerekir?

- A) Tonga Sokak, Serbest Caddesi, İlgin Sokak
B) Serbest Caddesi, Duymaz Sokak, Tunç Caddesi
C) Tunç Caddesi, İlgin Sokak, Tonga Sokak

6- Aşağıdakilerden hangisi okul ile ilgili bir ihtiyacımız **olamaz**?

- A) Silgi B) Çanta C) Oyuncak



Mira'nın annesi yeni bir işe başlamıştı. Hem yeni iş, hem de evdeki işler, annesini çok yoruyordu. Mira, okuldaki grup

çalışmalarında-..... yapıldığında işlerin daha çabuk bittiğini öğrenmişti. Böylece annesi Mira'yla daha çok ilgilenebildi.

7-Metindeki ifadeye göre noktalı yere aşağıdakilerden hangisi yazılmalıdır?

- A) sorumlulukla B) işbölümü C) adaletli

8-Aşağıdakilerden hangisi, alış-veriş esnasında yapılan doğru bir davranış **olamaz**?

- A) Alışverişte önceliğimiz ihtiyaçlarımız olmalıdır.
B) İsteklerim için büyüklerimi zorlamalıyım.
C) Tutumlu davranışlar bütçeye katkı sağlar.



Güneş, annesiyle birlikte kardeşi için alışverişe çıkmışlardı.

Alışverişlerini bitirdikten sonra Güneş, annesine: "İstedğim bir oyuncak alabilir miyim?" dedi.

Annesi de: "Bu ay çok masrafımız oldu. Bu yüzden harca-mamızı göre yapmamız gerekir."

9-Yukarıdaki metne göre noktalı hangi kelime yazılmalıdır?

- A) bütçemize B) kendimize C) isteklerimize

10- Yağız, okula gelirken beslenme çantasını unutuyor. Buna göre aşağıdakilerden hangisi Yağız'ın ihtiyacı olabilir?



- A) B) C)

İNGİLİZCE

1-----

Aşağıdaki görsellerden hangisi yanlış eşleştirilmiştir?

A.



doctor

B.



train

C.



note

2-----



Görsele uyan seçenek hangisidir?

- A. good night
- B. good evening
- C. good morning

3-----



What is your name?

.....



Konuşmayı tamamlayan doğru seçeneği işaretleyiniz.

- A. Good night.
- B. I'm okay. Thank you.
- C. My name is Deniz.

4-----

Aras : How are you, Ali?

Ali :

Aşağıdaki seçeneklerden hangisi konuşmayı tamamlayamaz?

- A. I'm okay. Thank you.
- B. I'm fine, thanks.
- C. Good morning. Thank you.

5-----



Görsele uyan seçenek hangisidir?

- A. sit down
- B. close the door
- C. stand up