

3. SINIF MİNİ DENEME - 3

HAYVANLARI SEVELİM

Çalışkanlıkta örnektir.
Karıncalar hepimize.
Çiçek çiçek gezer arı.
Eşsiz bir tat sunar bize.

Bahçelerde cıvı cıvı,
Ötüşür çeşitli kuşlar.
Bin bir renkli kelebekler.
Çiçekten çiçeğe atlar.

Doğa hayvanlarla güzel,
Sevelim ve koruyalım.
Hayvanların yararı çok,
Gereğince kavrayalım.

Kasım TÜRKSAVAŞ

- Şiirin ana duygusu nedir?
A) Çalışkan olmanın önemi
B) Çiçeklerin güzelliği
C) Hayvan sevgisi
- Şiire göre çalışkanlıkta örnek olan hayvan hangisidir?
A) Arı B) Kuş C) Karınca
- Şiirle ilgili aşağıdakilerden hangisi söylene-
mez?
A) Şiir 3 dizeden oluşmuştur.
B) Şiir 3 dörtlükten oluşmuştur.
C) Şairi Kasım TÜRKSAVAŞ'tır.
- Aşağıdaki kelimelerden hangisi hecelerine
doğru ayrılmıştır?
A) hu-zur-e-vi B) ilk-ög-re-tim
C) ya-yı-ne-vi

- Satır sonuna sığmayan kelime hangi seçe-
nekte doğru ayrılmıştır?

A)

tel- efon

 B)

tele- fon

 C)

telef- on

- Aşağıdaki satır sonuna sığmayan kelimeler-
den hangisi yanlış ayrılmıştır?

A)

por- takal

 B)

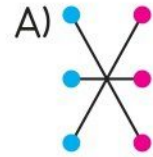
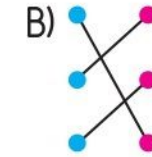
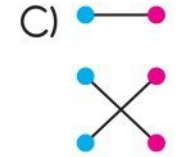
o- yuncak

C)

buzdola- bı

- | | |
|-----------|----------|
| kent ● | ● talebe |
| öğrenci ● | ● zor |
| güç ● | ● şehir |

Yukarıdaki kelimeler eş anlamları ile eşleş-
tiğinde hangi şekil oluşur?

A)  B)  C) 

- | | | | | |
|----|----|----|-------|-------|
| 28 | 32 | 36 | | |
|----|----|----|-------|-------|

Yukarıdaki örüntü kuralına genişletilirse
boşluklara hangi sayılar gelmelidir?

A) 38-40 B) 40-44 C) 42-46

- 35 - 41 - 39 - 45 - 43

Yukarıda verilen örüntünün kuralı hangisi-
dir?

A) 6 azalma, 2 artma
B) 2 azalma, 6 artma
C) 6 artma, 2 azalma

3. SINIF MİNİ DENEME - 3

10. 126 - 235 - 318 - 421 - 521 - 103

Yukarıdaki sayılardan kaç tanesi çift sayıdır?

- A) 2 B) 3 C) 4

11. Verilen toplama işleminde hangisinin sonucu tek sayıdır?

- A) 56 + 22 B) 41 + 59
-
- C) 25 + 36

12. T + T = ● Ç + Ç = ■ T + Ç = ▲

Yukarıdaki işlemlere semboller yerine hangileri getirilmelidir?

● ■ ▲

- A) T Ç T
-
- B) Ç Ç T
-
- C) Ç T Ç

13. Aşağıdakilerden hangisi daha büyüktür?

- A) XIX B) XVIII C) XIV

14. IX + XVIII

Yukarıdaki işlemin sonucu kaçtır?

- A) 25 B) 27 C) 29

15.



1

2

3

Yukarıdaki duyu organlarının görevleri ile eşleştirilmesi hangi seçenekte doğru olarak verilmiştir?

	1	2	3
A)	tat alma	hissetme	görme
B)	tat alma	görme	koklama
C)	hissetme	dokunma	görme

16. Aşağıdakilerden hangisi duyu organlarımızdan değildir?

- A) Göz B) Dil C) Kalp

17. Duyu organlarımız hangi organ tarafından yönetilir?

- A) Göz B) Beyin C) kalp

18. Aşağıdakilerden hangisi okulun toplumsal katkısına örnektir?

- A) Okulun yakınına taşınan Ahmet'in okula hemen kaydının yapılması
-
- B) Okuma yazma bilmeyen Ayşe teyzenin okuldaki kursa katılıp okuma yazma öğrenmesi
-
- C) Ceren Öğretmen'in öğrencileri ile boyama yapması

19. Ömer, okulda yapılan kodlama etkinliklerine katılmıştı. Bu etkinlik sonunda Ömer

Metinde noktalı yere aşağıdakilerden hangisi yazılamaz?

- A) sorumluluklarını başkasının yapması gerektiğini anlamıştır.
-
- B) iş birliği içinde çalışmayı öğrenmiştir.
-
- C) yeni arkadaşlar edinmiştir.

20. "Kroki"

Bu cümle aşağıdakilerden hangisi ile devam ettirilemez?

- A) yaşadığımız yeri tarif etmeye yarar.
-
- B) sayesinde aradığımız yeri karıştırır, bulamayız.
-
- C) bir adresi tarif etmeye yarar.