

Adı:  
Soyadı:

NELER ÖĞRENDİK - 1 -



Tarih  
...../...../2022

1-  
"okul - defter - silgi - kalem"  
Yukarıdaki sözcüklerin sözlük sıralaması, hangi seçenekte doğru verilmiştir?

- A. defter - kalem - okul - silgi  
B. defter - okul - kalem - silgi  
C. okul - defter - kalem - silgi

2-  
Aşağıdaki sözcüklerin hangisi, hecelerine yanlış ayrılmıştır?

- A. ilk - öğ - re - tim  
B. kö - re - be  
C. öğ - ret - men

3-  
"Hayat okula gelmedi."  
Cümlesindeki altı çizili sözcükte, kaç tane ünlü harf vardır?

- A. 2 B. 3 C. 4

4-  
"Derya nereye gitti?"  
Yukarıdaki cümlede kaç tane ünsüz harf vardır?

- A. 16 B. 9 C. 7

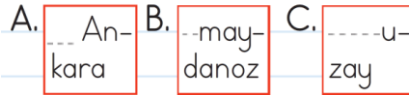
5-  
Alfabemizin 8., 19. ve 15. harfleriyle elde edilen sözcük hangisidir?

- A. Gül B. Gör C. Göl

6-  
Aşağıdaki görsellerden hangisinin adı tek hecelidir?



7-  
Aşağıdaki satır sonuna sığmayan sözcüklerden hangisi yanlış ayrılmıştır?



8-  
Aşağıdaki bilgilerden hangisi yanlıştır?


- A. Alfabemizde 21 sessiz harf, 8 sesli harf vardır.  
B. Bir hecede en az iki, en fazla beş harf bulunur.  
C. Sesli harfler tek başına hece olabilirler.

9-  
**G K ? P S**

Alfabetik sıralamaya göre soru işareti (?) yerine hangi harf yazılabilir?

- A. Ğ B. H C. N

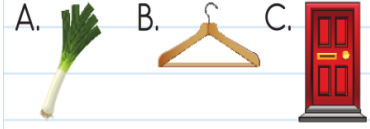
10-  
Aşağıdaki varlıklardan hangisinin adı, sözlükte diğerlerinden sonra gelir?



11-  
Aşağıdakilerden hangisi hem hece hem de sözcüktür?

- A. ba B. yurt C. sa

12-  
"sa - ra - pı - ka"  
Yukarıdaki hecelerle, aşağıdaki görsellerden hangisinin adını yazamayız?



13-  
Aşağıdaki varlıklardan hangisinin adında daha çok hece vardır?



14-  
Hangi görseldeki varlığın adındaki ünlü ve ünsüz harf sayısı birbirine eşittir?



14-  
"peynir - paket - pırasa"  
Yukarıdaki sözcüklerin sözlük sıralaması aşağıdakilerden hangisidir?

- A. paket - pırasa - peynir  
B. paket - peynir - pırasa  
C. pırasa - peynir - paket

15-  
Aşağıdaki sözcüklerden hangisi, satır sonuna sığmadığında bölünemez?


- A. Oya B. oyna C. kitap

Türkçe sınavı bitmiştir.

1-----  
56 sayısının onlar basamağındaki rakamı 3 artırırsak yeni sayının okunuşu hangisi olur?

- A. Elli altı      B. Elli dokuz  
C. Seksen altı


2-----  
Yanda modellenen sayının okunuşu aşağıdakilerden hangisidir?



- A. Kirk altı      B. Altmış dört  
C. Kirk beş

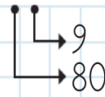
3-----  
Okunuşu verilen sayılardan hangisinde, 4 rakamının basamak değeri 40'tır?

- A. Kirk sekiz      B. Elli dört  
C. Yetmiş altı

4-----  
  
Birlik sayısı muzlarla, onluk sayısı armutlarla ifade edilen sayı, aşağıdakilerden hangisidir?

- A. 68      B. 80      C. 86


5-----  
Yanda basamak değerleri verilen sayı aşağıdakilerden hangisidir?



- A. 89      B. 98      C. 99

6-----  
2 düzine kalemim vardı. Annem bir deste kalem daha alınca kaç kalemim oldu?

- A. 30      B. 34      C. 36

7-----  
  
Yukarıdaki örüntüde A ve B yerine yazılacak doğal sayıların toplamı kaç olur?

- A. 52      B. 50      C. 48

8-----  
★ 72 → 2 birlik + 7 onluk  
● 43 → 3 onluk + 4 birlik  
▲ 60 → 6 onluk + 0 birlik  
Yukarıda verilen sayılar, onluk ve birlik şeklinde ifade edilmişlerdir.

Hangi ifadeler doğrudur?

- A. ★●▲      B. ●▲      C. ★▲

9-----  
• Birler basamağı → 4  
• Onlar basamağı → 7

Yukarıda basamaklarındaki rakamları verilen sayı hangisidir?

- A. 77      B. 74      C. 47

10-----  
Aşağıdaki sayılardan hangisinin en yakın onluğu 40 değildir?

- A. 35      B. 44      C. 45

11-----  
"72 büyüktür....."

Yukarıdaki ifadede noktalı yere aşağıdaki sayılardan hangisi yazılabilir?

- A. 70      B. 72      C. 73

12-----  
Onlar basamağındaki rakamın basamak değeri 70 olan iki basamaklı en büyük doğal sayı hangisidir?

- A. 99      B. 97      C. 79

13-----  
"▲, 75'ten sonra gelir."  
Yukarıdaki ifadede "▲" yerine hangi sayı gelemez?

- A. 74      B. 76      C. 78

14-----  
8'den başlayıp ileriye doğru beşer ritmik sayma yaparken aşağıdaki sayılardan hangisini söy-lemeyiz?

- A. 19      B. 23      C. 28

15-----  
Melis'in şimdiki yaşı 3 onluk ve 2 birlikten oluşan sayıyı ifade etmektedir.

Melis, 9 yıl önce kaç yaşındaydı?

- A. 22      B. 23      C. 41