

ADI SOYADI: TÜRKÇE

Doğdum büyüdüm, okul çağına geldim.
Ailemle başlayan süreç, seninle taçlandı.
Sen en büyük eğitimci, yol göstericisin.
Işık tuttun yoluma, aydınlattın geleceğimi.



Aşladığın okuma sevinci, fikrimi zenginleştirdi.
Binlerce bilgin hayallerimi, ufkumu genişletti.
Küçükleri sevmeyi, büyüklerimi saymayı,
Bizlere kendimiz olmayı, sen öğrettin.



Mira GÖZGÜ

(İlk üç soruyu şiire göre cevaplayınız.)

1- Şair, büyüyünce hangi çağa gelmiş?

A)okul B)ders C)çalışma

2-Şair, şiirinde kime sesleniyor?

A)ailesine B)öğretmenine C)küçüklere

3- Şair, aşağıdakilerden hangisini öğrenmemiş?

A)Küçükleri sevmeyi B)Büyükleri saymayı
C)Başka insanlara benzemeyi

Kırmızı-al	Gel-git
Kalp-yürek	Ülke-devlet
Siyah-beyaz	Soru-cevap

4-Yukarıdaki sözcük ikilileri arasında, eş anlamlı olan kelimelere E, zıt anlamlı olan kelimelere Z harfini yazarsak tablonun görünümü nasıl olur?

A)

E	E
Z	Z
Z	E

 B)

E	Z
E	E
Z	Z

 C)

Z	Z
E	E
Z	E

5-Aşağıdaki cümlelerin hangisinde anlamı olmayan kelime yoktur?

A) Kerem ile Enes dayanışma içindeler.
B) Dondurma veya çikolata almak istiyorum.
C) Bilsem sınavına katılmak istiyorum.

6-"Bursa doğasıyla, tarihiyle zengin bir şehir."
cümlesinde altı çizili kelimenin eş anlamlısı aşağıdakilerden hangisidir?

A) ülke B) kent C) kasaba

Oğuz, hastalanınca okula gelmedi.

7-Aşağıdaki sorulardan hangisinin cevabı yukarıdaki cümlede **yoktur**?

A)kim B)ne C)nereye

Balık	Başarı
Basit	Bakteri

8-Tabloda bulunan kelimeler alfabetik sıralamaya göre numara verildiğinde, tablonun görünümü aşağıdakilerden hangisi olur?

A)

2.	4.
1.	3.

 B)

2.	4.
3.	1.

 C)

1.	3.
4.	2.

9-Aşağıdaki cümlelerin hangisinde **yanlış** kullanımıştır?

A)Gemiyle yolculuk yaptık.

B) Patatesleri dikkatli soy.

C)Köyün çobanı sürüyü götürdü.

10-Aşağıdaki görsellerden hangisinin adındaki **ünsüz harf** sayısı daha azdır?



A) B) C)

11-Aşağıdaki cümlelerin hangisinde büyük harfin yazımıyla ilgili bir yanlışlık **yaşanmamıştır**?

A) Kuşuma renginden dolayı Limon adını verdim.

B) Şehit faik gökçen ilkokulu Bursa ilindedir.

C) Annem ve Babam okula beraber geldi.

Kaşık	Bursa	Çilek	Baykal Sokak
Türkiye	Araba	Baba	diş

12-Yukarıdaki kelimelerden kaç tanesi **cins** isimdir?

A)3 B)4 C)5




Hayatımızın her yerinde plastikten, metalden, camdan, kağıttan yapılmış eşyalar var. Eşyaların kullanım zamanı dolduğu zaman çevremize değil, atık kutularına atmalıyız. Çünkü atık maddeler fabrikalarda tekrardan insanların kullanabileceği eşyalara dönüştürülebilir. Böylece hem doğamızı hem de ülke bütçesini korumuş oluruz.

13-Bu metnin konusu aşağıdakilerden hangisidir?

- A) Çevre kirliliği B) Plastik torbalar
C) Geri dönüşüm


Mahalle Öğretmen Toprak
Penbe Mikrop pılan

14-Enes, tahtada yazılı olan kelimelerden yanlış yazılanlara çarpı attı. Buna göre tablonun görünümü aşağıdakilerden hangisi olur?


- A)  B) 
C) 

15-Aşağıdaki cümlelerden hangisi ünlem cümlesi değildir?

- A) Ömer ile Eyüp tartıştı
B) Ay, elim yandı
C) Eyvah, okula geç kaldım



MATEMATİK

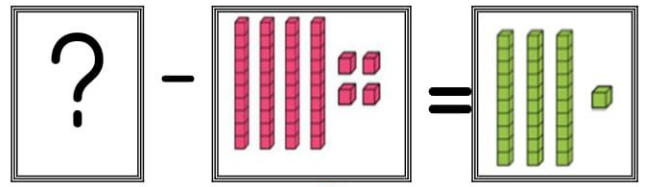


1-Taha 65 sayısını, abaküs üzerinde boncuklarla göstermek istiyor. Buna göre onluklara kaç tane boncuk çizmesi gerekir?

- A)8 B)6 C)15

2-Aşağıdakilerden hangisi sıra bildiren bir sayıdır?

- A) On sekiz B) beşinci C) 6 onluk



3-Yukarıdaki tabloda ? ile gösterilen yere aşağıdaki sayılardan hangisi gelmelidir?

- A)75
B)62
C)50

4-Yandaki işlemde verilmeyen sayıyı bulmak için aşağıdaki ifadelerden hangisini yapmalıyız?

$$\begin{array}{r} 7 \quad 2 \\ - \quad \square \\ \hline 5 \quad 6 \end{array}$$

- A) Eksilenden farkı çıkarmalıyız.
B) Çıkanla farkı toplamalıyız.
C) Toplamdan verilen toplanan çıkarılır.

56		85
	43	
91		12

5-Tablodaki sayıları küçükten büyüğe doğru sıralanışı aşağıdakilerden hangisidir?

- A)12-43-56-85-91 B)12-43-85-91-56
C)91-85-43-56-12



6-Terazideki işlemlerin sonuçları eşit olduğuna göre kutu yerine hangi sayı gelmelidir?

- A)10 B)20 C)5

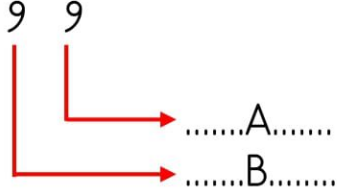


7-Annem 32 yaşındadır. Babam annemden 4 yaş büyüktür. Bende annemden 24 yaş küçüğüm. Ailemin yaşlarının toplamı kaçtır?

- A)76
B)68
C)80

8-Fırıncı Ali usta, sabah 52, öğle 45 tane ekmek yapıyor. Ekmeklerin 66 tanesini sattığına göre geriye kaç tane ekmeği kalıyor?

- A)31
B)25
C)18



9-Yukarıdaki sayının harflerle gösterilen rakamların basamak adları hangisinde doğru olarak gösterilmiştir?

- A)

A	→ onlar basamağı
B	→ birler basamağı

 B)

A	→ birler basamağı
B	→ onlar basamağı
- C)

A	→ birler basamağı
B	→ birler basamağı

10-Esma, kırtasiyeden 24 liraya suluboya, 18 liraya pastel boya aldı. Esma satıcıya 50 lira verdiği göre kaç lira para üstü almalıdır?

- A)8
B)12
C)16



11-Su havuzunu en hızlı doldurabilecek kap aşağıdakilerden hangisidir?

- A) B) C)

12-Elif marketten 43 liraya peynir, 38 liraya da yufka alıyor. Elif yaptığı alışverişin gerçek ve tahmini sonuç arasındaki farkı merak ediyor. Elifin bulunduğu fark aşağıdakilerden hangisidir?

- A) 1
B) 2
C) 3

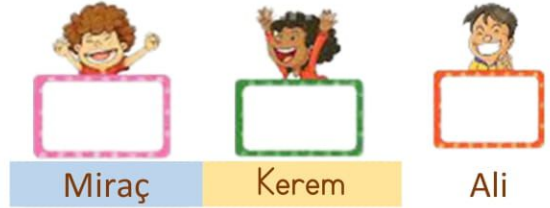
$$32 + 21 = \boxed{\dots\dots\dots}$$

13-Yukarıdaki noktalı yere aşağıdaki işlemlerden hangisi gelirse eşitlik sağlanmış olur?

- A) $70 + 8$ B) $44 + 11$ C) $60 - 7$

14-Eminé'nin dayısı 45, halası 38, amcası 52 ve teyzesi 39 yaşındadır. Bu akrabalarının yaşlarına göre, büyükten küçüğe doğru sıralanışı aşağıdakilerden hangisidir?

- A) amca, dayı, teyze, hala
B) dayı, teyze, hala, amca
C) teyze, hala, dayı, amca



-Miraç önündeki tabelaya 60'a yuvarlanabilen en küçük sayıyı yazıyor.

-Kerem tabelaya 50'ye yuvarlanabilen en küçük sayıyı yazıyor.

-Ali, tabelasına 90 yuvarlanabilen en büyük sayıyı yazıyor.

15-Yukarıdaki ifadelere göre tablolara hangi sayılar yazılmalıdır?

A)	Miraç 55	B)	Miraç 51	C)	Miraç 64
	Kerem 45		Kerem 49		Kerem 52
	Ali 94		Ali 88		Ali 81

HAYAT BİLGİSİ

1-Ev adresimizi kimlerle paylaşabiliriz, sorusunun cevabı aşağıdakilerden hangisi **olamaz**?

- A) Sağlık görevlileri B) Okul müdürü
C) Satıcılarla



.....
Anneciğim çok yoruldun. Ütüye ben devam edeyim mi?

2-Eylül, yardım etmek için annesine soru soruyor. Annesi, Eylül'ün sorusuna aşağıdaki cevaplardan hangisini vermelidir?

- A) Tabi ki, devam edebilirsin.
B) Bu iş senin için tehlikeli, olmaz.
C) İyi düşündün, hemen gel.

3-Tasarruf ne demek sorusunun doğru cevabını, aşağıdaki çocuklardan hangisi vermiştir?

- A) Kaynakları gerektiği kadar tüketmek
B) İsteklerimize göre kaynakları harcamak.
C) Cimrilik yaparak para harcamamak.



4-Beytullah otobüste gördüğü hamile bayana yerini vererek yardımcı oluyor. Aşağıdakilerden hangisini Beytullah için söyleyemeyiz?

- A) yardımsever B) duyarlı C) bencil

5-Sokak hayvanlarına duyarlı olan Sema, aşağıdakilerden hangisini yapmamalıdır?

- A) Bazı yerlere yiyecek bırakabilir.
B) Hasta olanları veterinerine götürebilir.
C) Korkutarak, çevresinden uzaklaştırabilir.

Peynir	Top	Ev
Tablet	Su	kiyafet

6-Tablodaki bulunanlardan kaç tanesi zorunlu ihtiyaçtır?

- A)4 B)3 C)2

Babaannemin tek oğlu babam olur.



Kübra

Halamla annem kardeşidir.



Berra

Ben amcamın yeğeniyim



Zahide

7-Yukarıdaki çocuklardan hangisinin ifadesi yanlıştır?

- A) Kübra B) Berra C) Zahide

D	Y	
K	Y	İşlerimizin bitmesi için plan yapmalıyız.
A	Z	Planda oyuna da yer vermeliyiz.
M	Z	Planda en az uykuya zaman ayırmalıyız.
S	A	Günlük plan başarımızı olumsuz etkiler.
N	E	Planlı öğrenci öğretmenini üzmez.

8-Tablodaki ifadeleri doğru veya yanlış olarak harfleri işaretlediğimizde, şifre olarak hangi kelime ortaya çıkar?

- A) KAZAN B) YAMAN C) SAZAN



Aklıma gelen her şeyi almayı severim.

9-Yukarıdaki sözü söyleyen kişi için aşağıdakilerden hangisini söyleyebiliriz?

- A)tutumlu B)cimri C)savurgan

Zehra: Oyuncaklarımı ablam toplar.

Poyraz: Ders çalıştıktan sonra masamı toplarım.

Defne: Giysilerimi dolaba yerleştiririm.

10-Hangi öğrenci, evdeki görev ve sorumluluklarını yerine getirmemektedir?

- A) Zehra B) Poyraz C) Defne

Başarılar...

ENES SERT 2/A SINIFI