


✏️ Aşağıda ön ve arka yüzü verilen paraların altına paraların altına miktarlarını yazalım.



✏️ Aşağıdaki verilen madeni paraları miktarlarına göre numaralandırarak büyükten küçüğe sıralayalım.



✏️ Aşağıdaki madeni paralardan en büyük olanı işaretleyelim.



Türk lirasını kısaca TL,
kuruşu ise kr. olarak
gösteririz
Türk lirasını ₺ sembolü
ile gösteririz


✏️ Aşağıdaki madeni paralardan en küçük olanı işaretleyelim.



Aşağıda verilen madeni paraları ön ve arka yüzleriyle eşleştirelim.




Aşağıda ön ve arka yüzü verilen kağıt paraların altına miktarlarını yazalım.




Aşağıdaki verilen kağıt paraları miktarlarına göre numaralandırarak büyükten küçüğe doğru sıralayalım.



 Aşağıda verilen paraları ön ve arka yüzleriyle eşleştirelim.





 Aşağıda verilen paraların miktarlarını karşlarına yazalım.




✏️ Aşağıdaki çocukların elindeki para miktarları ile kumbaraları eşleştirelim.



 Aşağıda verilen kumbaraların içinde bulunan paraların miktarlarını çiçeklerin içine yazalım.



 Aşağıda verilen kumbaraların içinde bulunan paraların miktarlarını yıldızların içine yazalım.



80 TL

