

Adı:
Soyadı:



Matematik Çalışma Kağıdı Problemler

Tarih
...../...../2023

1) Aşağıdaki sayıların basamak değerlerini bulunuz.

4 1 9
└───┬───┬───
└───┬───┬───
9 1 4
└───┬───┬───
8 7 5
└───┬───┬───



2) Yukarıdaki rakamları kullanarak oluşturulabilecek en büyük sayı ile en küçük sayının farkı kaçtır?

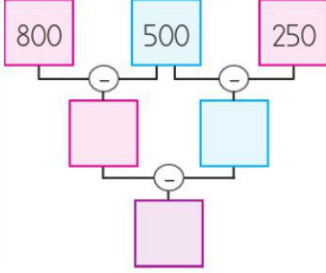
İşlem:

3) Emirhan ileriye sekizer ritmik sayarken 4.saymada 72 sayısını söylemiştir. Buna göre Emirhan hangi sayıdan başlamıştır?

İşlem:



4) Aşağıdaki işlemi tamamlayalım.



5) Aşağıdaki çarpma işlemini tamamlayalım.

$$5+5+5+5= \dots\dots$$

$$\dots\dots \times \dots\dots = \dots\dots$$

.....'in katı eder.

6) 8'in 5 katı kaç eder?

Yusuf'a yardımcı olalım.

İşlem:



Yusuf



7) Kamyonun kasasına 453 kg buğday ekleniyor. Kamyonun kasasında 900 kg buğday oluyor. Başlangıçta ne kadar buğday kaç kg'dır?

İşlem:



8) Bir koşu yarışını Pelin, Didem'den 215 saniye önce, Sude'den 239 saniye sonra tamamlamıştır. Sude yarışını 432 saniyede tamamladığına göre Didem yarışını kaç saniyede tamamlar?

İşlem:

9) Aşağıda görsel gelmesi gereken sayı kaçtır?




İşlem:

10) Elif tahtadaki sayıyı 73 eksiği ile toplarsa sonuç kaç olur?



11) Çiftlikte 78 ördek, ördeklerden 27 eksik hindi, ördek ve hindilerin toplamı kadar tsuk vardır. Buna göre çiftlikte kaç tane hayvan vardır?



İşlem:

Adı:
Soyadı:

Matematik Çalışma Kağıdı
Problemler

Tarih
...../...../2023

Marketteki Ürünler Çetele Tablosu

Ürünler	Ürün Sayısı
Makarna	
Süt	
Pirinç	
Un	

12) Buna göre rafta en az olan ürün hangisidir?

İşlem:

13) Marketteki ürünlerin toplamı kaçtır?

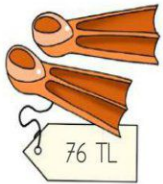
İşlem:

14) Ablam 13 yaşındadır. Ben ablamdan 4 yaş küçüğüm. 2 yıl sonra ikimizin yaşları toplamı kaç olur?

İşlem:



15) Aşağıdaki üç ürünü de alan Ada satıcıya 400 tl verirse geriye kaç tl para üstü alır?






İşlem:

		
Kavak → 256	Çam → 163	Meşe → 272

16) Yukarıdaki üç farklı ağaçların toplam sayısının 198 eksiği kaçtır?

İşlem:

	2 TL
	6 TL
	10 TL



17) Eymen kırtasiyeden 3 kalem , 2 cetvel ve 1 kitap alıyor. Kırtasiyeciye kaç TL para ödeme yapar?

İşlem:



18) Yandaki levhadaki sayının en yakın onluğu ve yüzlüğünün farkı kaçtır?

İşlem:



19) Yandaki işemin zihinden yapıldığı işlem hangisidir?

A) $60 - 40 = 20$
 $8 - 2 = 6$
 $20 + 6 = 26$

B) $68 - 2 = 66$
 $66 - 40 = 26$

C) $68 - 2 = 66$
 $66 - 4 = 62$



20) Yandaki ramaları kullanarak 500 den büyük en küçük sayının 106 eksiği kaçtır?

İşlem:

Sorular **beşer** puandır. Dikkatli oku.
Sınavda başarılar dilerim. Sınav süresi **40** dakikadır.

ENES SERT
3/A SINIF ÖĞRETMENİ

