




2. SINIF 2. DÖNEM 12. HAFTA

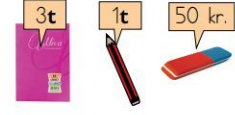
6.




Kitabın fiyatı defterin fiyatının 3 katından 3 fazladır. Buna göre kitabın fiyatı kaç TL olur?



9.




Kaan kırtasiyeden 2 silgi, 3 kalem ve bir defter alıyor. Kırtasiyeciye 20 TL veriyor. Kaan kaç TL para üstü alır?



7.




Özgü'nün cebinde yukarıdaki kadar parası vardır. 20 liralık oyuncak almak için kaç liraya ihtiyacı vardır?



8.




Yukarıdaki paraların 39 TL eksiği kaç TL eder?



10.



Sena 7.00 da uyanıyor. 1 saat sonra okula gidiyor. Sena okulda saat kaçta olmuş olur. Saati çiz ve işlemi yanda yap.





2. SINIF 2. DÖNEM 12. HAFTA

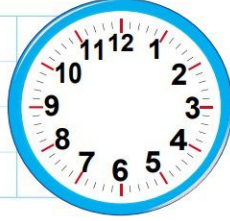
11.



İkra saati 8.00 olarak okuyor. Öğleden sonraki saati bulmasına yardımcı olalım. Analog saatte çizerek gösteriniz.

Öğleden önce:

Öğleden sonra:



13.

Aşağıdaki saatlerin okunuşlarını öğleden önce ve sonra tamamlayınız.



Öğleden önce →

01 : 30

:

Öğleden sonra →

13 : 30

:



Öğleden önce →

:

:

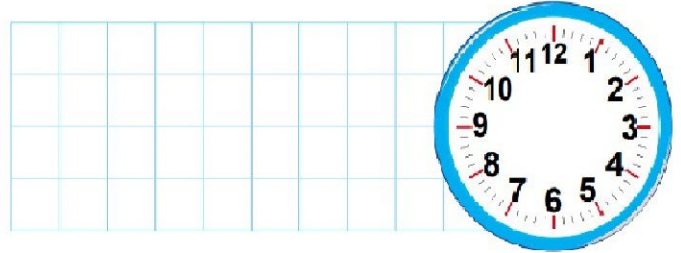
Öğleden sonra →

:

:

14.

Akrep 8 ile 9 arasında yelkovanda saat 6 üzerindedir. Bu saatten 2 saat sonra saat kaç olur? (saat üzerinde bul yanda çöz)



12.



Bütün




Çeyrek

16 çeyrek ekmek kaç bütün ekmek eder?



Cözüm:



15.

1 gün

7 gün

1 hafta

30 gün

1 ay

24 saat

Yukarıdaki zaman ifadelerinin eşleştirmesi nasıl olur?

