

1) Hangisi kişisel bir özelliktir?

- a) Kıvrıkcak saçlı olmak.      b) Uzun boylu olmak.  
c) Güzel şarkı söyleyebilmek.

- Tuğçe güzel resim yapar.
- Yiğit güzel şarkı söyler.

2) Yukarıdaki açıklamalar çocuklar arasındaki hangi farklılığı açıklamaktadır?

- a) Duygusal      b) Yetenek      c) Fiziksel

3) Hangisi sınıfımızdaki karar alma süreçlerine katılabileceğimiz bir etkinlik değildir?

- a) Pano hazırlama      b) Sınıf süsleme  
c) Öğreneceğimiz dersleri seçmek

4) Hangisi tüm dersler için kullandığımız bir araçtır?

- a)       b)       c) 

- Saygı      • Güven
- Yardımseverlik      • Kıskançlık

5) Yukarıda yazılan özelliklerden kaç tanesi grup üyeleri arasında bulunmalıdır?

- a) 1      b) 2      c) 3

6) Kan ya da evlilik yoluyla birbirine bağlı olan insanlara ..... denir.

Noktalı yere hangi ifadenin yazılması doğru olur?

- a) arkadaş      b) akraba      c) dost

7) Hangisi doğru bir bilgi değildir?

- a) Oyunda iş birliği yapmalıyız.  
b) Oyun kurallarını bir kişi belirlemelidir.  
c) Kazanan arkadaşlarımızı tebrik etmeliyiz.

1. ayakkabı      2. su  
3. çikolata      4. paten  
5. top      6. kalem

8) Yukarıdakilerden hangileri temel ihtiyaçtır?

- a) 1-4-6      b) 1-2-6      c) 2-5-6

"Okul eşyalarını ..... kullanmalıyız."

9) Cümlesinde noktalı yere hangi kelime yazılmalıdır?

- a) özenli      b) dağınık      c) yalnız

10) Hangisi temel ihtiyacımız değildir?

- a)       b)       c) 

11) Aşağıdaki öğrencilerden hangisinin akrabalarıyla dayanışma içinde olduğunu söyleyebiliriz?

- a) Ada: Teyzem taşınırken yardım ettik.  
b) Yiğit: Halam bize geldi.  
c) Tuğçe: Dedem konuşmak için aradığında oyun oynamaya devam ediyorum.

12) Hangi seçenekte kişisel bakımımızla ilgili bir durumdan bahsedilmemiştir?

- a) Tırnaklarımızı kesmek.  
b) Banyo yapmak.  
c) Oyuncaklarımızı toplamak.

13) Hayvan ve yuva eşleştirmelerinden hangisi yanlıştır?

- a) arı ----> kovan  
b) tavuk ----> ağıl  
c) civciv ----> kümes

14) Hangi seçenekteki araçların tamamı deniz yolu taşıdır?

- a) Gemi, tramvay, deniz otobüsü  
b) Feribot, şilep, sandal  
c) Vapur, metro, tren

15) Aşağıdakilerden hangisi karşıdan karşıya geçerken kullandığımız güvenli yollardan biri değildir?

- a) Alt geçit b) Yaya geçidi c) Kalabalık Yerler

16) Dünya'mız \_\_\_\_\_ şeklindedir.

Boşluğa yazılması gereken kelime hangisidir?

- a) küre b) küp c) kare

Doktorlara yardımcı olur. Ateş ölçme, iğne yapma, yaralara pansuman yapma gibi görevleri vardır.

17) Görev tanımları verilen sağlık çalışanı kimdir?

- a) eczacı b) hemşire c) hasta bakıcı

\_\_\_\_\_ yön tespit etmeye yarayan en güvenilir alettir.

18) Boşluğa gelmesi gereken kelime hangisidir?

- a) Güneş b) Pusula c) Yönerge

Yer kabuğunun ani ve şiddetli bir şekilde sallanmasına ..... denir.

19) Boşluğa gelmesi gereken kelime hangisidir?

- a) yangın b) fırtına c) deprem

20) Hangisi doğru bir bilgi değildir?

- a) Dünya'mız küre şeklindedir.  
b) Ülkemizin üç tarafı denizlerle çevrilidir.  
c) Ülkemizin etrafında başka ülke yoktur.

Ülkemizin başkenti \_\_\_\_\_'dir. İstiklâl Marşı'mız \_\_\_\_ kıtadan oluşmaktadır.

21) Yukarıdaki boşluklara sırasıyla hangileri gelmelidir?



- a) Ankara - 10  
b) İstanbul - 2  
c) Ankara - 2

22) İstiklâl Marşımız kime armağan edilmiştir?

- a) Çocuklara b) Kahraman ordumuza  
c) Türk milletine

Kurban Bayramı  gün; Ramazan Bayramı  gün sürer.

23) Yukarıdaki bilgilerin doğru olması için görsellerin yerine hangi sayılar gelmelidir?

- |   |   |
|---|---|
|  |  |
| a) 3  | 4   |
| b) 4  | 3   |
| c) 4  | 2   |

24) Hangisinin geri dönüşümü yapılamaz?

- a) kâğıt b) pet şişe c) elma

1. Bir yılda üç mevsim vardır.
2. Her mevsim doğada bazı değişimler gözlenir.
3. İnsanlar da kıyafetlerini mevsimlere göre belirler.

25) Yukarıdaki ifadelerden hangileri doğrudur?

- a) 1-3 b) 2-3 c) 1-2





1) Ece'nin yaşı 2 onluk 5 birlikten oluşuyor. Buna göre Ece kaç yaşındadır?

- a) 25      b) 22      c) 52

2) Hangi seçenekteki sayı diğerlerinde daha büyüktür?

- a) 4 deste      b) 2 düzine      c) 6 deste

3) Yanda basamak değeri verilen sayı  hangisidir?

- a) 75      b) 57      c) 50

4) 21'den başlayarak [21 dâhil] ileriye doğru üçer sayarsak 5. saymada hangi sayıyı söyleriz?

- a) 33      b) 36      c) 39

5) 16'dan başlayıp [16 dâhil] ileriye doğru dörder saydım. 4. saymada hangi sayıyı söyledim?

- a) 36      b) 32      c) 28

6) Yuvarlandığında 60 olan en büyük sayı hangisidir?

- a) 64      b) 65      c) 59

7) "46 ..... 83'ten " ifadesinde noktalı yere hangisi gelmelidir?

- a) büyüktür      b) eşittir      c) küçüktür

8) Funda, alacağı topun fiyatının 30 TL'ye yuvarlandığını söyledi. Funda'nın alacağı topun fiyatı hangisi olamaz?

- a) 35      b) 29      c) 25

9) Yukarıdaki örüntünün kuralı nedir?

- a) Sayılar onar artıyor.  
b) Sayılar onar azalıyor.  
c) Sayılar birer artıyor.

10) Hangi işlemin sonucu yanlıştır?

$\begin{array}{r} 25 \\ + 34 \\ \hline 59 \end{array}$	$\begin{array}{r} 71 \\ + 26 \\ \hline 95 \end{array}$	$\begin{array}{r} 44 \\ + 55 \\ \hline 99 \end{array}$
--	--	--

11) 2 düzine kalemin yuvarlandığı onluk hangisidir?

- a) 10      b) 20      c) 30

12) 5 onluk 1 birlikten oluşan sayı ile 3 onluk 9 birlikten oluşan sayının toplamı kaçtır?

- a) 70      b) 80      c) 90

$\begin{array}{r} 84 \\ - 15 \\ \hline \square \end{array}$	$\begin{array}{r} \square \\ - 20 \\ \hline \square \end{array}$	$\begin{array}{r} \square \\ - 18 \\ \hline A \end{array}$
---	--	--

13) Yukarıdaki işlemleri ok yönünde yaparak 'A' sayısına ulaşacağız. Buna göre 'A' sayısı kaçtır?

- a) 69      b) 31      c) 49

14) Dedem kare şeklindeki bahçesinin her kenarına 6 çiçek dikti. Bahçeye toplam kaç çiçek dikmiştir?

- a) 25      b) 24      c) 23

90 dakikalık futbol maçının  
45 dakikasını oynadık.



- 15) Buna göre maçın bitmesine kaç dakika kalmıştır?  
a) 40      b) 45      c) 50

- 16) 3/D sınıfında 35 öğrenci vardır. Kız öğrencilerin sayısı 19 olduğuna göre erkek öğrencilerin sayısı kaçtır?  
a) 14      b) 15      c) 16

- 17)  $\begin{array}{r} \square \\ + 29 \\ \hline 60 \end{array}$  Yandaki toplama işleminde  $\square$  yerine hangi sayı gelmelidir?  
a) 31      b) 49      c) 50


- 18) Kerem'in cüzdanında 3 tane 10 TL, 2 tane 5 TL ve 1 tane 20 TL vardır. Kerem'in cüzdanında toplam kaç TL'si vardır?  
a) 50      b) 60      c) 70

$$2 \times 4 = A$$

$$A \times 5 = ?$$

- 19) ? yerine hangi sayı yazılmalıdır?  
a) 8      b) 20      c) 40

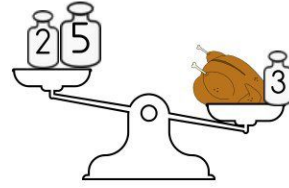
- 20) Her birinde 5 kg pirinç bulunan paketlerden 3 paket aldım. 4 kilogramını kullandım. Geriye kaç kg pirinç kalmıştır?  
a) 11      b) 15      c) 19



- 21) Yukarıdaki şekli çizmek için hangi geometrik cisim kullanabilirim?



- 22) 36 metre kurdele 4 eşit parçaya ayrılıyor. Her bir parça kaç santimetredir?  
a) 9      b) 8      c) 7



- 23) Terazinin dengede olması için hafif tarafa kaç kg'lık ağırlık daha konulmalıdır?  
a) 7      b) 6      c) 5

Tuğçe, yanda gösterilen saatten yarım saat önce eve varıyor.



- 24) Buna göre Tuğçe eve vardığında saat kaçtır?  
a) 03.30      b) 03.00      c) 04.00

$$4 \times 5 = \star$$

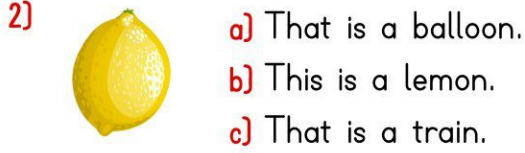
$$2 \times 2 = \text{☾}$$

- 25) Buna göre  $\begin{array}{r} \star \\ \text{---} \\ \hline \end{array}$  işleminin sonucu kaçtır?

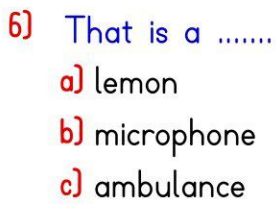
a) 3

b) 4

c) 5



3) ? yerine hangi ifade gelmelidir?




How are you?

7) Hangisi bu sorunun cevabı olabilir?

- a) Hello.      b) I'm fine.      c) See you.

8)



..... yere hangi ifade gelmelidir?

- a) name      b) your      c) she

Open the door.

9) Yukarıdaki cümleye uygun görseli işaretleyelim.



10) "Good morning." ifadesini anlatan resim hangisidir?



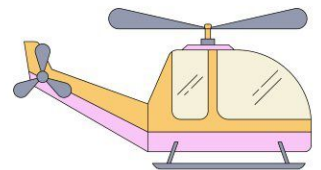
İyi geceler: ..... Günaydın: .....

11) Noktalı yerlere sırasıyla hangi ifadeler gelmelidir?

- a) Good night - Good evening  
b) Good night - Good morning  
c) Good evening - Good afternoon

12) What is this?

- a) ambulance  
b) helicopter  
c) train





13) Open your books.



14) Close the .....

- a) window
- b) cake
- c) door



15) I'm a .....  
I ..... fly.




- a) bird - can
- b) lion - can
- c) bird - can't

16) ?  
6 + 4 = ?



- a) ten
- b) seven
- c) eight

17) I'm a .....



- a) teaching
- b) school
- c) teacher

18) It is a.....



- a) purple eraser.
- b) pink pencil.
- c) yellow ruler.

19) a) play tennis  
b) walk  
c) sing



20) Thank you. a) You're welcome  
b) I'm sorry.  
c) Thanks.



21) a) run  
b) walk  
c) jump



22) a) dance  
b) sing  
c) slide




23) a) This is my nose.  
b) This is my leg.  
c) This is my ear.



24) -What is this?  
-It is my ear.



25) Three goats.





6) Alfabemizde yandaki harften önce ve sonra gelen harfler sırasıyla hangileridir?

- a) O - M      b) O - Ö      c) M - O

7) Sınıf listesinde öğrencilerin isimleri alfabetik olarak sıralanıyor. Hangi öğrenci diğerlerinden sonra yazılır?

- a) Yeliz      b) Yeşim      c) Yener

Planlı çalıştığı ..... derslerinde başarılı oluyor.

8) Yukarıdaki cümlede noktalı yere hangi sözcük gelirse anlamlı bir cümle olur?

- a) fakat      b) için      c) ama

1-börek    2-kıymalı    3-akşam

4-dün    5-yedim

9) Yukarıdaki numaralanmış kelimelerle anlamlı ve kurallı bir cümle oluşturulduğunda sıralama nasıl olur?

- a) 4-3-2-1-5      b) 4-2-3-1-5      c) 4-3-2-5-1

10) "Duru'ya hediye alacaktım ..... param yetmedi." Cümlesindeki boşluğa hangi kelime gelmelidir?

- a) fakat      b) daha      c) çünkü

11) Hangi kelime sözlükte diğerlerinden önce gelir?

- a) bardak      b) berber      c) buket

**Deyimin Anlamı:** Sorunlu bir şeyi sorun yokmuş gibi ve iyi bir şeymiş gibi göstermeye çalışmak.

12) Yukarıda anlamı verilen deyim aşağıdakilerden hangisidir?

- a) Göz atmak      b) Göz boyamak  
c) Gözden düşmek

Akrabalarımızla sevinçlerimizi, üzüntülerimizi, zor anlarımızı paylaşırız. Onlarla ilişkilerimiz sevgi ve saygıya dayanır. Akrabalarımızla dayanışma içinde oluruz ve yardımlaşırız. Düğün, bayram, asker uğurlama, cenaze töreni gibi özel günlerde bir araya geliriz. Akrabaları bir arada tutan sevgi, saygı, bağlılık, şefkat ve vefa gibi değerlerimize sahip çıkmalıyız.

MEB Hayat Bilgisi / Sayfa 72

(İlk 3 soruyu yukarıdaki metne göre cevaplayalım.)

1) Metnin başlığı hangisi olabilir?

- a) Akrabalarımız      b) Arkadaşlık      c) Dostluk

2) Hangisi akrabalarımızla bir araya geldiğimiz özel günlerden biri değildir?

- a) Bayram      b) Anneler Günü      c) Düğün

3) Hangisi akrabaları bir arada tutan değerlerimizden biri değildir?

- a) şefkat      b) vefa      c) kıskançlık



4) "Doğa" kelimesinin eş anlamlısı hangi zarftadır?

- a) 1      b) 2      c) 3

...?..... kam-

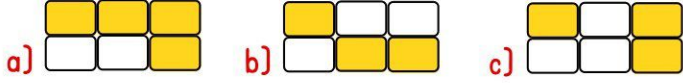
5) Satır sonuna sığmayan bu kelime hangisi olabilir?

- a) kamu      b) kamyon      c) kamera



kitab	ağaç	yamur
yanlış	yemek	sovan

13) Tabloda yazımı yanlış olan kelimeler boyanırsa tablonun görünümü nasıl olur?



14) Aşağıdaki sözcüklerden hangisi ünsüz harf ile başlayıp ünsüz harf ile bitmiştir?

- a) koyun      b) arı      c) karga

15) "Kitap okumak çok faydalıdır." Altı çizili kelimenin yerine hangisini yazarsak anlam değişmez?

- a) zarar      b) doğru      c) yarar

16) "Söz ve davranışlarında doğru olan kimse." Yukarıdaki sözlük anlamı verilen kelime aşağıdakilerden hangisidir?

- a) haklı      b) dost      c) dürüst

Karşıdan karşıya geçerken önce sola ( ) sonra sağa ( ) sonra tekrar sola bakıp geçmeliyiz ( )

17) Bu cümlede boş yerlere sırasıyla hangi noktalama işaretleri getirilmelidir?

- a) , ! .      b) , , .      c) , , !

18) Hangisi bir hikâyedeki "zaman" unsuru olabilir?

- a) Geçen gün      b) Kırmızı balık      c) Sahil

19) " Sorulara doğru yanıt verdim. "

Altı çizili kelimenin eş anlamlısı hangisidir ?

- a) sınav      b) yanlış      c) cevap

- kalemlik      • tatlı      • çilekler
- kuşlar      • güller      • tuzluk

20) Yukarıdaki kelimelerden kaç tanesi çoğul addır?

- a) 2      b) 3      c) 4

Uzak bir ülkede uçmaktan korkan bir kuş yaşamış.

21) Yukarıdaki cümlede hangi sorunun cevabı yoktur?

- a) Kim?      b) Ne zaman?      c) Nerede?

22) Hangi cümlede virgül (,) yanlış yerde kullanılmıştır?

- a) Arabanın önünde kedi, var.  
b) Süt, yağ alıp eve gel.  
c) Ankara, Türkiye'nin başkentidir.

23) Hangi cümlede özel adların yazımıyla ilgili bir yanlışlık yapılmıştır?

- a) Ülkemizin başkenti Ankara'dır.  
b) Siz Atatürk mahallesinde mi oturuyorsunuz?  
c) Van Gölü en büyük gölümüzdür.

24) Bir olayı anlatırken hangi ifadeyi olayın başında kullanabiliriz?

- a) bu sebeple      b) ancak      c) bir gün

**Atasözünün Anlamı:** Bir işten büyük zarara uğramış kişi, buna benzer işleri yaparken aşırı özen gösterir.

25) Yukarıda anlamı verilen atasözü aşağıdakilerden hangisidir?

- a) Sütten ağzı yanan yoğurdu üfleyerek yer.  
b) Üzüm üzümüne baka baka kararır.  
c) Parayı veren düdüğü çalar.