
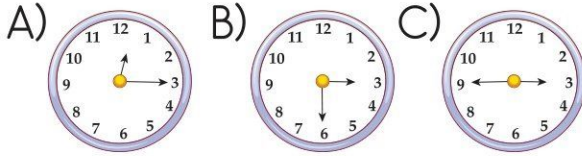


6.  Yandaki dijital saatin analog saatle gösterilişi hangisidir?

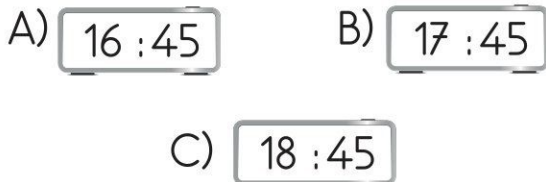


7. Aşağıdaki saatlerden hangisinde yarım saat gösterilmektedir?



8. Aşağıdakilerden hangisi öğleden önce saat on biri göstermektedir?  
A) 23.00 B) 11.00 C) 24.00

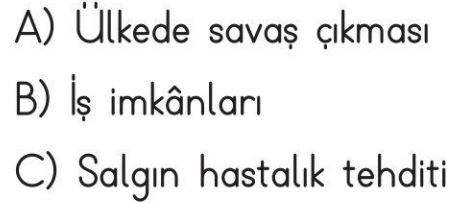
9.  Yandaki saatin öğleden sonrası dijital saatte nasıl yazılır?



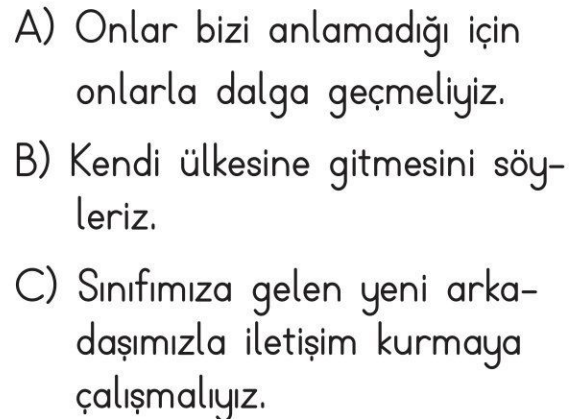
10. Aşağıdakilerden hangisi zorunlu göçün sebeplerinden birisi değildir?



11. Aşağıdakilerden hangisi isteğe bağlı göçün sebeplerden birisidir?



12. Aşağıdakilerden hangisi ülkemize göç etmek zorunda kalan insanlara yapacağımız olumlu davranıştır?





Tarih: .....  
Adım: .....  
Soyadım: .....

Maskeli hırsızlar, müzenin sessiz koridorlarında, parmaklarının ucuna basarak yürüyorlardı. Haftalardır bu soygunu planladıkları için gümüş para koleksiyonunun nerede sergilendiğini iyi biliyorlardı.

Tülin Aygül ÇINAR  
(Kısaltılmıştır.)

İlk üç soruyu yukarıdaki metne göre cevaplayınız.

1. Metnin başlığı aşağıdakilerden hangisi olabilir?  
A) Sessiz Koridor  
B) Pazar Eğlencesi  
C) Müzedeki Soygun
2. Maskeli hırsızlar koridorda nasıl yürüyorlardı?  
A) Çok hızlı yürüyorlardı.  
B) Parmaklarının ucuna basarak yürüyorlardı.  
C) Dizlerinin üzerinde yürüyorlardı.

3. Maskeli hırsızlar neyin sergilendiği yeri biliyorlardı?  
A) Ünlü tablo B) Kırmızı elmas  
C) Para koleksiyonu

4. Aşağıdaki cümlelerin hangisinde sebep - sonuç ilişkisi vardır?  
A) Evi uzak olduğundan geç kaldı.  
B) Kalemliğimin içini temizledim.  
C) Günlük iki litre su içmeliyiz.

5. Derslerine çalışmadığı için .....

- Yukarıdaki cümle aşağıdakilerden hangisiyle tamamlanabilir?
- A) uykusu geldi.
  - B) yağmur yağıyor.
  - C) zayıf not aldı.